

## مجموعه سوالات آیین نامه راهنمایی و رانندگی

این مجموعه شامل 663 سوال چهار گزینه ای همراه با پاسخ آزمون راهنمایی و رانندگی می باشد.

### سوالات بخش 1 - علائم راهنمایی و رانندگی

1- مفهوم تابلوی روبرو چیست ؟

- 1 ✓ خطر سقوط در آب
- 2 خطر سقوط در دره
- 3 خطر سقوط
- 4 هر سه مورد

2- مفهوم تابلوی روبرو چیست ؟

- 1 محل پرواز بادبادک
- 2 وزش باد شدید از راست
- 3 ✓ جهت وزش باد شدید از چپ
- 4 وزش باد شدید

3- مفهوم تابلوی روبرو چیست ؟

- 1 خطر در گردش به چپ و به راست
- 2 خطر در گردش به راست و به چپ
- 3 ✓ پیچ های پی در پی (اولین پیچ به راست)
- 4 پیچ های خطرناک

4- مفهوم تابلوی روبرو چیست ؟



- 1) خطر در گردش به چپ راست
- 2) پیچ های خطرناک
- 3) خطر در گردش به راست و به چپ
- 4) پیچ های پی در پی (اولین پیچ به چپ) ✓

5- مفهوم تابلوی روبرو چیست ؟



- 1) عبور اطفال ✓
- 2) خطر عبور کودکان
- 3) محل عبور اطفال
- 4) محل عبور عابرین

6- مفهوم تابلوی روبرو چیست ؟



- 1) ریزش سنگ ✓
- 2) خطر سقوط در دره
- 3) ریزش کوه
- 4) ریزش بهمن

7- وجود تابلویی به شکل زیر در جاده به چه معناست ؟

- 1) تنها باید با سرعت مشخص شده در تابلو رانندگی کنید
- 2) سرعت مذکور حداقل سرعتی است که توصیه می شود
- 3) نباید از سرعت نشان داده شده در تابلو تجاوز کنید ✓
- 4) سرعت مذکور برای شرایط مختلف جاده و آب و هواست



8- مفهوم تابلوی روبرو چیست ؟

(1) خطر

(2) جهت هشدار ✓

(3) رعایت حق تقدم

(4) هیچکدام



9- مفهوم تابلوی روبرو چیست ؟

(1) تقاطع راه آهن بدون راه بند

(2) ایستگاه قطار شهری

(3) تقاطع راه آهن

(4) تقاطع مسیر قطار شهری ✓



10- مفهوم تابلوی روبرو چیست ؟

(1) سربالایی خطرناک ✓

(2) شیب خطرناک

(3) سرازیری خطرناک

(4) شانه خطرناک



11- مفهوم تابلوی روبرو چیست؟



- (1) جاده شیب دار
- (2) شیب سرازیری ده درصد ✓
- (3) شیب سربالایی ده درصد
- (4) شیب خطرناک

12- مفهوم تابلوی روبرو چیست؟



- (1) توقف ممنوع
- (2) پایان محدوده توقف ممنوع
- (3) پایان توقف ممنوع
- (4) محدوده توقف ممنوع در طول شبانه روز ✓

13- مفهوم تابلوی روبرو چیست؟



- (1) کاروان
- (2) مهمانسرا ✓
- (3) کمپینگ
- (4) همه موارد

14- مفهوم تابلوی روبرو چیست؟



- (1) جاده دست انداز دارد
- (2) به دست انداز نزدیک می شوید
- (3) عبور با احتیاط از دست انداز
- (4) دست انداز ✓

15- مفهوم تابلوی روبرو چیست؟

(1) تقاطع ✓

(2) سه راهی T شکل

(3) بن بست

(4) فرعی از چپ و راست



16- مفهوم تابلوی روبرو چیست ؟

(1) گردش به راست ممنوع

(2) پیچ به راست ✓

(3) خطر در گردش به راست

(4) گردش به چپ ممنوع



17- مفهوم تابلوی روبرو چیست ؟

(1) متل

(2) استراحتگاه اتوکاروان

(3) محل مسکونی

(4) استراحتگاه (کاروان) ✓



18- مفهوم تابلوی روبرو چیست ؟

(1) به میدان نزدیک می شوید

(2) خطر برف

(3) به تابلوی ایست نزدیک می شوید ✓

(4) به تابلوی رعایت حق تقدم نزدیک می شوید





- (1) با دقت گوش دهید
- (2) عبور ناشنویان ممنوع
- (3) احتیاط محل عبور ناشنویان
- (4) راننده ناشنوا ✓



- (1) ابتدای روستا
- (2) ابتدای شهر
- (3) ابتدای منطقه مسکونی ✓
- (4) شهر



- (1) توقف ممنوع
- (2) محدوده توقف ممنوع در ساعات معین
- (3) پایان محدوده توقف ممنوع ✓
- (4) محدوده توقف ممنوع در طول شبانه روز



- (1) به طرف بیمارستان
- (2) توقفگاه بیمارستان
- (3) بیمارستان ✓
- (4) گزینه های 1 و 3 صحیح است

- (1) چادر



- (2) استراحتگاه چادر کاروان  
(3) استراحتگاه (چادر) ✓  
(4) همه موارد



24- مفهوم تابلوی روبرو چیست ؟

- (1) تلفن عمومی راه دور  
(2) تلفن عمومی ✓  
(3) مخابرات  
(4) تلفن سیار



25- مفهوم تابلوی روبرو چیست ؟

- (1) زیرگذر یا روگذر ✓  
(2) راهروی مخصوص عابرین  
(3) پل هوایی و تونل زیرگذر پیاده  
(4) مسیر مخصوص عابرین پیاده



26- مفهوم تابلوی روبرو چیست ؟

- (1) به تعمیرگاه نزدیک می شوید  
(2) تعمیرگاه سواری  
(3) تعمیرگاه ✓  
(4) محل فروش ابزار آلات

27- مفهوم تابلوی روبرو چیست ؟

1) مهمانسرا 500 متر ✓

2) مهمانسرا

3) به طرف اردوگاه 500 متر

4) به طرف مهمانسرا با تعیین فاصله



28- مفهوم تابلوی روبرو چیست ؟

1) ابتدای بوق زدن ممنوع

2) بوق زدن آزاد

3) پایان بوق زدن ممنوع ✓

4) بوق زدن ممنوع



29- مفهوم تابلوی روبرو چیست ؟

1) رعایت حق تقدم

2) خطر کولاک و مه

3) خطر ✓

4) علامت تعجب



30- تابلوی مقابل به چه معناست ؟

1) حداکثر سرعت 30 کیلومتر در ساعت

2) محل استراحت در 30 کیلومتری

3) منطقه اتو سرویس در 30 کیلومتری

4) حداقل سرعت 30 کیلومتر در ساعت ✓



31- مفهوم تابلوی روبرو چیست ؟





- (1) تراکم اتومبیل
- (2) تراکم ترافیک ✓
- (3) سبقت ممنوع
- (4) خطر در سبقت



32- مفهوم تابلوی روبرو چیست؟

- (1) غذاخوری (رستوران) ✓
- (2) متل
- (3) هتل
- (4) قهوه خانه



33- مفهوم تابلوی روبرو چیست؟

- (1) کارگران مشغول کارند ✓
- (2) عبور عابر ممنوع
- (3) محل عبور کارگران
- (4) جاده در دست تعمیر



34- مفهوم تابلوی روبرو چیست؟

- (1) خیابان دو طرفه
- (2) جاده دو طرفه ✓
- (3) عبور دو طرفه
- (4) به خیابان دو طرفه نزدیک می شوید



- 1) پارکینگ ✓
- 2) محل پارک وسائط نقلیه
- 3) محل پارک سواری
- 4) محل توقف اتوبوس

36- مفهوم تابلوی روبرو چیست؟



- 1) جهت وزش باد شدید از راست ✓
- 2) وزش باد شدید از چپ
- 3) وزش باد شدید
- 4) محل پرواز بادبادک

37- مفهوم تابلوی روبرو چیست؟



- 1) انتهای منطقه سرعت محدود
- 2) ابتدای محدودیت ها
- 3) پایان سبقت ممنوع
- 4) پایان تمام محدودیت ها ✓

38- مفهوم تابلوی روبرو چیست؟



- 1) پست امدادی صلیب سرخ
- 2) چهار راه هم عرض
- 3) پست امدادی هلال احمر
- 4) پست امدادی ✓



- 1) تقاطع راه آهن بدون راه بند ✓
- 2) تقاطع جاده و راه آهن
- 3) تقاطع جاده و راه آهن با راه بند
- 4) گزینه های 2 و 3 صحیح است



- 1) عبور دادن حیوانات ممنوع
- 2) محل عبور حیوانات شاخ دار
- 3) محل عبور حیوانات اهلی
- 4) عبور حیوانات وحشی ✓



- 1) تعیین فاصله با شهر بعدی
- 2) 18 کیلومتری تهران
- 3) تعیین فاصله
- 4) راهنمای مسیر ✓



- 1) عبور کامیون با تریلی ممنوع
- 2) عبور وسائط نقلیه سنگین ممنوع
- 3) عبور تریلی ممنوع
- 4) عبور کامیون ممنوع ✓



- (1) عبور وسائط نقلیه سنگین ممنوع
- (2) عبور کامیون یدک دار ممنوع ✓
- (3) عبور دو تریلی با هم ممنوع
- (4) عبور وسایل نقلیه طولی ممنوع

44- مفهوم تابلوی روبرو چیست ؟



- (1) بن بست ✓
- (2) راه بسته است
- (3) تقاطع
- (4) راه خطرناک است

45- مفهوم تابلوی روبرو چیست ؟




- (1) تقاطع خطرناک
- (2) فرعی به اصلی
- (3) تقاطع
- (4) تقاطع فرعی و اصلی ✓

46- مفهوم تابلوی روبرو چیست ؟



- (1) عبور اطفال ممنوع
- (2) عبور عابر ممنوع
- (3) عبور پیاده ممنوع ✓
- (4) محل عبور عابر پیاده

47- مفهوم تابلوی روبرو چیست ؟



- (1) تقاطع
- (2) خطر در تقاطع جاده
- (3) تقاطع با راه آهن ✓
- (4) به تقاطع نزدیک می شوید

48- مفهوم تابلوی روبرو چیست ؟



- (1) عبور با طول بیش از 10 متر ممنوع ✓
- (2) عبور با ارتفاع بیش از 10 متر ممنوع
- (3) عبور با عرض بیش از 10 متر ممنوع
- (4) عبور ممنوع

49- مفهوم تابلوی روبرو چیست ؟



- (1) تعیین فاصله 100 متری با راه آهن
- (2) تقاطع جاده و راه آهن بدون راه بند، نصب در 100 متری ✓
- (3) تقاطع جاده و راه آهن با راه بند، نصب در 100 متری
- (4) گزینه های 2 و 3 صحیح است

50- مفهوم تابلوی روبرو چیست ؟

- (1) منطقه عبور گاو اهلی
- (2) عبور حیوانات اهلی ✓
- (3) عبور دادن حیوانات ممنوع

4) عبور گاو ممنوع

51- مفهوم تابلوی روبرو چیست؟

- 1) تقاطع جاده و راه آهن بدون راه بند، نصب در 300 متری
- 2) تعیین فاصله 300 متری با راه بند
- 3) تقاطع جاده و راه آهن با راه بند، نصب در 300 متری ✓
- 4) 100 متر مانده به راه آهن

52- مفهوم تابلوی روبرو چیست؟

- 1) تقاطع جاده و راه آهن بدون راه بند، نصب در 100 متری
- 2) تعیین فاصله 100 متری با راه بند
- 3) 100 متر مانده به راه آهن
- 4) تقاطع جاده و راه آهن با راه بند، نصب در 100 متری ✓

53- مفهوم تابلوی روبرو چیست؟

- 1) عبور دوچرخه موتوردار ممنوع
- 2) عبور بدون کلاه کاسکت ممنوع
- 3) عبور دوچرخه ممنوع
- 4) عبور موتورسیکلت ممنوع ✓



54- مفهوم تابلوی روبرو چیست ؟

(1) تقاطع ✓

(2) تقاطع اصلی به فرعی

(3) تقاطع فرعی به اصلی

(4) تقاطع با راه آهن



55- مفهوم تابلوی روبرو چیست ؟

(1) عبور با وزن بیش از 5.5 تن ممنوع

(2) عبور کامیون 5.5 تنی ممنوع

(3) عبور وسایل نقلیه با وزن بیش از 5.5 تن ممنوع ✓

(4) عبور ممنوع



56- مفهوم تابلوی روبرو چیست ؟

(1) راهنمای ورود به شهرها

(2) راهنمای در راه اصلی

(3) راهنمای مسیر

(4) راهنمای ورود به شهر و تعیین فاصله با شهر بعدی ✓



57- مفهوم تابلوی روبرو چیست ؟



- (1) عبور با ارتفاع 2.4 متر ممنوع
- (2) عبور با عرض 2.4 متر ممنوع
- (3) عبور با وزن 2.4 تن ممنوع
- (4)  عبور با بار بیش از 2.4 تن بر هر محور ممنوع

58- مفهوم تابلوی روبرو چیست ؟



- (1) خطر در تقاطع خطوط راه آهن
- (2)  تقاطع با راه آهن دو خطه
- (3) تقاطع خطوط راه آهن
- (4) هیچکدام

59- مفهوم تابلوی روبرو چیست ؟



- (1) عبور ممنوع
- (2) عبور وسایل نقلیه ممنوع
- (3)  عبور سواری ممنوع
- (4) عبور اتومبیل ممنوع

60- مفهوم تابلوی روبرو چیست ؟

- (1) به ایستگاه اتوبوس نزدیک می شوید
- (2) توقف در ایستگاه اتوبوس ممنوع
- (3) ایستگاه





4 ایستگاه اتوبوس ✓

61- مفهوم تابلوی روبرو چیست؟

- (1) عبور کامیون و تریلی ممنوع
- (2) عبور تریلی با بار ممنوع
- (3) عبور خودرو با یدک ممنوع ✓
- (4) کمپینگ

62- مفهوم تابلوی روبرو چیست؟

- (1) سبقت ممنوع
- (2) عبور ممنوع
- (3) عبور کلیه وسایل نقلیه ممنوع ✓
- (4) عبور دوچرخه، سواری و گاری ممنوع

63- مفهوم تابلوی روبرو چیست؟

- (1) عبور با وزن بیش از 3.5 تن ممنوع
- (2) عبور با ارتفاع بیش از 3.5 متر ممنوع ✓
- (3) عبور با عرض بیش از 3.5 متر ممنوع
- (4) عبور ممنوع



64- مفهوم تابلوی روبرو چیست ؟



- 1) عبور موتور گازی ممنوع ✓
- 2) عبور موتورسیکلت ممنوع
- 3) عبور دوچرخه ممنوع
- 4) محل عبور موتور سوار

65- مفهوم تابلوی روبرو چیست ؟



- 1) فرودگاه
- 2) جهت وزش باد شدید از راست ✓
- 3) جهت وزش باد شدید از چپ
- 4) شرایط هوای نامساعد

66- مفهوم تابلوی روبرو چیست ؟



- 1) راهنما در راه فرعی
- 2) راهنما در جاده
- 3) راهنما در راه اصلی
- 4) راهنمای مسیر ✓

67- مفهوم تابلوی روبرو چیست ؟

- (1) سرعت بیش از 30 کیلومتر در ساعت ممنوع
- (2) پایان حداقل سرعت 30 کیلومتر در ساعت ✓
- (3) حداقل سرعت 30 کیلومتر در ساعت
- (4) هیچکدام



68- مفهوم تابلوی روبرو چیست ؟

- (1) سرعت کمتر از 30 کیلومتر بر ساعت ممنوع
- (2) حداقل سرعت در بزرگراه
- (3) حداقل سرعت 30 کیلومتر
- (4) سرعت بیش از 30 کیلومتر بر ساعت ممنوع ✓



69- مفهوم تابلوی روبرو چیست ؟

- (1) پست امدادی صلیب سرخ
- (2) پست امدادی ✓
- (3) پست امدادی هلال احمر
- (4) همه موارد



70- مفهوم تابلوی روبرو چیست ؟

- (1) ابتدای ورود به شهر در راه اصلی
- (2) ابتدای شهر ✓
- (3) ابتدای ورود به شهر
- (4) ورود به شهر



71- مفهوم تابلوی روبرو چیست ؟

1) استراحتگاه ✓

2) اردوگاه

3) محل نصب چادر و اتوکاروان

4) هیچکدام



72- مفهوم تابلوی روبرو چیست ؟

1) توقف در ایستگاه تاکسی ممنوع

2) ایستگاه

3) ایستگاه تاکسی ✓

4) به ایستگاه تاکسی نزدیک می شوید



73- مفهوم تابلوی روبرو چیست ؟

1) به طرف فرودگاه تهران

2) عبور هواپیما

3) راهنمای مسیر ✓

4) فرودگاه



74- مفهوم تابلوی روبرو چیست ؟

1) راهنمای مسیر ✓

2) به طرف فرودگاه تهران

3) فرودگاه

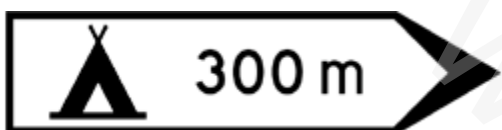
4) فرودگاه در سمت چپ تهران





- (1) 18 کیلومتری تهران
- (2) راهنمای مسیر ✓
- (3) تعیین فاصله
- (4) تعیین فاصله با شهر بعدی

76- مفهوم تابلوی روبرو چیست؟



- (1) به طرف استراحتگاه (کاروان) 300 متر
- (2) به طرف مثل با تعیین فاصله
- (3) استراحتگاه (چادر) 300 متر ✓
- (4) 300 متر به محل برپایی چادر

77- مفهوم تابلوی روبرو چیست؟



- (1) راهنما در راه فرعی
- (2) راهنمای مسیر ✓
- (3) راهنما در راه اصلی
- (4) راهنما در جاده

78- مفهوم تابلوی روبرو چیست؟



- (1) محدوده پارک آزاد ✓
- (2) پارکینگ
- (3) محل پارک سوار
- (4) پایان محدوده توقف ممنوع

79- مفهوم تابلوی روبرو چیست؟

(1) تقاطع جاده و راه آهن با راه بند، نصب در 300 متری



(2) تعیین فاصله 300 متری با راه آهن

(3) 300 متر مانده به راه آهن

(4) تقاطع جاده و راه آهن بدون راه بند، نصب در 300 متری ✓



80- مفهوم تابلوی روبرو چیست ؟

(1) قهوه خانه

(2) خوابگاه

(3) هتل ✓

(4) غذاخوری (رستوران)



81- مفهوم تابلوی روبرو چیست ؟

(1) ورود به شهر ✓

(2) علامت ورود به شهر در جاده

(3) ابتدای ورود به شهر در جاده

(4) ابتدای تهران



82- مفهوم تابلوی روبرو چیست ؟

(1) حداکثر سرعت

(2) شماره خیابان

(3) حداقل سرعت

(4) سرعت توصیه شده ✓

83- مفهوم تابلوی روبرو چیست ؟



- (1) پارکینگ همگانی
- (2) عبور معلولین
- (3) پارکینگ مخصوص افراد معلول ✓
- (4) پارک برای معلولین ممنوع

84- مفهوم تابلوی روبرو چیست ؟



- (1) پایان آزاد راه ✓
- (2) پایان تقاطع آزاد راه با پل
- (3) آزاد راه
- (4) تقاطع آزاد راه با پل

85- مفهوم تابلوی روبرو چیست ؟



- (1) سبقت ممنوع
- (2) پایان سبقت ممنوع ✓
- (3) پایان محدودیت سرعت
- (4) ابتدای سبقت ممنوع

86- مفهوم تابلوی روبرو چیست ؟



- (1) حق تقدم عبور با سواری
- (2) عبور کامیون ممنوع
- (3) سبقت برای کامیون ممنوع ✓
- (4) سبقت ممنوع

87- مفهوم تابلوی روبرو چیست ؟



1) سبقت ممنوع ✓

2) خیابان دوطرفه

3) انتهای سبقت ممنوع

4) سبقت سواری ممنوع

88- مفهوم تابلوی روبرو چیست ؟



1) عبور وسایل نقلیه موتوری ممنوع

2) ✓ سرعت بیش از 30 کیلومتر در ساعت برای کامیون و بیش از 50 کیلومتر در ساعت برای سواری ممنوع

3) محدودیت سرعت

4) عبور کامیون و سواری ممنوع

89- کدام یک از تابلوهای زیر مفهوم آن است که پیچهایی در جلو وجود دارد ؟



1) شکل شماره 2

2) شکل شماره 3

3) ✓ شکل شماره 1

4) شکل شماره 4

90- مفهوم تابلوی روبرو چیست ؟

1) زنجیر چرخ

2) استفاده اجباری از زنجیر چرخ

3) ✓ عبور فقط با زنجیر چرخ





4) پایان استفاده از زنجیر چرخ



91- مفهوم تابلوی روبرو چیست ؟

- 1) فاصله تا محل خطر 300 متر
- 2) فاصله تا ریل قطار 300 متر
- 3) خروجی از آزاد راه 300 متر ✓
- 4) فاصله تا محل خطر



92- تابلوی روبرو به چه معناست ؟

- 1) بن بست
- 2) انتهای بزرگراه
- 3) آزادراه
- 4) پایان آزاد راه ✓



93- مفهوم تابلوی روبرو چیست ؟

- 1) خیابان فرعی
- 2) راه فرعی
- 3) راه اصلی
- 4) خیابان اصلی ✓

94- مفهوم تابلوی روبرو چیست ؟



- (1) جنگل
- (2) تفرجگاه ✓
- (3) استراحتگاه
- (4) محل نشستن

95- مفهوم تابلوی روبرو چیست ؟



- (1) پایان محدودیت سرعت 40 کیلومتر در ساعت ✓
- (2) محدودیت سرعت 40 کیلومتر در ساعت
- (3) پایان محدودیت سرعت در شهر
- (4) انتهای سرعت حرکت

96- مفهوم تابلوی روبرو چیست ؟



- (1) جاده باریک می شود
- (2) کاهش خطوط عبور ✓
- (3) افزایش خطوط عبور
- (4) سبقت از راست آزاد است

97- مفهوم تابلوی روبرو چیست ؟

- (1) پایان خیابان اصلی ✓
- (2) پایان راه اصلی
- (3) پایان راه فرعی
- (4) گزینه های 2 و 3 صحیح است



98- مفهوم تابلوی روبرو چیست ؟

- 1) عبور وسایل نقلیه موتوری ممنوع ✓
- 2) عبور اتومبیل ممنوع
- 3) عبور سواری و موتورسیکلت ممنوع
- 4) عبور ممنوع



99- مفهوم تابلوی روبرو چیست ؟

- 1) خطر در گردش به چپ
- 2) گردش به چپ ممنوع ✓
- 3) دور زدن ممنوع
- 4) هیچکدام



100- مفهوم تابلوی روبرو چیست ؟

- 1) خطر در گردش به راست
- 2) دور زدن ممنوع
- 3) دور زدن به راست ممنوع
- 4) گردش به راست ممنوع ✓



101- مفهوم تابلوی روبرو چیست ؟



(1) ایست

(2) ورود ممنوع

(3) ایست - بازرسی (گمرک) ✓

(4) ایست پلیس

102- مفهوم تابلوی روبرو چیست ؟



(1) عبور از مقابل آزاد

(2) حق تقدم عبور با وسیله نقلیه مقابل است ✓

(3) عبور از مقابل ممنوع

(4) خیابان دوطرفه

103- مفهوم تابلوی روبرو چیست ؟

(1) 200 متر به پایان راه اصلی

(2) 200 متر به پایان خیابان اصلی ✓

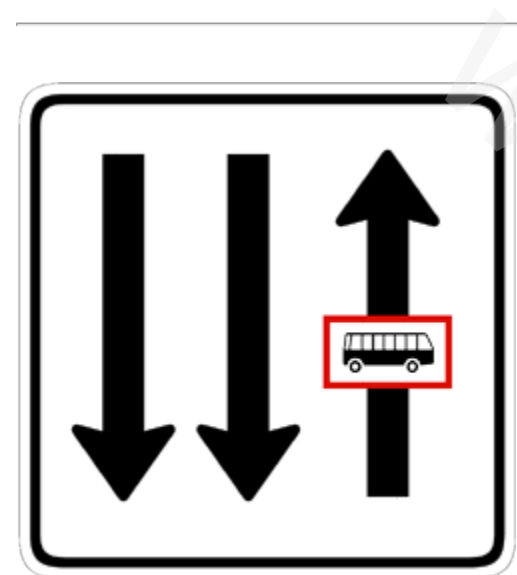
(3) 200 متر به پایان راه فرعی

(4) گزینه های 2 و 3 صحیح است



104- مفهوم تابلوی روبرو چیست؟

- 1) خط ویژه عبور ✓
- 2) عبور اتوبوس ممنوع
- 3) ایستگاه اتوبوس
- 4) عبور اتوبوس مجاز



105- مفهوم تابلوی روبرو چیست؟

- 1) تقاطع راه آهن با راه بند ✓
- 2) تقاطع جاده و راه آهن با راه بند، نصب در محل تقاطع
- 3) تقاطع جاده با راه بند
- 4) چمنزار



106- مفهوم تابلوی روبرو چیست؟

- 1) افزایش خطوط عبور ✓
- 2) راه عریض می شود
- 3) کاهش خطوط عبور
- 4) سبقت آزاد



107- مفهوم تابلوی روبرو چیست ؟

- (1) گردش به چپ ممنوع
- (2) محدودیت گردش به چپ
- (3) خطر در دور زدن
- (4) دور زدن ممنوع ✓




108- مفهوم تابلوی روبرو چیست ؟

- (1) سبقت از راست ممنوع
- (2) کاهش خطوط عبور
- (3) راه بن بست است
- (4) بسته بودن یکی از خطوط ✓

109- مفهوم تابلوی روبرو چیست ؟

- (1) پایان رعایت حق تقدم



- (2) خطر کولاک و مه
- (3) محل رعایت حق تقدم ✓
- (4) خطر در چهارراه



110- مفهوم تابلوی روبرو چیست ؟

- (1) ایست ✓
- (2) توقف مطلقا ممنوع
- (3) عبور ممنوع
- (4) توقف ممنوع



111- مفهوم تابلوی روبرو چیست ؟

- (1) لطفا بوق نزنید
- (2) ابتدای بوق زدن ممنوع
- (3) بوق نزنید
- (4) بوق زدن ممنوع ✓

112- مفهوم تابلوی روبرو چیست ؟

- (1) خط عبور برای گریز ✓
- (2) راه اصلی بن بست است
- (3) خروجی از سمت چپ
- (4) بن بست



113- مفهوم تابلوی روبرو چیست ؟

(1) ورود ممنوع ✓

(2) توقف ممنوع

(3) عبور از دو طرف ممنوع

(4) خیابان یک طرفه



114- تابلوی روبرو به چه معناست ؟

(1) وسایل نقلیه مقابل حق تقدم دارند

(2) شما نسبت به وسیله نقلیه ای که به طرف شما می آید حق تقدم دارید ✓

(3) پایان خیابان دو طرفه

(4) مسیر ویژه اتوبوس شروع می شود



115- مفهوم تابلوی روبرو چیست ؟

(1) دستشویی مردانه

(2) دستشویی بین راهی

(3) علائم بین المللی جاده ای

(4) دستشویی ✓





116- تابلوی روبرو به چه معناست؟

1 (1) توقف ممنوع ✓

2 (2) محدودیت سرعت

3 (3) توقف آزاد است

4 (4) راه آزاد است (بدون توقف)



117- مفهوم تابلوی روبرو چیست؟

1 (1) آزاد راه باریک می شود

2 (2) پایان آزاد راه

3 (3) آزاد راه ✓

4 (4) پل روی آزادراه



118- تابلوی روبرو را حین رانندگی در مقابل خود می بینید، به چه معناست؟

1 (1) منطقه توقف ممنوع ✓

2 (2) توقف ممنوع

3 (3) محدودیت سرعت

4 (4) ورود ممنوع



119- مفهوم تابلوی روبرو چیست؟

- 1) ورود از هر دو طرف ممنوع ✓
- 2) ایست
- 3) خطر
- 4) عبور ممنوع



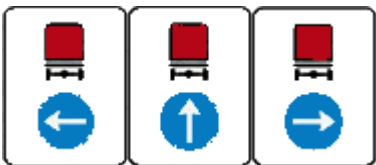
120- مفهوم تابلوی روبرو چیست؟

- 1) فقط عبور پیاده و دوچرخه ✓
- 2) عبور ممنوع
- 3) عبور پیاده و دوچرخه ممنوع
- 4) ابتدای عبور دوچرخه سوار



121- مفهوم تابلوی روبرو چیست؟

- 1) تعیین جهت حرکت
- 2) مسیر کامیون حامل کالای خطرناک ✓
- 3) تعیین مسیر حرکت وسایل سنگین در راه اصلی
- 4) مسیر حرکت کامیون



122- مفهوم تابلوی روبرو چیست؟

- 1) شروع محل پیاده روی ✓
- 2) عبور عابر پیاده ممنوع
- 3) محل عبور عابر
- 4) عبور سالخوردگان



123- مفهوم تابلوی روبرو چیست ؟

- (1) حداقل سرعت در خطهای عبور
- (2) ابتدای حداکثر سرعت در بزرگراه
- (3) حداکثر سرعت در خطهای عبور ✓
- (4) هیچکدام



124- مفهوم تابلوی روبرو چیست ؟

- (1) منطقه توقف
- (2) توقف مطلقا ممنوع
- (3) ایستادن ممنوع
- (4) توقف ممنوع ✓



125- تابلوی روبرو به چه معناست ؟

- (1) حق تقدم عبور با وسایل نقلیه مقابل است
- (2) خیابان دو طرفه
- (3) سبقت ممنوع ✓
- (4) گردش به راست ممنوع



126- مفهوم تابلوی روبرو چیست ؟

- (1) محل عبور با ویلچیر
- (2) راننده معلول ✓
- (3) محل عبور بامعلولین



4) عبور معلولین ممنوع



127- مفهوم تابلوی روبرو چیست؟

- 1) عبور از سمت چپ مجاز
- 2) عبور فقط به چپ
- 3) فقط گردش به چپ مجاز ✓
- 4) جهت نما در راه اصلی



128- مفهوم تابلوی روبرو چیست؟

- 1) عبور خودروی کشاورزی ممنوع ✓
- 2) عبور وسایل نقلیه سنگین ممنوع
- 3) عبور ممنوع
- 4) عبور وسایل نقلیه کندرو ممنوع

129- مفهوم تابلوی روبرو چیست؟

- 1) عبور با طول بیش از دو متر ممنوع
- 2) عبور با عرض بیش از دو متر ممنوع ✓
- 3) عبور با ارتفاع بیش از دو متر ممنوع
- 4) عبور ممنوع



130- مفهوم تابلوی روبرو چیست ؟

- (1) جاده گل آلود است
- (2) جاده لغزنده است
- (3) منطقه پرتاب سنگ
- (4) پرتاب سنگ ✓



131- مفهوم تابلوی روبرو چیست ؟

- (1) چراغ راهنما، نصب در چهارراه
- (2) عدم وجود چراغ راهنما در چهارراه
- (3) چراغ راهنما ✓
- (4) هیچکدام




132- مفهوم تابلوی روبرو چیست ؟

- (1) فرودگاه
- (2) باند فرودگاه (پرواز هواپیما در ارتفاع کم) ✓
- (3) به طرف فرودگاه
- (4) فرودگاه در سمت چپ



133- مفهوم تابلوی روبرو چیست؟

- ✓ (1) 300 متر به محل رعایت حق تقدم
- (2) خطر کولاک و مه
- (3) محل رعایت حق تقدم
- (4) هیچکدام



134- مفهوم تابلوی روبرو چیست؟

- ✓ (1) توقف در روزهای زوج هفته ممنوع
- (2) پایان محدوده توقف ممنوع
- (3) پارک ممنوع
- (4) توقف در روزهای فرد هفته ممنوع



135- مفهوم تابلوی روبرو چیست؟

- (1) انتهای حداقل سرعت
- (2) ابتدای حداقل سرعت در بزرگراه
- (3) حداکثر سرعت در خطهای عبور
- ✓ (4) حداقل سرعت در خطهای عبور



136- مفهوم تابلوی روبرو چیست؟

- (1) پل در دست تعمیر
- ✓ (2) پل متحرک
- (3) خطر سقوط در آب
- (4) خطر سقوط در آب



137- مفهوم تابلوی روبرو چیست ؟

- (1) خروجی سمت چپ
- (2) ✓ عبور مستقیم و گردش به چپ مجاز
- (3) فرعی از سمت چپ
- (4) جهت نما در راه اصلی



138- مفهوم تابلوی روبرو چیست ؟

- (1) محل رعایت حق تقدم
- (2) خطر کولاک و مه
- (3) میدان
- (4) ✓ به تابلوی رعایت حق تقدم نزدیک می شوید



139- مفهوم تابلوی روبرو چیست ؟

- (1) ✓ پایان منطقه محدودیت سرعت
- (2) منطقه محدودیت سرعت
- (3) حداکثر سرعت 30 کیلومتر در ساعت
- (4) پایان حداکثر سرعت 30 کیلومتر در ساعت





- (1) عبور اسب سوار ممنوع
- (2) عبور وسایل نقلیه ممنوع
- (3) عبور وسایل نقلیه بدون موتور ممنوع
- (4) عبور گاری ممنوع ✓

141- مفهوم تابلوی روبرو چیست؟



- (1) قهوه خانه
- (2) مثل
- (3) چایخانه ✓
- (4) غذا خوری

142- مفهوم تابلوی روبرو چیست؟



- (1) ایستگاه اتوبوس
- (2) پارکینگ قطار شهری
- (3) ایستگاه
- (4) ایستگاه قطار شهری ✓

143- مفهوم تابلوی روبرو چیست؟



- (1) پارکینگ اتوبوس
- (2) ایستگاه اتوبوس ✓
- (3) ایستگاه
- (4) توقف در ایستگاه ممنوع



144- مفهوم تابلوی روبرو چیست ؟



(1) پارک سوار ✓

(2) محدوده پارک آزاد

(3) پارک سوار مترو

(4) پارکینگ

145- مفهوم تابلوی روبرو چیست ؟

(1) به پل نزدیک می شود

(2) جاده باریک می شود ✓

(3) جاده عریض می شود

(4) گزینه های 1 و 3 صحیح است

146- مفهوم تابلوی روبرو چیست ؟

(1) راه از سمت راست باریک می شود ✓

(2) راه در سمت چپ مستقیم است

(3) جاده باریک می شود

(4) گزینه های 1 و 2 صحیح است

147- مفهوم تابلوی روبرو چیست ؟

(1) تونل در دست تعمیر

(2) تونل ✓

(3) پایان تونل

(4) احتیاط در تونل



- (1) جهت نما در راه اصلی
- (2) فرعی از سمت راست
- (3) خروجی سمت راست
- (4) عبور مستقیم و گردش به راست مجاز ✓



- (1) منطقه توقف مطلقا ممنوع
- (2) پایان محدوده پارک ممنوع
- (3) پارک ممنوع
- (4) ایستادن ممنوع ✓



- (1) برآمدگی
- (2) چاله
- (3) دست انداز ✓
- (4) تپه



- (1) عبور سواری ممنوع
- (2) پایان عبور سواری
- (3) راه اتومبیل رو
- (4) پایان راه اتومبیل رو ✓

152- تابلوهای راهنمایی که فرمانی صادر می کنند معمولا به چه شکلی می باشند؟

- (1) مثلث با حاشیه قرمز
- (2) دایره با حاشیه قرمز ✓
- (3) مستطیل با حاشیه قرمز
- (4) مستطیل فلش دار حاشیه قرمز

153- مفهوم تابلوی روبرو چیست؟

- (1) سه راهی Y شکل
- (2) جاده دو شاخه می شود
- (3) تقاطع ✓
- (4) فرعی از چپ و راست



154- مفهوم تابلوی روبرو چیست؟

- (1) محل دور زدن
- (2) مخالفت جهت حرکت عقربه های ساعت گردش کنید
- (3) جهت عبور در میدان ✓
- (4) میدان



155- مفهوم تابلوی روبرو چیست؟

- (1) تقاطع
- (2) ورود به راه اصلی
- (3) تقاطع فرعی به اصلی از چپ
- (4) ورود به راه اصلی از چپ ✓



156- مفهوم تابلوی روبرو چیست ؟

- (1) جاده باریک می شود
- (2) راه در سمت راست مستقیم است
- (3) راه از سمت چپ باریک می شود ✓
- (4) گزینه های 1 و 2 صحیح است




157- مفهوم تابلوی روبرو چیست ؟

- (1) پیچ به چپ ✓
- (2) خطر در گردش به چپ
- (3) گردش به راست ممنوع
- (4) گردش به چپ ممنوع



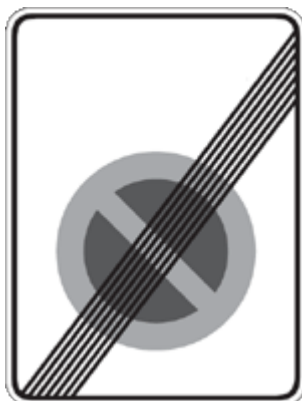
158- مفهوم تابلوی روبرو چیست ؟

- (1) جهت نما در راه اصلی
- (2) عبور دو طرفه
- (3) عبور از هر دو سمت مجاز ✓
- (4) تعیین سمت عبور



159- مفهوم تابلوی روبرو چیست ؟

- (1) منطقه توقف ممنوع
- (2) پایان منطقه توقف ممنوع ✓
- (3) پارک ممنوع
- (4) ایستگاه



160- مفهوم تابلوی روبرو چیست ؟

(1) خطر لغزندگی

(2) جاده برفی است

(3) پیست اتومبیل رانی

(4) راه لغزنده ✓



161- مفهوم تابلوی روبرو چیست ؟

(1) فقط گردش به راست مجاز ✓

(2) گردش به راست آزاد است

(3) جهت نما در راه اصلی

(4) عبور فقط به راست



162- مفهوم تابلوی روبرو چیست ؟

(1) جاده یک طرفه

(2) خیابان یک طرفه

(3) راه اصلی یک طرفه

(4) فقط عبور به چپ مجاز ✓



163- مفهوم تابلوی روبرو چیست ؟

(1) جاده یک طرفه

(2) فقط عبور به راست مجاز ✓

(3) خیابان یک طرفه

(4) راه اصلی یک طرفه



164- مفهوم تابلوی روبرو چیست ؟

- (1) سرعت بیش از 30 کیلومتر در ساعت ممنوع
- (2) شماره خیابان
- (3) حداکثر سرعت 30 کیلومتر در ساعت
- (4) حداقل سرعت 30 کیلومتر در ساعت ✓



165- مفهوم تابلوی روبرو چیست ؟

- (1) توقف ممنوع
- (2) پایان محدوده توقف ممنوع
- (3) توقف در روزهای فرد هفته ممنوع ✓
- (4) توقف در روزهای زوج هفته ممنوع



166- مفهوم تابلوی روبرو چیست ؟

- (1) ورود به راه اصلی
- (2) ورود به راه اصلی از راست ✓
- (3) تقاطع فرعی به اصلی از راست
- (4) تقاطع



167- مفهوم تابلوی روبرو چیست ؟

- (1) تونل در دست تعمیر
- (2) ورود به تونل ممنوع
- (3) سبقت در تونل ممنوع
- (4) پایان تونل ✓



168- مفهوم تابلوی روبرو چیست ؟

- (1) توقف ممنوع
- (2) پارکینگ ممنوع
- (3) ایستادن ممنوع ✓
- (4) هر سه مورد



169- مفهوم تابلوی روبرو چیست ؟

- (1) عبور موتورسیکلت ممنوع
- (2) عبور موتور گازی ممنوع
- (3) عبور دوچرخه ممنوع ✓
- (4) محل عبور دوچرخه سوار



170- تابلوهای مثلثی شکل به چه منظور است؟

- (1) جهت آگاهی (اطلاع)
- (2) جهت حکم (بازدارنده)
- (3) جهت هشدار ✓
- (4) جهت نمایش مسیر



171- تابلوی روبرو به چه معناست؟

- (1) دور زدن ممنوع
- (2) خیابان یک طرفه
- (3) سبقت ممنوع
- (4) حق تقدم با وسیله نقلیه مقابل است ✓



172- مفهوم تابلوی روبرو چیست؟

- (1) بیل زدن ممنوع
- (2) عبور عابر با وسیله ممنوع
- (3) محل عبور چرخ دستی
- (4) عبور چرخ دستی ممنوع ✓



173- مفهوم تابلوی روبرو چیست؟

- (1) پیش انتخاب مسیر ✓
- (2) جهت نما در جاده
- (3) تعیین جهت عبور



4) جهت نما در راه اصلی



174- تابلوهای با زمینه قهوه ای نشانگر چه چیز هستند؟

- 1) جهت حرکت به سمت مراکز فرهنگی و تفریحی ✓
- 2) مسیر بزرگراهها
- 3) جاده های اولیه یا مسیر قبلی
- 4) مسیر فرعی و غیر اصلی

175- تابلوی زیر چه خطری را هشدار می دهد؟

- 1) عابر در حال عبور
- 2) عبور اطفال ✓
- 3) پلیس مدرسه
- 4) پارک



176- علائم زیر که در آزاد راهها نصب می گردد به چه معنی است؟

- 1) فاصله شما را تا خروجی بعدی نشان می دهد ✓
- 2) فاصله تا تلفن بعدی را نشان می دهد
- 3) فاصله شما را تا پل نشان می دهد
- 4) نشان دهنده محل بازرسی پلیس است





- (1) راه آزاد است (بدون توقف)
- (2) ✓ عبور وسائل نقلیه موتوری ممنوع
- (3) سبقت ممنوع
- (4) فقط موتور سیکلت و اتومبیل سواری می تواند وارد شود



178- مفهوم تابلوی روبرو چیست؟

- (1) ✓ رعایت فاصله کمتر از 70 متر ممنوع
- (2) رعایت فاصله بیشتر از 70 متر ممنوع
- (3) حداکثر سرعت 70 کیلومتر در ساعت
- (4) حداکثر فاصله 70 متر



179- مفهوم تابلوی روبرو چیست؟

- (1) سبقت گرفتن ممنوع
- (2) ✓ پایان سبقت کامیون ممنوع
- (3) انتهای محدودیت سبقت
- (4) ابتدای سبقت کامیون ممنوع

180- تابلوی مقابل به چه معناست؟

- (1) عبور عابرین ممنوع
- (2) محل عبور دانش آموزان
- (3) عبور عابر پیاده
- (4) ✓ گذرگاه عابر پیاده



181- مفهوم تابلوی روبرو چیست ؟

(1) راه یک طرفه

(2) تعیین سمت عبور

(3) فقط مستقیم

(4) فقط عبور مستقیم مجاز ✓



182- تابلوی مقابل به چه معناست ؟

(1) دوچرخه سوار مجاز به عبور نیست

(2) عبور دوچرخه سوار ✓

(3) دوچرخه سوار باید از دوچرخه پیاده شود

(4) عبور دوچرخه ممنوع



183- در جاده ای تابلوی روبرو را در مقابل خود می بینید، به چه معناست ؟

(1) از منطقه محدودیت سرعت 30 کیلومتر در ساعت خارج شوید

(2) حداقل سرعت مجاز برای منطقه ای که وارد می شوید 30 کیلومتر در ساعت است

(3) بعد از این تابلو شروع به کاهش سرعت تا 30 کیلومتر نمایید

(4) با رویت این تابلو سرعت خود را به 30 کیلومتر در ساعت رسانده و تا پایان محدودیت آن را افزایش ندهید ✓



184- مفهوم تابلوی روبرو چیست ؟



- 1) جاده دو طرفه ✓
- 2) حق تقدم با وسایل نقلیه مقابل است
- 3) خیابان دو طرفه با تقاطع خیابان یک طرفه
- 4) راه خطرناک

185- مفهوم تابلوی روبرو چیست ؟



- 1) ایستادن عابرین ممنوع
- 2) محل عبور عابرین
- 3) فقط عبور پیاده ✓
- 4) عبور عابرین پیاده ممنوع

186- مفهوم تابلوی روبرو چیست ؟



- 1) شیب خطرناک
- 2) خطر سقوط در آب
- 3) خطر سقوط
- 4) شانه خطرناک ✓

187- این علامت به چه معناست ؟

- 1) مسیر ویژه اتوبوس شرکت واحد ✓
- 2) مسیر ویژه وسایل نقلیه سنگین
- 3) مسیر ویژه اتوبوس
- 4) مسیر ویژه اتوبوس های ادارات دولتی



ویژه اتوبوس  
شرکت واحد

188- مفهوم تابلوی روبرو چیست ؟

- 1) فقط عبور اسب سوار ✓
- 2) عبور حیوانات اهلی
- 3) منطقه اسب سواری
- 4) اسب سواری ممنوع



189- مفهوم تابلوی روبرو چیست ؟

- 1) 300 متر به محل دور زدن ✓
- 2) 300 متر به محل دور زدن ممنوع
- 3) 300 متر به محل گردش به چپ
- 4) 300 متر به محل گردش به چپ ممنوع



190- مفهوم تابلوی روبرو چیست ؟

- 1) عبور کامیون ممنوع
- 2) عبور وسایل نقلیه با بار ممنوع
- 3) عبور تریلر ممنوع
- 4) عبور وسایل نقلیه با محموله خطرناک ممنوع ✓



191- زمانی که تابلوی مقابل را می بینید چگونه عمل می کنید؟

- 1) فقط زمانی که کودکانی از خیابان عبور می کنند توقف می کنید
- 2) توقف می کنید، حتی اگر راه باز باشد ✓
- 3) فقط زمانی که ترافیک است توقف می کنید
- 4) فقط زمانی که چراغ قرمز روشن است توقف می کنید



192- مفهوم تابلوی روبرو چیست؟

- 1) تقدم عبور در راه اصلی
- 2) حق تقدم عبور با شماست ✓
- 3) حق تقدم عبور با وسیله نقلیه مقابل
- 4) خیابان دو طرفه



193- مفهوم تابلوی روبرو چیست؟

- 1) ابتدای حداکثر سرعت 30 کیلومتر در ساعت
- 2) منطقه حداکثر سرعت
- 3) منطقه محدودیت سرعت ✓
- 4) محدوده توقف ممنوع در ساعات معین



194- مفهوم تابلوی روبرو چیست؟

- 1) توقف ممنوع
- 2) پایان محدوده توقف ممنوع
- 3) محدوده توقف ممنوع در طول شبانه روز
- 4) محدوده توقف ممنوع در ساعات معین ✓



195- مفهوم تابلوی روبرو چیست ؟



- (1) پارکینگ
- (2) پایان محدوده پارک آزاد ✓
- (3) پارک ممنوع
- (4) محدوده پارک آزاد

196- مفهوم تابلوی روبرو چیست ؟



- (1) محل عبور عابرین
- (2) گذرگاه پیاده ✓
- (3) محل عبور اطفال
- (4) خط کشی مخصوص عابرین پیاده

197- مفهوم تابلوی روبرو چیست ؟



- (1) فرعی به اصلی
- (2) تقاطع فرعی به اصلی
- (3) تقاطع
- (4) ورودی از چپ و راست ✓

198- کدام یک از تابلوهای روبرو به مفهوم آن است که هیچ وسیله نقلیه ای نمی تواند وارد شود ؟



- (1) شکل شماره 2
- (2) شکل شماره 3
- (3) شکل شماره 1
- (4) شکل شماره 4 ✓

199- مفهوم تابلوی روبرو چیست ؟

- (1) دست انداز
- (2) چاله ✓
- (3) برآمدگی
- (4) هیچکدام



200- کدام یک از علائم روبرو شما را از انجام عملی باز می دارد ؟

- (1) شکل شماره 2
- (2) شکل شماره 3
- (3) شکل شماره 1 ✓
- (4) شکل شماره 4



201- مفهوم تابلوی روبرو چیست ؟

- (1) جاده یک طرفه
- (2) فقط عبور مستقیم مجاز ✓
- (3) فقط به مستقیم
- (4) راه اصلی یک طرفه



202- مفهوم تابلوی روبرو چیست ؟

- (1) ورود به راه اصلی
- (2) تقاطع فرعی به اصلی از راست
- (3) راه فرعی از راست
- (4) ورود به راه اصلی از راست ✓





203- مفهوم تابلوی روبرو چیست ؟

- (1) تعیین سمت حرکت در میدان
- (2) میدان ✓
- (3) تعیین جهت حرکت در میدان
- (4) گردش دور میدان



204- مفهوم تابلوی روبرو چیست ؟

- (1) گذرگاه عابر پیاده ✓
- (2) عبور پیاده ممنوع
- (3) پاساژ مخصوص عابرین پیاده
- (4) محل عبور عابرین



205- مفهوم تابلوی روبرو چیست ؟

- (1) فقط عبور دوچرخه ✓
- (2) عبور دوچرخه آزاد است
- (3) منطقه مخصوص عبور دوچرخه سواران
- (4) منطقه مخصوص پارک دوچرخه



206- مفهوم تابلوی روبرو چیست ؟

- (1) منطقه مخصوص عابرین پیاده و اطفال
- (2) محل عبور عابرین
- (3) فقط عبور پیاده ✓
- (4) احتیاط در هنگام عبور عابرین پیاده



207- مفهوم تابلوی روبرو چیست ؟

- (1) احتمال ریزش کوه
- (2) خطر سقوط
- (3) جاده لغزنده است
- (4) خطر ✓



208- مفهوم تابلوی روبرو چیست ؟

- (1) تقاطع ✓
- (2) سه راه
- (3) فرعی به اصلی
- (4) خروجی از چپ



209- مفهوم تابلوی روبرو چیست ؟

- (1) راهنمای مسیر ✓
- (2) تعیین فاصله با شهر تهران
- (3) تعیین فاصله در راه اصلی
- (4) تعیین سمت حرکت و فاصله در راه اصلی



(1) سه راه

(2) تقاطع ✓

(3) تقاطع فرعی به اصلی

(4) ورودی از چپ



211- مفهوم تابلوی روبرو چیست؟

(1) عبور یک طرفه

(2) تعیین سمت عبور

(3) خیابان یک طرفه

(4) فقط عبور به راست مجاز ✓



212- مفهوم تابلوی روبرو چیست؟

(1) تقاطع فرعی به اصلی از چپ

(2) ورود به راه اصلی

(3) ورود به راه اصلی از چپ ✓

(4) راه فرعی از چپ



213- تابلو به شکل مثلث متساوی الاضلاع نشسته روی قاعده برای ..... می باشد.

(1) هشدار دهنده برای خطر ✓

(2) ایست

(3) رعایت حق تقدم

(4) بازدارنده



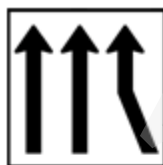
(1) تقاطع ✓

(2) دو راهی

(3) تقاطع فرعی به اصلی

(4) تقاطع اصلی به فرعی

215- تابلوی کاهش خطوط عبور کدام گزینه می باشد؟



(1) تابلوی شماره 2

(2) تابلوی شماره 3 ✓

(3) تابلوی شماره 1

(4) تابلوی شماره 4

216- تابلوی مقابل یعنی .....

(1) حداقل سرعت

(2) حداکثر سرعت

(3) سرعت توصیه شده ✓

(4) پایان سرعت 60 کیلومتر در ساعت



217- تابلوی «فقط به راست مجاز» کدام گزینه می باشد؟

(1) تابلوی شماره 2

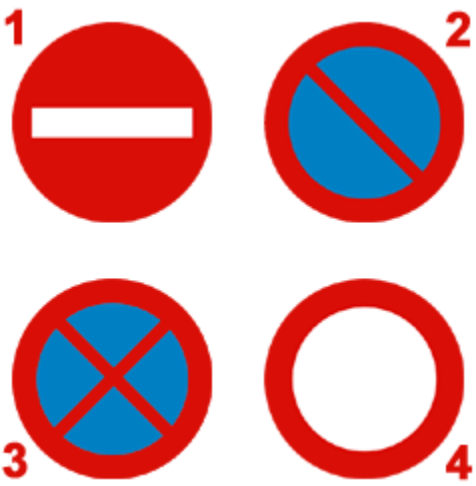
(2) تابلوی شماره 3

(3) تابلوی شماره 1

(4) تابلوی شماره 4 ✓



218- تابلوی «توقف ممنوع» کدام می باشد؟



- 1) تابلوی شماره 2 ✓
- 2) تابلوی شماره 3
- 3) تابلوی شماره 1
- 4) تابلوی شماره 4

219- تابلوی مقابل به چه معناست؟



- 1) آزاد راه
- 2) خیابان اصلی
- 3) پایان آزاد راه ✓
- 4) پایان خیابان اصلی

220- تابلوی مقابل یعنی .....



- 1) سبقت ممنوع ✓
- 2) عبور سواری ممنوع
- 3) سبقت برای کامیون ممنوع
- 4) عبور کامیون ممنوع

221- تابلوی مقابل به چه معناست؟

- 1) پارکینگ ✓
- 2) پارک ممنوع
- 3) پارک سوار
- 4) توقف ممنوع



222- تابلوی مقابل چه مفهومی دارد؟

(1) بن بست

(2) جریان همگرا ✓

(3) هدایت مسیر با جدا کننده

(4) تقاطع فرعی به اصلی



223- مفهوم تابلوی مقابل چیست؟

(1) تقاطع مانع با راه آهن

(2) تقاطع با راه آهن دو خطه ✓

(3) تقاطع با راه آهن

(4) تقاطع دو راه آهن با یکدیگر



224- تابلوی فقط عبور دوچرخه و پیاده کدام گزینه می باشد؟

(1) تابلوی شماره 2

(2) تابلوی شماره 3 ✓

(3) تابلوی شماره 1

(4) تابلوی شماره 4



225- تابلوی مقابل یعنی .....

- 1) ورود از هر دو طرف ممنوع ✓
- 2) ایست
- 3) ورود ممنوع
- 4) رعایت حق تقدم



226- تابلوی مقابل یعنی چه ؟

- 1) پایان آزاد راه
- 2) جاده باریک می شود
- 3) آزاد راه ✓
- 4) راه باریک می شود



227- تابلوی مقابل یعنی .....

- 1) رعایت حق تقدم ✓
- 2) ایست
- 3) خطر
- 4) ورود ممنوع



228- تابلوی مقابل چه مفهومی دارد؟



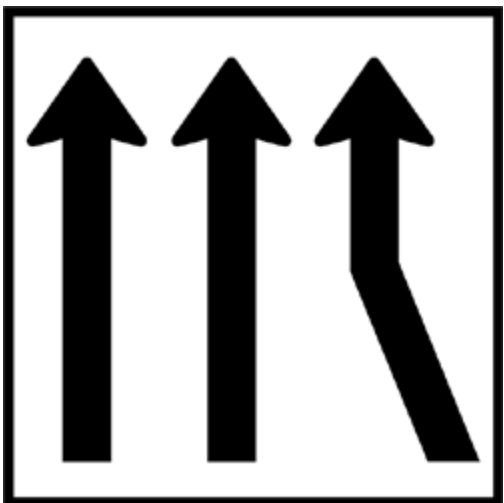
- 1) پایان سبقت ممنوع ✓
- 2) پایان محدوده سرعت
- 3) ابتدای سبقت ممنوع
- 4) پایان سبقت کامیون ممنوع

229- تابلوی زیر یعنی .....



- 1) عبور گاری ممنوع
- 2) عبور چرخ دستی ممنوع
- 3) عبور خودروی کشاورزی ممنوع
- 4) عبور وسایل نقلیه موتوری ممنوع ✓

230- مفهوم تابلوی مقابل چیست؟



- 1) افزایش خط عبور ✓
- 2) کاهش خط عبور
- 3) خطوط همگرا
- 4) انحراف یکی از خطوط عبور

231- تابلوی (راه لغزنده است) کدام یک از گزینه های زیر می باشد؟

- 1) تابلوی شماره 2
- 2) تابلوی شماره 3
- 3) تابلوی شماره 1





4 (4) تابلوی شماره 4 ✓

232- تابلوهای باز دارنده را تابلوهای ..... نیز می گویند که بیشتر به شکل ..... با نوار حاشیه ..... رنگ هستند؟

(1) هشدار دهنده - دایره - قرمز

(2) انتظامی - مثلث - قرمز

(3) انتظامی - دایره - قرمز ✓

(4) هشدار دهنده - مثلث - قرمز

233- تابلوی مقابل به چه معنا می باشد؟

(1) تقاطع جاده و راه آهن در 200 متری ✓

(2) خروجی از آزاد راه 200 متر

(3) تقاطع با راه آهن

(4) ورودی به آزاد راه 300 متر



234- تابلوی حق تقدم کدام گزینه زیر می باشد؟

(1) تابلوی شماره 2 ✓

(2) تابلوی شماره 3

(3) تابلوی شماره 1

(4) تابلوی شماره 4



235- تابلوی راه یک طرفه کدام گزینه می باشد؟



(1) تابلوی شماره 2

(2) تابلوی شماره 3 ✓

(3) تابلوی شماره 1

(4) تابلوی شماره 4

236- مستطیل قائم معمولاً برای تابلوهای ..... به کار می رود

(1) دستوری و خدمات ✓

(2) راهنما و هشدار برای خدمات

(3) صرفاً برای رعایت تقدم

(4) خدمات و دستوری

دلیل پاسخ صحیح :

گزینه 4 عوض شود

237- مفهوم تابلوی زیر چیست؟

(1) مسیر ویژه کامیون

(2) مسیر توصیه شده برای وسایل سنگین ✓

(3) عبور کامیون



4) عبور از کامیون های کم ظرفیت

238- تابلوی مقابل یعنی .....



- 1) عبور گاری ممنوع
- 2) عبور خودروی کشاورزی ممنوع
- 3) عبور چرخ دستی
- 4) عبور چرخ دستی ممنوع ✓

239- تابلوی مقابل به چه مفهومی می باشد؟



- 1) تقاطع اصلی با فرعی
- 2) تقاطع فرعی با اصلی در قوس ✓
- 3) تقاطع فرعی با فرعی در قوس
- 4) هیچکدام

240- (عبور دوچرخه ممنوع) کدام تابلو می باشد؟

- 2 (1)
- 3 (2)
- 1 (3) ✓
- 4 (4)



241- تابلوی مقابل به چه مفهومی می باشد؟

(1) خطر برق

(2) به تابلوی ایست نزدیک می شوید ✓

(3) پرتاب سنگ

(4) میدان



242- تابلو مقابل یعنی .....

(1) حداقل سرعت 30 کیلومتر در ساعت ✓

(2) حداکثر سرعت 30 کیلومتر در ساعت

(3) پایان حداقل سرعت 30 کیلومتر در ساعت

(4) پایان حداکثر سرعت 30 کیلومتر در ساعت



243- رنگ تابلوهای راهنمای مسیر در بزرگراهها چیست؟

(1) سبز ✓

(2) سبز و مشکی

(3) زرد

(4) قرمز

244- تابلوی مقابل به معنای .....



- (1) فقط عبور مستقیم مجاز
- (2) راه یک طرفه
- (3) خیابان یک طرفه ✓
- (4) عبور آزاد

245- مفهوم تابلوی روبرو کدام گزینه است ؟



- (1) عبور با ارتفاع بیش از 2 متر ممنوع
- (2) عبور با بار بیش از 2 تن ممنوع
- (3) عبور با عرض بیش از 2 متر ممنوع ✓
- (4) رعایت فاصله

246- تابلوی روبرو به چه مفهومی می باشد ؟



- (1) پارک سوار ✓
- (2) پارک ممنوع
- (3) پارکینگ
- (4) توقف ممنوع

247- تابلوی روبرو یعنی .....

- (1) ورود ممنوع
- (2) سبقت ممنوع
- (3) سبقت کامیون ممنوع
- (4) عبور سواری ممنوع ✓



248- تابلوهای منع کننده به رنگ ..... و تابلوها در آزادهها به رنگ ..... و در بزرگراهها به رنگ ..... می باشد.

- (1) آبی - قرمز - سبز
- (2) قرمز - سبز - آبی
- (3) قرمز - آبی - سبز ✓
- (4) سبز - آبی - قرمز



249- تابلوی رعایت حق تقدم کدام گزینه می باشد؟

- (1) تابلوی شماره 2
- (2) تابلوی شماره 3
- (3) تابلوی شماره 1
- (4) تابلوی شماره 4 ✓



250- تابلوی روبرو یعنی .....

- (1) عبور با وزن بیش از 3.5 تن ممنوع
- (2) عبور با بار بیش از 3.5 متر ممنوع
- (3) عبور با ارتفاع بیش از 3.5 متر ممنوع ✓
- (4) عبور با عرض بیش از 3.5 متر ممنوع

251- تابلوی (فقط عبور پیاده) کدام تابلو می باشد؟



(1) تابلوی شماره 2

(2) تابلوی شماره 3

(3) تابلوی شماره 1

(4) تابلوی شماره 4 ✓

252- تابلوی مقابل یعنی .....



(1) پرتاب سنگ

(2) شانه خطرناک

(3) ریزش سنگ ✓

(4) جاده در دست تعمیر

253- تابلوی پیچ های پی در پی (اولین پیچ به راست) کدام تابلو می باشد؟



(1) تابلوی شماره 2

(2) تابلوی شماره 3 ✓

(3) تابلوی شماره 1

(4) تابلوی شماره 4

254- مفهوم رنگ سیاه و سفید در علائم راهنمایی و رانندگی چیست؟

(1) هشدارهای عمومی و هشدار برای انجام عملیات ساختمانی

(2) علامت دستوری و راهنمای مسیر در سایر راه ها ✓

(3) حرکت مجاز - راهنمای مسیر و اماکن مذهبی



255- تابلوی فقط عبور دوچرخه کدام مورد است ؟

- (1) تابلوی شماره 2
- (2) تابلوی شماره 3
- (3) تابلوی شماره 1
- (4) تابلوی شماره 4 ✓

256- در حریم تابلوی ایستادن ممنوع .....

- (1) برای یک لحظه هم توقف نمی کنید ✓
- (2) به هیچ وجه نمی توان پارک کرد ولی میتوان توقف کرد
- (3) فقط برای سوار و پیاده کردن مسافر توقف ممنوع
- (4) بستگی به شرایط دارد

257- تابلوی روبرو به چه مفهومی می باشد ؟

- (1) تقاطع هم سطح در قوس
- (2) تقاطع اصلی با فرعی در قوس ✓
- (3) بن بست
- (4) گردش به راست و چپ

258- تابلوی روبرو یعنی .....

- (1) عبور اطفال ✓
- (2) عبور پیاده ممنوع
- (3) گذرگاه عابر پیاده



(4) عبور پیاده



259- تابلوی جاده باریک می شود کدام گزینه می باشد؟

(1) تابلوی شماره 2 ✓

(2) تابلوی شماره 3

(3) تابلوی شماره 1

(4) تابلوی شماره 4



260- تابلوی روبرو به چه مفهومی می باشد؟

(1) ورود از هر دو طرف ممنوع

(2) رعایت حق تقدم

(3) ورود ممنوع ✓

(4) توقف ممنوع



261- تابلوی مقابل یعنی .....

(1) خطر

(2) عبور ممنوع

(3) رعایت حق تقدم ✓

(4) ایست



262- تابلوی روبرو یعنی .....

(1) شروع جدا کننده

(2) هدایت مسیر با جدا کننده

(3) پایان جدا کننده ✓

(4) جریان همگرا



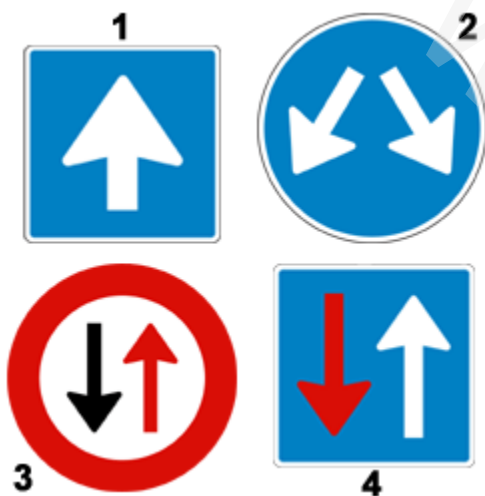
263- تابلوی «حق تقدم عبور با وسیله مقابل است» کدامیک از گزینه های زیر می باشد؟

(1) تابلوی شماره 2

(2) تابلوی شماره 3 ✓

(3) تابلوی شماره 1

(4) تابلوی شماره 4



264- تابلوی مقابل یعنی چه؟

(1) ایست

(2) ورود ممنوع

(3) عبور ممنوع

(4) ورود از هر دو طرف ممنوع ✓



265- مفهوم تابلوی مقابل چیست؟

(1) سینما

(2) نظارت با دوربین پلیس ✓

(3) عکسبرداری ممنوع



نظارت با دوربین پلیس

(4) تردد

266- تابلوی زیر چه خطری را هشدار می دهد؟

- (1) شیب خطرناک
- (2) شیب سربالایی
- (3) سربالایی خطرناک ✓
- (4) شیب



267- تابلوهای راهنمایی که فرمانی صادر می کند به چه شکل است؟

- (1) مثلث با حاشیه قرمز
- (2) دایره با حاشیه قرمز ✓
- (3) مستطیل با حاشیه قرمز
- (4) مستطیل فلش دار با حاشیه قرمز

268- مفهوم تابلوی مقابل را بگویید :

- (1) پایان تمام محدودیت ها ✓
- (2) پایان منطقه محدوده سرعت
- (3) سبقت مجاز
- (4) هیچکدام





- (1) فرعی به اصلی از راست
- (2) اصلی به فرعی از راست
- (3) ورود به راه اصلی از راست ✓
- (4) ورود به جاده اصلی از چپ

270- راه لغزنده است مربوط به کدام گزینه می باشد ؟



- 2 (1) ✓
- 3 (2)
- 1 (3)
- 4 (4)

271- تابلوی ورود از هر دو طرف ممنوع کدام است ؟



- (1) تابلوی شماره 2 ✓
- (2) تابلوی شماره 3
- (3) تابلوی شماره 1
- (4) تابلوی شماره 4

272- تابلوی گذرگاه عابر پیاده کدام گزینه می باشد ؟

- (1) تابلوهای شماره 3 و 4
- (2) تابلوی شماره 3
- (3) تابلوهای شماره 1 و 3 ✓
- (4) تابلوی شماره 4



273- تابلوی روبرو یعنی .....



- 1 ✓ حداقل سرعت 30 کیلومتر در ساعت
- 2 پایان حداقل سرعت 30 کیلومتر در ساعت
- 3 حداکثر سرعت 30 کیلومتر در ساعت
- 4 پایان حداکثر سرعت 30 کیلومتر در ساعت

274- تابلوی روبرو به چه معناست ؟



- 1 ورود ممنوع
- 2 ایستادن ممنوع
- 3 خیابان اصلی ✓
- 4 رعایت حق تقدم

275- تابلوی روبرو چیست ؟

- 1 خیابان یکطرفه
- 2 فقط عبور به راست مجاز
- 3 راه یکطرفه ✓
- 4 فقط عبور مستقیم مجاز



276- مفهوم تابلوی مقابل چیست ؟

(1) توقف ممنوع

(2) ایستادن ممنوع ✓

(3) منطقه ایستادن ممنوع

(4) ایست



277- کدام تابلو به معنای پرتاب سنگ می باشد ؟

(1) تابلوی شماره 2 ✓

(2) تابلوی شماره 3

(3) تابلوی شماره 1

(4) تابلوی شماره 4



278- تابلوی مقابل به چه معناست ؟

(1) با مشاهده این تابلو سرعت خود را به حداقل 30 کیلومتر در ساعت رسانده و تا پایان محدودیت آن را افزایش ندهید

(2) با سرعت مطمئنه حرکت کنید

(3) با مشاهده این تابلو سرعت خود را به 30 کیلومتر در ساعت رسانده و کمتر از 30 کیلومتر



ممنوع است

4) با مشاهده این تابلو سرعت خود را حداکثر به 30 کیلومتر در ساعت رسانده و تا پایان محدودیت آن را افزایش ندهید ✓

279- مفهوم تابلوی مقابل چیست ؟



1) تقاطع ✓

2) دو راهی

3) تقاطع اصلی به فرعی

4) تقاطع فرعی به اصلی

280- مفهوم تابلوی مقابل چیست ؟



1) تقاطع ✓

2) دو راهی

3) تقاطع فرعی به اصلی

4) تقاطع اصلی به فرعی

281- تابلوی (کاهش خطوط عبور) کدام گزینه می باشد ؟

1) تابلوی شماره 2

2) تابلوی شماره 3 ✓

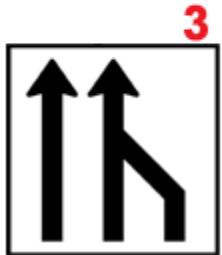
3) تابلوی شماره 1

4) تابلوی شماره 4



1

2



3



4

282- تابلوی مقابل یعنی .....

(1) حداقل سرعت

(2) حداکثر سرعت

(3) سرعت توصیه شده ✓

(4) پایان سرعت 60 کیلومتر



283- تابلوی (فقط عبور به راست مجاز) کدام گزینه می باشد؟

(1) تابلوی شماره 2

(2) تابلوی شماره 3

(3) تابلوی شماره 1

(4) تابلوی شماره 4 ✓



284- تابلوی (توقف ممنوع) کدام می باشد؟

(1) تابلوی شماره 2 ✓

(2) تابلوی شماره 3

(3) تابلوی شماره 1

(4) تابلوی شماره 4



3

4



285- تابلوی مقابل به چه معناست؟



- (1) آزاد راه
- (2) خیابان اصلی
- (3) پایان آزاد راه ✓
- (4) پایان خیابان اصلی

286- تابلوی روبرو یعنی .....



- (1) سبقت ممنوع ✓
- (2) عبور سواری ممنوع
- (3) سبقت برای کامیون ممنوع
- (4) عبور کامیون ممنوع

287- تابلوی مقابل به چه معنای می باشد؟



- (1) پارکینگ ✓
- (2) پارک ممنوع
- (3) پارک سوار
- (4) توقف ممنوع

288- تابلوی مقابل چه مفهومی دارد؟

- (1) بن بست
- (2) جریان همگرا ✓
- (3) هدایت مسیر با جدا کننده
- (4) تقاطع فرعی به اصلی



289- مفهوم تابلوی مقابل چیست ؟

- (1) به منطقه مسکونی نزدیک می شوید
- (2) منطقه صنعتی
- (3) ابتدای منطقه مسکونی ✓
- (4) خروج از منطقه صنعتی



290- تابلوهای با زمینه قهوه ای نشانگر چه چیزی هستند ؟

- (1) مسیرهای فرعی
- (2) جهت حرکت به سمت مراکز فرهنگی تفریحی ✓
- (3) مسیرهای اصلی
- (4) حرکت مجاز، راهنمای مسیر و اماکن مذهبی

291- مفهوم تابلوی مقابل چیست ؟

- (1) حق تقدم با وسیله نقلیه مقابل است ✓
- (2) خیابان یک طرفه
- (3) سبقت ممنوع
- (4) خیابان دو طرفه



292- تابلوی روبرو به چه مفهومی می باشد ؟



- (1) پیچ
- (2) بن بست
- (3) گردش به راست
- (4) تقاطع ✓



293- تابلوی مقابل به چه معنا می باشد؟

- (1) حداکثر سرعت در خطهای عبور ✓
- (2) حداقل سرعت در خطهای عبور
- (3) حداقل سرعت در خط عبور
- (4) خط عبور ویژه



294- تابلوی روبرو چه نام دارد؟

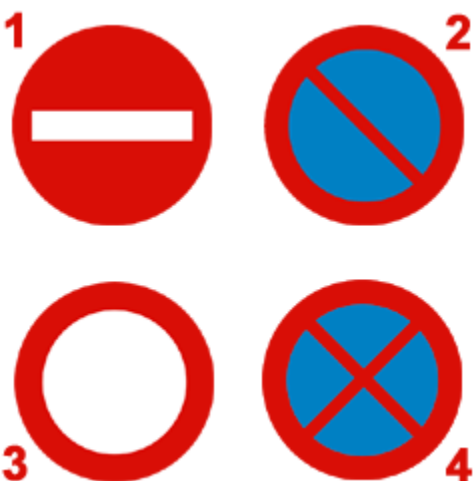
- (1) پایان بزرگراه
- (2) پایان خیابان اصلی
- (3) پایان آزاد راه ✓
- (4) پایان راه



295- معنای تابلوی مقابل چیست؟

- (1) پایان منطقه توقف دابل
- (2) پایان سبقت ممنوع ✓
- (3) پایان محدودیت سرعت
- (4) پایان تمام محدودیت ها

296- تابلوی ایستادن ممنوع کدام گزینه می باشد؟



(1) تابلوی شماره 2

(2) تابلوی شماره 3

(3) تابلوی شماره 1

(4) تابلوی شماره 4 ✓

297- تابلوی ایست به شکل ..... می باشد

(1) مثلث متساوی الاضلاع

(2) مربع

(3) هشت ضلعی ✓

(4) دایره

298- کدام یک از تابلوهای مقابل به معنای پارک سوار است؟



(1) تابلوی شماره 2

(2) تابلوی شماره 3

(3) تابلوی شماره 1

(4) تابلوی شماره 4 ✓

299- تابلوی ایست کدام گزینه می باشد؟

(1) تابلوی شماره 2

(2) تابلوی شماره 3 ✓

(3) تابلوی شماره 1

(4) تابلوی شماره 4



300- تابلوی فقط عبور عابر پیاده کدام تابلو می باشد؟

- (1) تابلوی شماره 2
- (2) تابلوی شماره 3
- (3) تابلوی شماره 1
- (4) تابلوی شماره 4 ✓



301- تابلوی روبرو یعنی .....

- (1) پرتاب سنگ
- (2) شانه خطرناک
- (3) ریزش سنگ ✓
- (4) جاده در دست تعمیر



302- تابلوی پیچهای پی در پی (اولین پیچ به راست) کدام تابلو می باشد؟

- (1) تابلوی شماره 2
- (2) تابلوی شماره 3 ✓
- (3) تابلوی شماره 1
- (4) تابلوی شماره 4



303- تابلوی روبرو به چه معنا می باشد ؟

(1) حق تقدم با وسایل سمت راست است

(2) تقاطع

(3) حق تقدم با وسایل کنار است

(4) حق تقدم با وسیله نقلیه مقابل است



304- تابلوی عبور موتورگازی ممنوع کدام گزینه می باشد ؟

(1) تابلوی شماره 2

(2) تابلوی شماره 3

(3) تابلوی شماره 1

(4) تابلوی شماره 4



## سوالات بخش 2 - هوشیاری

305- وقتی در حین رانندگی حواس شما متوجه چیزهای دیگری باشد، با این کار:

(1) قادر به تصمیم گیری نخواهید بود

(2) عکس العملی از خودتان نشان نخواهید داد

(3) تصمیم سریع و عکس العمل به موقع از شما گرفته خواهد شد [www.cargeek.ir](http://www.cargeek.ir)

4) ممکن است مسیر خود را اشتباه بروید ✓

306- آمادگی در رانندگی شامل چه مواردی است؟

- 1) مهارت در رانندگی
- 2) مشاهده، پیش بینی، تمرکز، آگاهی، عدم حواس پرتی ✓
- 3) خطای دیگران را پیش بینی کردن
- 4) آگاهی داشتن از وضعیت رانندگی دیگران

307- حالت و وضعیت شما در رانندگی به چه عواملی بستگی دارد؟

- 1) پایبندی به مقررات
- 2) دانش رانندگی و مهارت
- 3) رفتارهای مثبت ترافیکی
- 4) تفکر، موقعیت، دانش قبلی، ادب، نزاکت ✓

308- بی توجهی به علائم و مقررات رانندگی نشانه ی :

- 1) عدم آمادگی لازم است
- 2) عدم توانایی و صلاحیت رانندگی است ✓
- 3) عدم سواد کافی است
- 4) شتاب و عجله بیهوده است

309- صحیح ترین روش ترمز کردن چیست؟

- 1) ابتدا به آرامی ترمز کرده، سپس پدال ترمز را بیشتر فشار دهید ✓
- 2) به شدت ترمز کنید و پدال کلاچ را همزمان فشار دهید
- 3) ابتدا سریعاً ترمز کرده و دنده را به صورت خلاص در آورید ترمز دستی را در مرحله ی قبل از توقف کامل بکشید
- 4) اندکی ترمز کرده، پدال را فشار دهید، ترمز دستی را درست قبل از توقف بکشید

- 1) فرمان را با یک دست بگیرید و اتومبیل را هدایت کنید
- 2) نیاز به انجام یک تلفن اضطراری باشد
- 3) وسیله ی نقلیه شما دارای دنده ی اتوماتیک باشد
- 4) در یک محل و مکان امن توقف کرده باشید ✓

311- در هنگام شب رانندگی می کنید و نور بالای چراغ اتومبیل هایی که از روبرو می آیند چشمهای شما را خیره می کند چکار باید انجام دهید ؟

- 1) بطور مستقیم به نور چراغ روبرو نگاه نکنید و سمت راست راه را نگاه کنید و از گوشه چشم به اتومبیل روبرو توجه کنید ✓
- 2) نور بالای اتومبیل را روشن کنید و به وسیله ی نقلیه مقابل توجه نکنید
- 3) بطور مستقیم به نور چراغ روبرو نگاه کنید و از نگاه کردن به سمت راست خودداری کنید
- 4) هیچکدام

312- اگر به هنگام رانندگی متوجه بوی بنزین شدید چه اقدامی می کنید ؟

- 1) هر لحظه باید انتظار داشت که بوی بنزین از بین برود
- 2) با سرعت کم برانید
- 3) نگران نباشید زیرا بو ناشی از سوختن بنزین است
- 4) توقف کرده و مسئله را بررسی می کنید ✓

313- در کدام موقعیت زیر وزش شدید باد می تواند در مسیر شما تأثیر بگذارد ؟

- 1) در شهرها
- 2) در تونلها
- 3) بعد از سبقت گرفتن از یک وسیله نقلیه بزرگ. در مسیرهای باز بدون درخت و موانع طبیعی، در بخشی از شهرها که دارای ساختمان نبوده و در معرض باد قرار دارند ✓
- 4) زمانیکه از مقابل اتومبیلهای در حال توقف عبور می کنید



- (1) شما باید بایستید، مگر بخواهید گردش به چپ کنید
- (2) ✓ شما باید در پشت خط ایست توقف کرده و منتظر باشید
- (3) چنانچه می توانید بی خطر ترمز کنید بایستید
- (4) با احتیاط عبور کنید

315- چراغ سبز را در جلوی خود می بنید، چراغ بعدی که روشن می شود چیست ؟

- (1) قرمز و زرد با هم
- (2) ✓ زرد
- (3) سبز و زرد با هم
- (4) قرمز

316- به یک تقاطع نزدیک می شوید چراغ راهنما خراب است، یک پلیس ترافیک علامت زیر را به شما می دهد شما باید .....

- (1) ✓ پشت خط توقف بایستید
- (2) فقط به چپ گردش کنید
- (3) فقط به راست گردش کنید
- (4) مقابل پلیس بایستید

317- چراغ قرمز به چه معناست ؟

- (1) ✓ به معنای اینکه در پشت خط ایست بایستید
- (2) چنانچه گردش به راست خطر نداشته باشد گردش کنید
- (3) به معنای اینکه می توانید در صورتیکه هیچ ترافیکی نباشد به مسیر خود ادامه دهید
- (4) باید سرعت را کم کرده و در صورتیکه اتومبیلهای جهت دیگر شروع به حرکت کرده باشند توقف کنید

318- قصد دارید تا منزل رانندگی کنید، عینک خود را که جهت رانندگی لازم دارید، پیدا نمی کنید. چه باید انجام دهید ؟

- (1) از مسیرهای خلوت به آرامی برانید
- (2) به هنگام شب رانندگی کنید تا اینکه نور معابر به شما کمک کند

4) باید به طریقی به منزل بروید که به رانندگی نیاز نباشد ✓

319- چرا باید در هنگام رانندگی توجه به جلو و اطراف داشته باشیم؟

- 1) قادر باشیم علائم را ببینیم
- 2) ✓ خطرات احتمالی را پیش بینی کرده و زمان بیشتری برای واکنش داشته باشیم
- 3) در انتخاب مسیر دچار اشتباه نشویم
- 4) از مناظر طبیعی استفاده کنیم

320- در یک تقاطع در حال رانندگی هستید، با چراغهای قرمز چشمک زن مواجه می شوید چکار باید کرد؟

- 1) به رفتن ادامه می دهید
- 2) توقف می کنید و منتظر چراغ سبز می شوید
- 3) بدون توقف با احتیاط عبور می کنید
- 4) ✓ ایست کرده و با رعایت حق تقدم عبور می کنید

321- کدام گزینه به ترتیب اولویت صحیح می باشد؟

- 1) چراغ راهنما - فرمان پلیس - تابلوها - خط کشی
- 2) تابلوها - چراغ راهنما - خط کشی - فرمان پلیس
- 3) ✓ فرمان پلیس - چراغ راهنما - تابلوها - خط کشی
- 4) فرمان پلیس - تابلوها - خط کشی - چراغ راهنما

322- هوای گرم بر کدام قسمت از خودرو اثر می گذارد؟

- 1) سرنشینان خودرو
- 2) ✓ باد لاستیک و دمای موتور
- 3) آمادگی راننده در کنترل خودرو
- 4) ترمزها

323- به یک تقاطع نزدیک می شوید، چراغ راهنما خراب است، یک پلیس علامت زیر را به شما می دهد، شما باید ....



1) پشت خط توقف کنید ✓

2) فقط به چپ گردش کنید

3) فقط به راست گردش کنید

4) مقابل پلیس بایستید

324- با تنظیم صندلی کدامیک از شرایط زیر مهیا می گردد؟

1) تسلط کامل راننده به فرمان

2) سهولت در تعویض دنده

3) ایجاد میدان دید طبیعی

4) هر سه مورد صحیح است ✓

325- هنگام رانندگی کدام یک از مدارک زیر را باید همراه داشته باشیم؟

1) کارت اتومبیل، گواهینامه رانندگی

2) برگه معاینه فنی معتبر

3) بیمه شخص ثالث

4) همه موارد بالا ✓

326- در شکل مقابل راننده چه قصد و نیتی دارد؟

1) راننده قصد دارد به سمت راست گردش نماید ✓

2) راننده می خواهد توقف کند

3) راننده می خواهد به چپ حرکت کند

4) راننده برای راحتی این کار را انجام می دهد



327- کدامیک از موارد زیر نقص فنی محسوب می شود؟ www.cargeek.ir

- (1) نداشتن چراغهای جلو و عقب
- (2) کم بودن باد تایرها
- (3) نداشتن برف پاک کن هنگام بارندگی
- (4) گزینه های 1 و 3 صحیح است ✓

328- فواید رانندگی در روز عبارتست از .....

- (1) میدان دید کافی
- (2) میدان دید کافی، استفاده از آینه های جانبی، در اختیار داشتن فاصله های قابل رویت و مشاهده ی سایر رانندگان ✓
- (3) امنیت راهها
- (4) در امان بودن از رانندگان بی تجربه

329- حواس پرتی در هنگام رانندگی عامل مهمی در عدم ..... است

- (1) توجه به ترافیک شهری
- (2) فرامین پلیس
- (3) توجه به پیچ ها در جاده
- (4) تصمیم گیری به موقع ✓

330- کدامیک از علائم پلیس راهنمایی در شکل روبرو به این معنی است که رانندگان در هر چهار طرف تقاطع باید پشت خط ایست متوقف شوند ؟



- 1 (1)
- 3 (2)
- 2 (3) ✓
- 4 (4)

331- قانون اولیه رانندگی حرکت از سمت ..... جاده مگر برای ..... است.

- (1) راست - سبقت ✓

332- کدام گزینه به ترتیب اولویت صحیح می باشد؟

- (1) چراغ راهنما، فرمان پلیس، تابلوها، خط کشی
- (2) تابلوها، چراغ راهنما، خط کشی، فرمان پلیس
- (3) فرمان پلیس، چراغ راهنما، تابلوها، خط کشی ✓
- (4) فرمان پلیس، تابلوها، خط کشی، چراغ راهنما

333- کدامیک از فرامین پلیس مقدم بر علائم راهنمایی است؟

- (1) تمام موارد ✓
- (2) 3 و 4
- (3) 1 و 2
- (4) فقط 2



334- فواید رانندگی در روز عبارتست از؟

- (1) میدان دید کافی
- (2) میدان دید کافی، استفاده از آینه های جانبی، در اختیار داشتن فاصله های قابل رویت و مشاهده سایر رانندگان ✓
- (3) امنیت راهها
- (4) درمان بودن از رانندگان بی تجربه

### سوالات بخش 3 - هدایت و کنترل وسیله نقلیه

335- کدام مورد زیر هنگام رانندگی در شب احتمال خطر را افزایش می دهد؟

- (1) محدودیت میدان دید راننده، خیره شدن در راه و عدم تشخیص وسیله نقلیه مقابل ✓
- (2) استفاده از سایبان

336- بر روی یک راه لغزنده قسمت عقب اتومبیل شما به سمت راست می‌لغزد، چکار باید انجام دهید؟

- 1) با دقت و مراقبت فرمان را به سمت راست بچرخانید ✓
- 2) ترمز کنید و فرمان را بچرخانید
- 3) با دقت و مراقبت فرمان را به سمت چپ بچرخانید
- 4) از کلاچ و ترمز به‌طور همزمان استفاده کنید

337- در شرایط یخبندان مسافت توقف ممکن است تا چند برابر افزایش یابد؟

- 1) 5 برابر
- 2) 3 برابر
- 3) 10 برابر ✓
- 4) 2 برابر

338- به هنگام رانندگی در شرایط یخبندان فرمان به راحتی می‌چرخد و چرخها به طرفین می‌پیچند، علت آن چیست؟

- 1) چرخ‌ها با راه اصطکاک بهتری دارند
- 2) چرخ‌ها خیلی نرم هستند
- 3) چرخ‌ها اصطکاک مطلوبی با راه ندارند ✓
- 4) چرخ‌ها خیلی سفت هستند

339- در شرایط یخبندان چگونه می‌توانید از لغزش چرخ‌های اتومبیل جلوگیری کنید؟

- 1) به دفعات بیشتر و به آرامی ترمز کنید
- 2) با سرعت کمتر و با دنده یک حرکت کنید
- 3) در تمامی مواقع با دنده سنگین حرکت کنید ✓
- 4) اگر چرخها شروع به لغزندگی کرد از ترمز دستی استفاده کنید

340- در شرایط جاده خیس و یخبندان در حال رانندگی هستید، کدام مورد در هنگام نزدیک شدن به پیچ تند باید رعایت شود؟

- (1) به آرامی ترمز دستی را بکشید
- (2) در تمام مدت کلاچ را پایین نگه دارید
- (3) هنگام رسیدن به پیچ با سرعت بیشتری برانید
- (4) قبل از رسیدن به پیچ از سرعت خود بکاهید و تا حد امکان با دنده سنگین حرکت کنید ✓

341- نگه داشتن کلاچ باعث کدامیک از موارد زیر می شود؟

- (1) پیچیدن به طرفین و به اصطلاح چرخاندن فرمان آسانتر می شود
- (2) پیچیدن به طرفین و چرخاندن فرمان سخت تر می شود
- (3) کنترل راننده به حرکت اتومبیل کمتر می شود ✓
- (4) کنترل راننده به حرکت و جهت اتومبیل بیشتر می شود

342- در مواقع باد شدید در کدامیک از موارد زیر باید بیش از حد مراقب باشید؟

- (1) به هنگام سبقت
- (2) به هنگام عبور از کنار دوچرخه و موتور سواران ✓
- (3) به هنگام گردش
- (4) به هنگام استفاده از ترمزها

343- بر روی جاده خیس ترمز می کنید و وسیله نقلیه شما شروع به لغزش می کند، اولین کاری که انجام می دهید چیست؟

- (1) پای خود را بر روی کلاچ می گذارید
- (2) به سرعت ترمز دستی را بکشید
- (3) با شدت بیشتری به ترمز فشار بیاورید
- (4) ترمز را کاملاً آزاد کنید ✓

344- «در هوای بسیار گرم سطح جاده نرم می باشد» کدام مورد زیر از این مسئله تاثیر پذیر است؟

---

345- به هنگام رانندگی در شرایط غیر عادی (باران - برف و ...) بهترین کار این است که حد امکان از دنده ی سنگین استفاده کنید دلیل آن را بیان کنید.

(1) بدلیل اینکه دور زیاد موتور باعث لغزش چرخها نشود

(2) جهت ممانعت از لغزش چرخها ✓

(3) در موقع ترمز از سرعت کمتری برخوردار باشید

(4) در صورت لغزش استفاده از دنده ی پایین تر امکان پذیر باشد

---

346- در هوای مه آلود در حال رانندگی هستید اتومبیل پشت سر بیش از حد به شما نزدیک می شود چه اقدامی باید انجام دهید ؟

(1) با احتیاط به حرکت خود ادامه دهید ✓

(2) بلافاصله توقف کنید

(3) چراغهای هشدار دهنده خطر را روشن کنید

(4) سرعت گرفته و از او دور شوید

---

347- در شرایط جوی با میدان دید محدود چگونه می توانید اطمینان کنید که سایر رانندگان قادر به رویت شما هستند ؟

(1) با فاصله ی کمی از اتومبیل جلویی حرکت کنید

(2) چراغهای مه شکن عقب را روشن کنید

(3) چراغهای نور پایین را روشن کنید ✓

(4) کاملاً نزدیک به کنار جاده حرکت کنید

---

348- پایین بودن کدامیک از موارد زیر می تواند منجر به حادثه شود ؟

(1) سطح آب خنک کننده رادیاتور

(2) سطح آب باطری



349- کنترل باد لاستیک چرخها چه زمانی باید انجام شود؟

(1) زمانی که لاستیک ها داغ شده اند

(2) بعد از یک رانندگی با سرعت بالا

(3) بعد از طی مسافت طولانی

(4) زمانی که لاستیکها سرد هستند ✓

350- ساییدگی نا متوازن یا بیش از حد لاستیک ناشی از کدام مورد زیر است؟

(1) تنظیم نبودن فرمان و عدم تنظیم چرخها و ترمزها ✓

(2) سرعت بیش از حد

(3) میزان نبودن باد چرخها

(4) تاب داشتن گاردان

351- اگر چراغ ترمز شما کار نکند چه موقع مجاز به رانندگی هستید؟

(1) در طول روز

(2) زمانی که به آزمایش رانندگی می روید

(3) هیچ وقت ✓

(4) در شرایط اضطراری

352- زمانی که ترمز می کنید وسیله نقلیه شما به یک طرف می کشد عمده ترین اشکال چیست؟

(1) ترمزها به خوبی تنظیم نیست ✓

(2) ترمز دستی بالاست

(3) سطح روغن ترمز پایین است

(4) لاستیک ها بیش از حد ساییده شده اند

353- برای کدام مورد زیر باید از چراغهای خطر هشدار دهنده استفاده کرد؟

- (1) زمانی که در یک منطقه ممنوعه پارک می کنید
- (2) زمانی که اتومبیل شما دچار نقص فنی شده است ✓
- (3) برای رؤیت و دقت بیشتر سایر رانندگان
- (4) برای توقف

354- شما در هنگام رانندگی مجاز هستید با حداکثر سرعتی معادل:

- (1) 50 کیلومتر در خیابان های شریانی اصلی، 50 کیلومتر در خیابان های شریانی فرعی و 30 کیلومتر در معابر محلی و میادین حرکت کنید
- (2) 60 کیلومتر در خیابان های شریانی اصلی، 50 کیلومتر در خیابان های شریانی فرعی و 20 کیلومتر در معابر محلی و میادین حرکت کنید
- (3) 60 کیلومتر در خیابان های شریانی اصلی، 40 کیلومتر در خیابان های شریانی فرعی و 30 کیلومتر در معابر محلی و میادین حرکت کنید
- (4) 60 کیلومتر در خیابان های شریانی اصلی، 50 کیلومتر در خیابان های شریانی فرعی و 30 کیلومتر در معابر محلی و میادین حرکت کنید ✓

355- اگر مجبور شوید در مه رانندگی کنید، کدام عامل زیر را باید بازدید نمایید؟

- (1) اطمینان از سالم بودن بخاری
- (2) کنترل و بازدید باطری
- (3) اطمینان از اینکه در داخل اتومبیل تابلوهای احتیاط دارید
- (4) بازدید چراغها و اطمینان از تمیز بودن شیشه ها ✓


356- زمانیکه رانندگان چراغهای بزرگ را روشن و خاموش می کنند برای شما به چه معناست؟

- (1) شما را از وجود خود مطلع می کنند ✓
- (2) به شما حق تقدم می دهند
- (3) به شما اطلاع می دهند که گشت پلیس در جاده حضور دارد
- (4) به شما اطلاع می دهند که وسیله شما دارای اشکال و نقص است

357- بر روی یک راه لغزنده قسمت عقب اتومبیل شما به سمت راست می لغزد، چکار باید انجام دهید؟

- (1) با دقت و مراقبت فرمان را به سمت چپ بچرخانید
- (2) با دقت و مراقبت فرمان را به سمت راست بچرخانید ✓
- (3) ترمز کنید و فرمان را بچرخانید
- (4) از کلاج و ترمز به طور همزمان استفاده کنید

358- کدام یک از علائم زیر به این مفهوم است که شما قصد گردش به راست را دارید؟



- (1) شکل شماره 1
- (2) شکل شماره 3
- (3) شکل شماره 2 ✓
- (4) شکل شماره 4

359- به هنگام رانندگی در سراسیمی کدام مورد زیر بدلیل پایین نگه داشتن کلاج و خلاص بودن دنده ایجاد می شود؟

- (1) مصرف بنزین بیشتر می شود
- (2) اتومبیل سرعت می گیرد، دنده گذاشتن وسیله سخت می شود، ترمز گرفتن و هدایت اتومبیل سخت می شود ✓
- (3) لاستیک ها سائیدگی بیشتر پیدا می کنند
- (4) موتور سریعتر کار می کند، اتومبیل سرعت می گیرد

360- در چه مواقعی می توان از بوق وسیله نقلیه استفاده کرد؟

- (1) مواقعی که از دیگران بخواهید به شما راه بدهند
- (2) حضور خود را به دیگران اطلاع دهید ✓
- (3) مواقعی که جلب توجه دوستی را می نمایید
- (4) مواقعی که از رانندگانی که آهسته می رانند در خواست کنید تا سریعتر حرکت کنند

361- رانندگان وسایل نقلیه امدادی در چه مواردی مجاز به استفاده از سوت خطر، آژیر، زنگ مخصوص و چراغ گردان می باشند؟

3) به دلخواه راننده

4) در هنگام مواجهه با خطر

362- در سربالایی (راه دارای جدول است) هنگام توقف (پارک) فرمان به کدام سمت باید چرخانده شود؟

1) باید فرمان به چپ (خلاف جهت عقربه های ساعت) چرخانده شود ✓

2) فرمان راست نگه داشته می شود

3) باید فرمان به راست (جهت عقربه های ساعت)

4) تمام موارد فوق صحیح است

363- هنگام نزدیک شدن به پیچ تند در شرایط جاده خیس و یخبندان باید .....

1) از سرعت خود بکاهید و با دنده سنگین حرکت کنید ✓

2) در تمامی مدت کلاچ را پایین نگه دارید

3) به آرامی ترمز دستی را بکشید

4) با دنده خلاص حرکت کنید

364- در شرایط جوی مانند بارندگی و یخبندان و سرما، کنترل و هدایت و توقف اتومبیل به کدام دلیل زیر مشکل می باشد؟

1) به لحاظ کاهش اصطکاک چرخها ✓

2) به لحاظ سرمای هوا و خارج شدن لاستیک ها از حالت طبیعی

3) به لحاظ لغزندگی راهها

4) گزینه های 1 و 2 هر دو صحیح است

365- کلاچ گرفتن باعث کدامیک از موارد زیر می شود؟

1) کنترل راننده به حرکت و سرعت اتومبیل کم می شود

2) پیچیدن به طرفین و چرخاندن فرمان سخت تر می شود

3) کنترل راننده به حرکت و سرعت اتومبیل بیشتر می شود

4) پیچیدن به طرفین و چرخاندن فرمان آسان تر می شود ✓  
www.cargeek.ir

366- برای خروج از پارک .....

- 1) با آینه عقب اتومبیل را کنترل کرده و راهنمای سمت چپ را روشن کنیم سپس سر را به چپ چرخانده با احتیاط و حق تقدم عبور از پارک خارج می شویم ✓
- 2) راهنما زده و با رعایت حق تقدم عبور خارج می شویم
- 3) با رعایت حق تقدم عبور خارج می شویم
- 4) راهنما زده و با دست علامت می دهیم سپس با اطمینان از کنار خود از پارک خارج می شویم


367- چرا رانندگی در شب سخت تر است ؟

- 1) محدود بودن حوزه دید راننده
- 2) عدم تشخیص فاصله و سرعت وسایل نقلیه
- 3) عدم تشخیص به موقع عابر پیاده
- 4) همه موارد ✓

368- برای پارک در حالی که راه دارای جدول کناری و سرازیری است:

- 1) باید فرمان به چپ (خلاف عقربه های ساعت) چرخانده شود
- 2) فرمان مستقیم نگه داشته شود
- 3) باید فرمان به راست چرخانده شود ✓
- 4) گزینه های 1 و 2 صحیح است

369- میزان باد لاستیک ماشین در کدام تصویر صحیح است ؟



- 1) تصویر 1
- 2) تصویر 3 ✓
- 3) تصویر 2
- 4) تصویر 4

- (1) مورب - مقطع
- (2) ممتد - زیگزاگ
- (3) طولی - عرضی ✓
- (4) مقطع - ممتد

371- چه مواقعی راننده نسبت به اتومبیل کنترل کمتری دارد؟

- (1) سربالایی
- (2) در پیچها
- (3) حرکت با دنده خلاص ✓
- (4) هیچکدام

372- رانندگان حق ندارند هنگام رانندگی .....

- (1) استعمال دخانیت نمایند
- (2) تلفن همراه استفاده نمایند
- (3) خوراکی یا آشامیدنی میل نمایند
- (4) همه موارد ✓

373- در کدام حالت راننده نسبت به حرکت وسیله ی نقلیه کنترل کمتری دارد؟

- (1) سرازیری
- (2) سربالایی
- (3) شیب
- (4) حرکت با دنده خلاص ✓

374- برای تنظیم صندلی کدامیک از شرایط ذیل باید مهیا گردد؟

- (1) میدان دید طبیعی شما تامین گردد
- (2) نقطه کور در رانندگی از بین رود

✓ (4) تمامی موارد صحیح است

375- راننده قبل از حرکت اتومبیل موظف است .....

- (1) از داشتن بنزین مطمئن شود
- ✓ (2) از بسته بودن کمربند ایمنی خود و دیگر سرنشینان مطمئن گردد
- (3) آب و روغن ماشین را کنترل نماید
- (4) ترمزهای خود را کنترل نماید

376- در راه بدون جدول کناری، برای پارک در سربالایی .....

- (1) باید فرمان به چپ (خلاف عقربه های ساعت) چرخانده شود
- (2) فرمان مستقیم نگه داشته شود
- ✓ (3) باید فرمان به راست (موافق جهت عقربه های ساعت) چرخانده شود
- (4) گزینه های 1 و 3 صحیح می باشد

377- حساس و میزان نبودن ترمز پایی ....., و جزو جرایم رانندگی می باشد؟

- (1) یک نقص جزئی
- (2) نقص فنی نمی باشد
- (3) بلامانع است
- ✓ (4) نقص فنی محسوب می گردد

378- بهترین نوع دور زدن در خیابان های کم عرض .....

- (1) دور یک فرمان
- (2) حرکت با دنده عقب
- ✓ (3) دور دو فرمان
- (4) هیچکدام

379- تنها زمانی می توانید از تلفن همراه استفاده کنید که :

- 1) در یک محل و مکان امن توقف کرده باشید ✓
- 2) فرمان را با یک دست بگیرید و اتومبیل را هدایت کنید
- 3) وسیله نقلیه شما دارای دنده اتوماتیک باشد
- 4) نیاز به انجام یک تلفن اضطراری باشد

380- در راههای دارای جدول برای پارک در سراسیبی باید:

- 1) ترمز دستی را کشیده و فرمان را به سمت جدول برگردانیم
- 2) اتومبیل را در دنده گذاشته و مانعی جلوی لاستیک عقب قرار دهیم
- 3) فرمان را به سمت جدول چرخانده و اتومبیل را در دنده بگذاریم
- 4) ترمز دستی را کشیده، فرمان را به سمت جدول برگردانیم و اتومبیل را در دنده عقب قرار دهیم ✓

381- برای استفاده از ترمز در حین رانندگی بهتر است .....

- 1) پاها همواره آماده ترمز گرفتن باشد
- 2) پاشنه پا روی کف اتومبیل گذاشته و با پنجه پدال را فشار دهید ✓
- 3) تمام کف پا را روی پدال ترمز قرار دهید
- 4) با کف پا ترمز را به آهستگی فشار داده و به همزمان کلاج بگیرید

382- نحوه گرفتن صحیح فرمان اتومبیل در حالت معمول کدام است ؟

- 1) با یک دست فرمان و با دست دیگر دنده را می گیریم
- 2) با یک دست خارج فرمان و با دست دیگر داخل فرمان را می گیریم
- 3) با هر دو دست و از خارج فرمان را می گیریم ✓
- 4) با هر دو دست محکم فرمان را در پایین نگه می داریم

383- ترتیب کدامیک از پاسخ های زیر برای روشن کردن اتومبیل صحیح است ؟

1) خلاص کردن دنده ها، تنظیم صندلی، بستن کمربند، روشن کردن اتومبیل ✓



- (2) گرفتن کلاج، خلاص کردن دنده و روشن کردن  
(3) تنظیم آینه ها، خلاص کردن دنده و روشن کردن  
(4) تنظیم صندلی، بستن کمربند، تنظیم آینه ها، خلاص کردن دنده و روشن کردن ✓

384- پس از روشن شدن موتور و آماده بودن برای حرکت ابتدا کدام حرکت را باید انجام داد؟

- (1) ابتدا کمربند ایمنی خود را ببندید و مطمئن شوید که سرنشینان نیز کمربند خود را بسته اند ✓  
(2) در حالی که با پای راست ترمز را گرفته ایم، با پای چپ کلاج را فشار دهیم  
(3) ترمز دستی را خلاص کنید  
(4) ترمز پایی را چند بار فشار دهیم تا از سلامت ترمز پایی مطمئن شویم

385- تنظیم صندلی چه شرایطی را مهیا می کند؟

- (1) تسلط به فرمان، پدال های گاز، فرمان و کلاج و دنده  
(2) میدان دید کافی  
(3) نقطه کور برای راننده از بین می رود  
(4) گزینه های 1 و 2 صحیح است ✓

دلیل پاسخ صحیح :

هر جوری صندلی را تنظیم کنید تمامی نقطه کورها از بین نمی روند

386- در چه زمان از دور دوفرمانه می توان استفاده کرد؟

- (1) عرض جاده محدود باشد ✓  
(2) رسیدن به موانع در خیابان های کم عرض  
(3) تقاطع های کوچک  
(4) وارد شدن به کوچه بن بست

387- کم بودن باد لاستیک بر کدام مورد زیر اثر می گذارد؟

- (1) ترمز کردن و هدایت و کار فرمان ✓

388- در کدام حالت راننده نسبت به حرکت وسیله نقلیه کنترل کمتری دارد؟

(1) سرآزیری

(2) سربالایی

(3) شیب

(4) حرکت با دنده خلاص ✓

389- برای تنظیم صندلی کدامیک از شرایط ذیل باید مهیا گردد:

(1) میدان دید طبیعی شما تامین گردد

(2) احساس راحتی و تسلط به اتومبیل را داشته باشید

(3) تمامی نقطه کورها در رانندگی از بین می رود

(4) گزینه های 1 و 2 صحیح است ✓

دلیل پاسخ صحیح:

تمامی نقطه کورها از بین نمی روند

390- هنگام خروج از پارک باید راهنمای ..... روشن کرد

(1) سمت راست

(2) هیچکدام

(3) سمت چپ ✓

(4) هر دو سمت

391- در تصویر روبرو راننده قصد چه حرکتی را دارد؟

(1) به چپ گردش کند

(2) می خواهد متوقف شود



- 3) به راست گردش کند ✓  
4) می خواهد سبقت بگیرد

392- چه موقع مجاز به حرکت با دنده عقب هستید؟

- 1) خیابان یک طرفه  
2) در بزرگراه  
3) موقع ضرورت با احتیاط و خود داری از انسداد راه ✓  
4) در صورت نیاز

#### سوالات بخش 4 - برخورد و واکنش

393- ما بین شما و اتومبیل جلویی فاصله ی 2 ثانیه ای مناسب خواهد بود چنانچه:

- 1) وضعیت راه خشک و هوا خوب باشد ✓  
2) هوا مه آلود باشد  
3) هوا بارانی باشد  
4) هوا مرطوب و جاده خیس باشد

394- با سرعت مجاز در حال رانندگی هستید اتومبیل پشت سر شما می خواهد سبقت بگیرد آیا می توانید مانع سرعت او شوید؟

- 1) بله، برای اینکه راننده ی مذکور قانون شکنی می کند  
2) بله، برای اینکه راننده ی مذکور کار خطرناکی انجام می دهد  
3) نه، به هیچ وجه ✓  
4) نه، مگر اینکه انجام این کار بی خطر باشد

395- در کدام محل سبقت ممنوع است و راننده موظف به رعایت آن است؟  
www.cargeek.ir

- ✓ 1) تقاطعها، پلها، تونلها، سربالایی ها، پیچهای تند و محللهایی که با نصب علائم و خط کشی ممنوع است
- 2) در خیابانهای یک طرفه
- 3) در بزرگراهها، خیابانهای دو طرفه
- 4) خیابانهای دو طرفه، تقاطع ها و پل ها

396- با سرعت مجاز در حال حرکت هستید اتومبیلی به سرعت از پشت به شما نزدیک می شود و با دادن چراغ از شما راه می خواهد چکار باید انجام دهید ؟

- 1) سرعت را حفظ کنید و مانع از سبقت وسیله مذکور شوید
- ✓ 2) اجازه می دهید اتومبیل مذکور سبقت بگیرد
- 3) آهسته ترمز کنید تا چراغ ترمز عقب روشن شود
- 4) برشتاب خود بیافزایید تا اینکه با اتومبیل مذکور فاصله ایمن را حفظ کنید

397- در خیابان شلوغ و پر ترافیک با سرعت مجاز در حال حرکت هستید راننده ی اتومبیل پشت سر سعی می کند سبقت بگیرد چه کار باید انجام دهید ؟

- 1) بر سرعت خود اضافه می کنید تا اینکه راننده پشت سر فاصله بگیرد
- ✓ 2) مسیر صحیح و مستقیم خود را ادامه می دهید تا راننده مذکور سبقت بگیرد
- 3) با دست به راننده پشت سر علامت می دهید تا زمانی که خطری نیست سبقت بگیرد
- 4) به اتومبیل جلویی نزدیک می شوید تا راننده نتواند سبقت بگیرد

398- یک وسیله نقلیه کندرو را هدایت می کنید تعدادی وسیله نقلیه دیگر پشت سر شما منتظر هستند چکار باید انجام دهید ؟

- 1) وقتی که راه باز شد با دست به آنها اشاره می کنید که عبور کنند
- ✓ 2) زمانیکه احساس کردید خطری متوجه شما نمی باشد کنار بکشید و اجازه ی سبقت دهید
- 3) تا حد امکان به حاشیه جاده نزدیک نشوید
- 4) هیچ اقدامی نمی کنید

399- اتومبیلی ناگهان در جلوی شما از یک فرعی بیرون می آید چکار باید انجام دهید ؟

- ✓ 1) از سرعت خود کاسته و آماده توقف شوید
- www.cargeek.ir

400- در یک خیابان یک طرفه در حال رانندگی هستید و قصد دارید به راست بپیچید باید خود را در چه وضعیتی قرار دهید؟

(1) تنها در قسمت چپ خط وسط قرار بگیرید

(2) در باند سمت چپ قرار بگیرید

(3) در هر باندهی که امکان دارد با توجه به وضعیت ترافیک قرار بگیرید

(4) در باند سمت راست قرار بگیرید ✓

401- در موقع دنده عقب گرفتن اتومبیل به علتی قادر به دیدن پشت سر خود نیستید چکار باید بکنید؟

(1) به آینه بغل نگاه کنید

(2) در را باز کرده و پشت سر را نگاه کنید

(3) از افرادی بخواهید که شما را کمک کنند و به شما فرمان بدهند ✓

(4) شیشه را پایین آورده و پشت سر را نگاه کنید

402- به دنبال یک کامیون در حال حرکت هستید، کامیون در حال گردش به راست و وارد شدن به یک جاده باریک است، چه اقدامی انجام می دهید؟

(1) قبل از اینکه کامیون وارد جاده باریک شود به سرعت از او سبقت می گیرید

(2) از او سبقت می گیرید

(3) به طرف راست رفته و با گردش کامیون به راه خود ادامه می دهید

(4) آماده می شوید پشت سر او بایستید ✓

403- چرا سبقت گرفتن از کامیون طویل (کشنده و یدک) خطرناک تر از سبقت گرفتن از یک اتومبیل معمولی است؟

(1) کامیون ها با سرعت کمتری از تپه ها بالا می روند

(2) کامیون ها نسبت به اتومبیل ها کشیده تر هستند و برای سبقت گرفتن از آنها به مسافت و زمان بیشتری نیاز می باشد ✓

(3) ترمزهای کامیون ها به خوبی اتومبیل های دیگر نیست

404- چرا باید قبل از اقدام به سبقت از یک کامیون طویل فاصله را با آن کاملاً حفظ کنیم؟

- 1 ✓ (1) زیرا بتوانید از موقعیت جلوی کامیون اطلاع داشته باشید و در نقطه کور قرار نگیرید
- 2 (2) در صورت توقف کامیون دنده عقب بگیرد
- 3 (3) زیرا برای سبقت گرفتن در پیچ ها شتاب کافی داشته باشید
- 4 (4) برای اینکه در نقطه کور قرار بگیرد

405- در کدام موقعیت زیر وزش شدید باد می تواند در مسیر شما تاثیر بگذارد؟

- 1 ✓ (1) بعد از سبقت گرفتن از یک وسیله نقلیه بزرگ، در مسیرهای باز بدون درخت و موانع طبیعی، در بخشی از شهرها که دارای ساختمان نبوده و در معرض باد قرار دارند
- 2 (2) در شهرها
- 3 (3) زمانی که از مقابل اتومبیل های در حال توقف عبور می کنید
- 4 (4) در تونل ها

406- به دنبال یک کامیون بر روی یک جاده خیس حرکت می کنید، پاشیدن آب باران دیدن را مختل می کند، چکار باید بکنید؟

- 1 (1) در حاشیه حرکت می کنید تا از پاشیدن آب در امان باشید
- 2 (2) سرعت گرفته و سبقت می گیرید
- 3 (3) نزدیک به کامیون حرکت می کنید
- 4 ✓ (4) از کامیون فاصله می گیرید، تا جایی که بتوانید بهتر ببینید

407- در یک جاده دوطرفه از سمت راست در حال حرکت هستید، وسیله دیگری از شما سبقت گرفته و جلوی اتومبیل شما قرار گرفته و بدون رعایت فاصله ایمن، در مقابل شما .....

- 1 ✓ (1) فاصله گرفته و فاصله ایمن را رعایت می کنید
- 2 (2) از او سبقت می گیرید
- 3 (3) به خط عبور سمت چپ هدایت می کنید
- 4 (4) با سرعتی که می توانید ادامه می دهید

408- شما با سرعت 45 کیلومتر در ساعت در یک جاده خشک در حال رانندگی هستید، فاصله شما با اتومبیل جلویی چند طول اتومبیل باید باشد؟

- ✓ (1) 3 طول اتومبیل
- (2) 2 طول اتومبیل
- (3) 5 طول اتومبیل
- (4) 4 طول اتومبیل

409- در خیابان یا جاده با شرایط خوب در حال رانندگی هستید، چگونه می توانید اطمینان حاصل نمایید که فاصله ایمن را با اتومبیل جلویی رعایت کرده اید؟

- (1) باید یک فاصله یک ثانیه ای بین شما و اتومبیل جلویی باشد
- (2) فاصله شما با اتومبیل جلویی باید دو برابر وسیله نقلیه شما باشد
- (3) فاصله شما و اتومبیل جلویی باید به اندازه فاصله خط ترمز با فاصله ترمز کردن شما باشد
- ✓ (4) ما بین شما و اتومبیل جلویی باید یک فاصله زمانی 2 ثانیه ای وجود داشته باشد

410- آیا رانندگان وسیله امدادی در هنگام ماموریت مجاز به عبور از محل ممنوع می باشند؟

- ✓ (1) به علت خطرات موجود نمی توانند عبور ممنوع بروند
- (2) در هر شرایطی مجاز هستند
- (3) به شرطی که موجب تصادف نشوند
- (4) بستگی به شرایط دارد

411- وظیفه رانندگان در موقع برخورد با وسایل نقلیه امدادی که دستگاههای صوتی و خبری خود را بکار انداخته باشد چیست؟

- ✓ (1) باید وسیله نقلیه را به انتها الیه سمت راست راه هدایت و عندالزوم تا گذشتن وسایل نقلیه امدادی متوقف شوند
- (2) در کنار وسیله نقلیه امدادی حرکت کنند
- (3) به سمت چپ متمایل شوند
- (4) به مسیر خود ادامه دهند

412- در خیابان یا جاده با شرایط خوب در حال رانندگی هستید چکار می‌توانید اطمینان حاصل کنید که فاصله ایمن را با اتومبیل جلویی حفظ کرده اید؟

- (1) باید یک فاصله 1 ثانیه ای مابین شما و اتومبیل جلویی باشد
- (2) فاصله بین شما و اتومبیل جلویی باید دو برابر طول وسیله نقلیه شما باشد
- (3) مابین شما و اتومبیل جلویی باید یک فاصله زمانی 2 ثانیه ای وجود داشته باشد ✓
- (4) فاصله بین شما و اتومبیل جلویی باید به اندازه فاصله خط ترمز یا فاصله ترمز کردن شما باشد

413- شما به دنبال یک وسیله نقلیه دیگر بر روی یک جاده خیس رانندگی می‌کنید. فاصله زمانی بین شما و اتومبیل جلویی چقدر باید باشد؟

- (1) سه ثانیه
- (2) یک ثانیه
- (3) دو ثانیه
- (4) چهار ثانیه ✓

414- در یک جاده دو طرفه از سمت راست در حال رانندگی هستید، وسیله دیگری از شما سبقت گرفته و جلوی اتومبیل شما قرار می‌گیرد و بدون رعایت فاصله ایمن در مقابل

- (1) فاصله گرفته و فاصله ایمن را رعایت می‌کنید ✓
- (2) به خط عبور سمت چپ هدایت می‌کنید
- (3) بوق می‌زنید و به او علامت می‌دهید
- (4) با سرعتی که می‌توانید ادامه دهید

415- در کدام محل سبقت ممنوع است و راننده موظف به رعایت آن است؟

- (1) در خیابان های یک طرفه
- (2) خیابان های دو طرفه، تقاطع ها و پل ها
- (3) تقاطع ها - پل ها - تونل ها - سربالایی ها - پیچهای تند و محلهایی که با نصب علائم و خط کشی ممنوع است ✓
- (4) در بزرگراهها، خیابان های دو طرفه

416- هنگامی که قصد دارید از یک وسیله نقلیه طویل که آهسته حرکت می‌کند در یک جاده شلوغ سبقت بگیرید چکار باید انجام دهید؟



- (1) با فاصله کمی پشت وسیله حرکت کنید تا بتوانید بلافاصله متوقف شوید
- (2) ✓ با فاصله کافی پشت سر وسیله نقلیه حرکت کنید تا بتوانید قسمت جلویی وسیله مذکور را ببینید تا زمان مناسب و ایمن برای سبقت فراهم شود
- (3) چراغهای بزرگ را برای وسایل نقلیه ای که از روبرو می آیند روشن کنید تا اجازه دهند که عبور کنید
- (4) در پشت وسیله منتظر بمانید تا راننده به شما اشاره کند که عبور کنید

417- در کدام موقعیت زیر باید اتومبیل را متوقف کنید ؟

- (1) در گذرگاه
- (2) ✓ زمانی که تصادف منجر به جرح یا فوت کرده باشد، در پشت چراغ قرمز و زمانی که پلیس راهنمایی و رانندگی فرمان داده باشد
- (3) در حریم تقاطع
- (4) در تقاطع هایی که دارای خط دابل منقطع باشد

418- روش 2 ثانیه زمان برای ..... مورد استفاده قرار می گیرد ؟

- (1) هیچکدام
- (2) تعیین سرعت
- (3) ✓ تعیین فاصله با اتومبیل جلویی
- (4) تعیین مسافت

419- هنگام رانندگی در هوای مه آلود ..... استفاده می شود.

- (1) چراغ های بغل
- (2) نور بالا
- (3) چراغ راهنما
- (4) ✓ نورپایین

420- در حین رانندگی در صورت برخورد با موارد اضطراری کدامیک از اقدامات زیر را باید انجام داد ؟

- (1) ✓ ترمز ناگهانی نگرفته و با ننگه داشتن هر دو دست بر فرمان سریع و ایمن گردش کرده و از جاده خارج می شویم
- (2) بلافاصله راهنما زده و با کم کردن سرعت اتومبیل را به سمت راست هدایت می کنیم

(3) به اعصاب خود مسلط شده و فرمان را با دو دست محکم می‌گیریم تا اتومبیل را به کنار جاده هدایت کنیم

(4) بلافاصله ترمز کرده و ماشین را به سمت کنار راه هدایت می‌کنیم

421- در صورت ترکیدن لاستیک جلوی اتومبیل باید .....  
www.CAR-GEEK.ir

(1) هیچکدام

(2) فرمان را محکم گرفته و به آرامی توقف کرد ✓

(3) فرمان را رها کرد

(4) به شدت ترمز کرد

422- هوا طوفانی است و شما پشت سر یک موتور سوار در حال حرکت هستید و قصد سبقت دارید چه کار باید انجام دهید؟

(1) فاصله می‌گیرید ✓

(2) بلافاصله از موتور سوار سبقت می‌گیرید

(3) به موتور سوار نزدیک می‌شوید

(4) به موازات هم حرکت می‌کنید

423- به هنگام رانندگی در طول روز در شرایط هوای مه آلود چه کار باید انجام دهید؟

(1) از چراغ راهنما استفاده کنید

(2) از نور پایین استفاده کنید ✓

(3) از نور بالا استفاده کنید

(4) از چراغ بغل اتومبیل استفاده کنید

424- در کدام محل سبقت ممنوع است و راننده موظف به رعایت آن است؟

(1) در خیابان های یک طرفه

(2) تقاطع ها - پل ها - تونل ها - سربالایی ها - پیچ های تند - محل هایی که با نسب علائم و خط کش ممنوع است ✓

(3) در بزرگراهها - خیابان های دو طرفه

(4) خیابان های دو طرفه - خیابان ها و پل ها

425- هنگام مواجهه با زخمیهای تصادف چه کاری نباید انجام داد؟

- 1) دادن خوراکی به آنها ✓
- 2) گرم نگه داشتن آنان
- 3) تنها نگذاشتن آنها
- 4) دلجویی کردن

426- در صورتی که فاصله شما با اتومبیل جلویی در شب 50 متر باشد باید .....

- 1) از نور بالا و پایین استفاده کرد
- 2) نور بالا استفاده کرد
- 3) چراغها را خاموش کرد
- 4) نور پایین استفاده کرد ✓

427- در تصویر روبرو به دنبال کامیون به تقاطع می رسید، کامیون با دادن علامت قصد دور زدن به راست را دارد، ولی به سمت چپ متمایل می شود، چکار باید انجام دهید؟

- 1) وقتی کامیون سرعت را کم می کند از او سبقت می گیریم
- 2) کاملاً فاصله را پشت سر او حفظ کرده و فضا را برای گردش او آزاد می گذاریم ✓
- 3) تصور می کنیم که علامت اشتباه داده و قصد گردش به چپ را دارد
- 4) جهت سبقت به او نزدیک می شویم



428- در صورت زرد شدن چراغ راهنمایی در وسط تقاطع .....

- 1) بلافاصله ترمز کرده و با دنده عقب در پشت خط عابر متوقف می شوید
- 2) برای تخلیه تقاطع به راه خود ادامه می دهید ✓
- 3) بدون رعایت حق تقدم می توان عبور کرد
- 4) متوقف می شوید

429- رانندگان هنگام مشاهده این خطوط چکار باید انجام دهند؟

- 1) ✓ توقف کامل نموده و با رعایت حق تقدم، احتیاط کامل و سرعت کم عبور کنند
- 2) با سرعت عبور کنند
- 3) به چپ گردش کنند
- 4) به راست گردش کنند



430- در شکل مقابل راننده ی اتومبیل قرمز رنگ چه کار باید بکند ؟

- 1) به راننده ی اتومبیل سفید رنگ علامت می دهد که حرکت کند
- 2) بوق زده تا دیگران بدانند کجا قرار دارد
- 3) ✓ علی رغم داشتن حق تقدم و روشن بودن چراغ سبز باید منتظر شود تا راه باز شود
- 4) به حرکت خود ادامه داده وسط تقاطع پشت ترافیک توقف کند



431- زمانی که در یک جاده دو طرفه در حال حرکت هستید و اتومبیلی بدون رعایت فاصله در جلوی شما قرار گیرد چه اقدامی باید انجام دهید ؟

- 1) احتیاجی به رعایت فاصله در جاده ی دو طرفه نیست
- 2) ✓ فاصله گرفته و فاصله ایمن را رعایت کنیم
- 3) با زدن چراغ و بوق راننده را جهت گرفتن فاصله با اطلاع می کنیم
- 4) ترمز کنیم

432- به پلیس مدرسه نزدیک می شوید چه عملی انجام دهید ؟

- 1) با سرعت عبور می کنید
- 2) قبل از توقف به کودکان اشاره می کنید که عبور کنند
- 3) تنها اگر کودکان در حال عبور از خط کشی عابر پیاده هستند توقف می کنید
- 4) ✓ توقف کرده و به کودکان اجازه عبور می دهید



433- در شرایط جوی با میدان دید محدود چگونه می توانید اطمینان کنید که سایر رانندگان قادر به دیدن و رویت شما هستند ؟

(2) کاملاً نزدیک به کنار جاده حرکت کنید

(3) چراغهای نور پایین را روشن کنید ✓

(4) با فاصله کمی با اتومبیل جلویی حرکت کنید

434- هنگامی که قصد دارید از یک وسیله نقلیه طویل که آهسته حرکت می کند در یک جاده شلوغ سبقت بگیرید چه کار باید انجام دهید؟

(1) چراغهای بزرگ را برای وسایل نقلیه ای که از روبرو می آیند روشن کنید تا اجازه دهند عبور کنید

(2) در پشت وسیله منتظر بمانید تا راننده به شما اشاره کند که عبور کنید

(3) با فاصله کافی پشت سر وسیله نقلیه حرکت کنید تا بتوانید قسمت جلویی وسیله مذکور را ببینید تا زمان مناسب و ایمن برای سبقت فراهم شود ✓

(4) هیچکدام

435- در جاده پر ترافیکی اتومبیلها و وسایل نقلیه دیگر پشت سر هم به طور فشرده در حرکت هستند چگونه می توانید از بروز حادثه جلوگیری کنید؟

(1) در شانه خاکی توقف می کنید

(2) فاصله خود را با اتومبیل جلویی افزایش دهید ✓

(3) چراغهای خطر را روشن می کنید

(4) پای خود را روی ترمز قرار می دهید



436- در یک منطقه مسکونی و شهری در حال حرکت هستید به یک سرعت گیر نزدیک می شوید شما باید :

(1) هیچ کدام

(2) با سرعت عبور کنید

(3) سریعاً سرعت خود را کاهش دهید ✓

(4) از قسمت چپ خیابان عبور کنید

437- در هنگام رانندگی در مه از نور ..... چراغهای جلو استفاده کنید.

(1) فلاشرها

(2) بالا

## سوالات بخش 5 - آگاهی از خطرات

438- اگر بعد از آزمایش چشم متوجه شدید که نیاز به عینک دارید چه موقع باید از آن استفاده کنید؟

- (1) ✓ در تمامی اوقات رانندگی
- (2) تنها در زمانی که احساس کنید لازم است
- (3) تنها در نور کم و شبها
- (4) تنها در هوای بد

439- کدامیک از کارهای زیر را نباید در پمپ بنزین انجام داد؟

- (1) قدم زدن
- (2) ✓ سیگار کشیدن
- (3) شستنشو
- (4) غذا خوردن

440- جهت رانندگی خوب باید از چه فاصله ای پلاک اتومبیل ها را بخوانید؟

- (1) از فاصله 15 متری
- (2) از فاصله 10 متری
- (3) از فاصله 28 متری
- (4) ✓ از فاصله 20 متری

441- قصد دارید تا منزل رانندگی کنید، عینک خود را جهت رانندگی نیاز دارید، پیدا نمی کنید چه باید انجام دهید؟

- (1) به هنگام شب رانندگی کنید تا اینکه نور معابر به شما کمک نماید
- (2) از مسیرهای خلوت به آرامی برانید
- (3) ✓ باید به طریقی به منزل بروید که نیاز به رانندگی نباشد [www.cargeek.ir](http://www.cargeek.ir)

442- پوشیدن کفش های مناسب به هنگام رانندگی بسیار اهمیت دارد، علت این امر چیست؟

- 1) به علت تعویض سریع دنده
- 2) بعلت جلوگیری از ساییدگی سطح پلاستیکی پدال ها
- 3) به منظور راحتی پیاده روی در مواقع نقص فنی
- 4) به منظور حفظ کنترل صحیح بر روی پدال ها ✓

443- چه عاملی می تواند میزان خطر ناشی از آسیب دیدگی گردن را در موقع تصادف کاهش دهد؟

- 1) وجود پشتی مناسب پشت سر و تنظیم شده ✓
- 2) ترمزهای ضد قفل
- 3) صندلی مجهز به بالشتک هوا
- 4) فرمان قابل انعطاف

444- شما موقعی می توانید شروع به حرکت نمایید که :

- 1) از بسته شدن کمربند ایمنی خود و سایر سرنشینان مطمئن شوید ✓
- 2) بعد از حرکت اقدام به بستن کمربند ایمنی نمایید
- 3) از بستن کمربند ایمنی سایر سرنشینان مطمئن شوید
- 4) از بستن کمربند ایمنی خود مطمئن شوید

445- راننده اتومبیلی که به چهارراه می رسد یا به محل تقاطع چکار باید بکند؟

- 1) به آرامی حرکت کرده و عبور کند
- 2) باید با همین سرعت به حرکت خود ادامه دهد
- 3) بوق بزند
- 4) باید آهسته رانده و جهت توقف آماده شود ✓

(1) کودکان

(2) کسی که در صندلی جلو نشسته باشد

(3) راننده ✓

(4) والدین

447- تصمیم دارید بر روی سراسیمه اتومبیل خود را پارک کنید کدام اقدام را باید انجام دهید؟

(1) چرخ را روی جدول قرار دهید، ترمز دستی را بکشید. در دنده جلو قرار دهید

(2) نزدیک به سپر اتومبیل جلویی پارک کنید. ترمز دستی را بکشید، در دنده جلو قرار دهید

(3) ترمز دستی را بکشید، در دنده جلو قرار دهید و با فاصله از جدول بایستید

(4) چرخ ها را به سمت جدول بچرخانید، ترمز دستی را بکشید و اتومبیل را در حالت دنده عقب قرار دهید ✓

448- در چهارراهی با میدان دید کم در حال حرکت هستید چکار باید انجام دهید؟

(1) آماده باشید که به سرعت حرکت کنید

(2) در حالیکه طرفین را کاملا نگاه می کنید به آهستگی حرکت کنید ✓

(3) بدون توجه به طرفین به حرکت ادامه دهید

(4) در حالیکه طرف راست را نگاه می کنید، به آهستگی حرکت کنید

449- در یک منطقه مسکونی و شهری در حال حرکت هستید به یک سرعت گیر نزدیک می شوید، شما باید :

(1) سریعا سرعت خود را کاهش دهید ✓

(2) از قسمت چپ جاده عبور کنید

(3) فرصت ندهید عابرین از خیابان عبور کنند

(4) با همان سرعت به حرکت خود ادامه دهید

450- شما قصد دارید رانندگی کنید ولی احساس بیماری می کنید، چکار باید کنید؟

(1) قبل از رانندگی داروی مناسبی بخورید



3) در صورت امکان طول سفر را کوتاه کنید

4) شب زود بخوابید

451- مصرف مشروبات الکلی و مواد مخدر در هنگام رانندگی بر کدام موارد اثر می گذارد؟

1) قدرت واکنش را کاهش می دهد، هماهنگی را کم می کند و تشخیص سرعت را کم می کند ✓

2) اعتماد به نفس را کم می کند و سرعت تشخیص را زیاد می کند

3) اعتماد به نفس را کم می کند، قدرت واکنش را زیاد می کند و سرعت تشخیص را مختل می کند

4) قدرت واکنش را زیاد می کند، سرعت تشخیص را مختل می کند و هماهنگی را کاهش می دهد

452- کدام مورد زیر از نتایج مصرف الکل و مواد مخدر به هنگام رانندگی است؟

1) کنترل بیشتر بر خود، کم شدن احساس اعتماد به نفس، عدم اطلاع صحیح از سرعت

2) واکنش بیهوده، احساس اعتماد به نفس کاذب، کنترل بیشتر خودرو

3) کنترل کمتر خودرو و احساس اعتماد به نفس کاذب و عدم اطلاع صحیح از سرعت ✓

4) کنترل کمتر خودرو، کم شدن احساس اعتماد به نفس، واکنش های بیهوده

453- کدام مورد است که موجب بهم خوردن تمرکز شما در هنگام رانندگی می شود؟

1) نگاه کردن به اطراف خود

2) نگاه کردن به آینه اتومبیل

3) نگاه کردن به نقشه ها، گوش کردن به موزیک با صدای بلند و استفاده از تلفن همراه ✓

4) استفاده از شیشه شور اتومبیل

454- پزشک شما بر اثر بیماری به شما مقداری دارو داده، چرا باید نظر وی را درباره رانندگی خود بپرسید؟

1) ممکن است دارو بر بینایی شما اثر بگذارد

2) داروها کمک می کنند تا شما تبدیل به راننده بهتری شوید

3) بعضی از داروها می توانند موجب کند شدن واکنش شوند ✓

4) مجبورید با خوردن دارو رانندگی کنید

455- شما در هنگام رانندگی در شهر مجاز هستید با حداکثر سرعت معادل:

- 1) 60 کیلومتر در خیابان های شریانی اصلی، 50 کیلومتر در خیابانهای شریانی فرعی و 30 کیلومتر در معابر محلی و میدین حرکت کنید ✓
- 2) 50 کیلومتر در خیابانهای شریانی اصلی، 50 کیلومتر در خیابانهای شریانی فرعی و 30 کیلومتر در معابر محلی و میدین حرکت کنید
- 3) 60 کیلومتر در خیابانهای شریانی اصلی، 50 کیلومتر در خیابانهای شریانی فرعی و 20 کیلومتر در معابر محلی و میدین حرکت کنید
- 4) 60 کیلومتر در خیابانهای شریانی اصلی، 40 کیلومتر در خیابانهای شریانی فرعی و 30 کیلومتر در معابر محلی و میدین حرکت کنید

456- داروی سرفه مصرف می کنید و نمی دانید که در نحوه رانندگی شما تاثیر خواهد گذاشت یا نه، کدام کار را می توانید انجام دهید ؟

- 1) با یک دوست یا خویشاوند خود مشورت کنید
- 2) در صورتی که حالتان خوب است رانندگی کنید
- 3) نوشته روی جعبه دارو را بخوانید و یا با پزشک خود مشورت کنید ✓
- 4) از تجربه دیگران استفاده کنید

457- اگر به هنگام رانندگی احساس خستگی کردید، به محض اینکه توانستید اتومبیل را متوقف کنید تا هنگامی که مجددا شروع به رانندگی کنید چکار باید بکنید ؟

- 1) سعی کنید در معرض هوای تازه قرار بگیرید ✓
- 2) بلافاصله حرکت کنید
- 3) به آرامی با انگشتان خود به فرمان بزنید
- 4) سرعت خود را مرتبا تغییر دهید تا تمرکز خود را بازیابید

458- کدام مورد زیر در سفرهای طولانی به هوشیاری و آگاهی شما کمک می کند ؟

- 1) مطمئن شوید که هوای آزاد به شما می رسد و توقف های منظمی برای آمادگی خود داشته باشید ✓
- 2) سفر خود را تا حد امکان سریعاً به پایان برسانید
- 3) بصورت مداوم رانندگی کنید

459- در جاده ای در حال حرکت هستید و احساس خستگی می کنید، چکار باید بکنید؟

- 1) ✓ در اولین خروجی از جاده خارج شوید، استراحت کوتاهی نمایید و یک لیوان چای بنوشید
- 2) در شانه خاکی جاده توقف نمایید
- 3) به رانندگی ادامه دهید ولی آهسته برانید
- 4) سفر را هر چه سریعتر به انتها برسانید

460- شما به تازگی در امتحان رانندگی قبول شدید، در مقایسه با رانندگان دیگر احتمال تصادف در شما چقدر است؟

- 1) مانند دیگران است
- 2) ✓ احتمال بیشتر است
- 3) احتمال کمتر است
- 4) به سن و سال بستگی دارد

461- نباید مدت زیادی پای خود را روی کلاچ نگه دارید، برای اینکه موجب می شود:

- 1) مصرف بنزین بیشتر خواهد شد
- 2) اصطکاک لاستیک ها با جاده کمتر خواهد شد
- 3) ✓ کنترل شما بر روی وسیله نقلیه کاهش می یابد
- 4) موجب کم شدن عمر گیربکس می شود

462- به هنگام رانندگی در سرایشی کدام مورد زیر به دلیل پایین نگه داشتن کلاچ و خلاص بودن دنده ایجاد می شود؟

- 1) ✓ اتومبیل سرعت می گیرد، دنده گذاشتن وسیله سخت می شود، ترمز گرفتن و هدایت اتومبیل سخت می شود
- 2) مصرف بنزین بیشتر می شود
- 3) موتور سریعتر کار می کند و ماشین سرعت می گیرد
- 4) لاستیک ها ساییدگی بیشتری پیدا می کنند

(1) چراغ های خطر را روشن کند

(2) قبل از مانع توقف کند ✓

(3) با دقت و مراقبت عبور کند

(4) با سرعت عبور کند

464- کدام یک از موارد زیر در تصویر روبرو ایجاد خطر کرده است؟

(1) عابری که منتظر است از خیابان عبور کند (2)

(2) اتومبیل در حال حرکت (اتومبیل شماره 3)

(3) اتومبیل شماره 4

(4) اتومبیل پارک شده (اتومبیل شماره 1) ✓



465- راننده اتومبیل قرمز رنگ که با فلش نشان داده شده است چکار باید انجام دهد؟

(1) بوق زده تا دیگران بدانند کجا قرار دارد

(2) به حرکت خود ادامه دهد و وسط تقاطع پشت ترافیک توقف کند

(3) علیرغم داشتن حق تقدم و روشن بودن چراغ سبز باید منتظر شود تا راه باز شود ✓

(4) به راننده اتومبیل سفید رنگ علامت می دهد که حرکت کند



466- راننده اتومبیل قرمز رنگ نشان داده شده در تصویر چکار باید انجام دهد؟

(1) توقف کرده و به عابرین اجازه عبور دهد ✓

(2) به آرامی به حرکت خود ادامه دهد

(3) تنها در شرایطی که اتومبیلی پشت سرش نباشد توقف کند

(4) به عابرین علامت دهد که عبور کنند



467- عمده ترین خطری که در این تصویر مشاهده می کنید چیست؟

(1) وسیله نقلیه در حال گردش به راست




- 2) دوچرخه سوار در حال عبور از عرض خیابان ✓  
 3) اتومبیل شماره 4  
 4) اتومبیل شماره 3

468- در این تقاطع علامت توقف با خط سفید پیوسته بر روی سطح راه دیده می شود. دلیل ترسیم خط ایست در این محل چیست ؟



- 1) سرعت در راه اصلی محدود است  
 2) دید این تقاطع محدود است ✓  
 3) خطوط هشدار در محور وسط جاده وجود دارد  
 4) سرعت در راه فرعی محدود است



469- روشن بودن چراغ زرد به چه معناست ؟

- 1) آماده ادامه مسیر باشید  
 2) آماده شوید تا در پشت خط ایست بایستید ✓  
 3) اگر افراد پیاده ای در حال عبور نباشند ادامه مسیر دهید  
 4) اگر راه باز باشد ادامه مسیر دهید

470- عمده ترین خطری که راننده اتومبیل پشت سر با آن مواجه خواهد بود چیست ؟



- 1) ممکن است دوچرخه سوار ناگهان به داخل خیابان منحرف شود ✓  
 2) ممکن است دوچرخه سوار ناگهان به سمت راست رفته و پیاده شود  
 3) ممکن است دوچرخه سوار توقف کند  
 4) ممکن است محتویات سبد پشت دوچرخه روی جاده بریزد

471- کدام مورد است که راننده اتومبیل طوسی رنگ باید مراقب باشد ؟

(1) ممکن است هر لحظه با تراکم روبرو شوید

(2) ممکن است سطح خیابان ناهموار باشد

(3) ممکن است شیئی در سطح راه باشد

(4)  ممکن است هر لحظه عابری از بین اتومبیل ها ظاهر شود یا اتومبیلی از پارک خارج و یا درب خودرویی باز شود

472- در یک خیابان پر ترافیک و مجاز جهت دور زدن بی خطرترین شیوه کدام است؟

(1) به داخل خیابان فرعی رفته و به صورت دنده عقب وارد خیابان اصلی شوید

(2) از فردی بخواهید ترافیک را متوقف نماید تا شما دور بزنید

(3) در همان خیابان شلوغ اقدام به دور زدن نمایید

(4)  خیابان فرعی خلوتی را جهت دور زدن پیدا کنید

473- از یک خیابان فرعی می خواهید وارد خیابان اصلی شوید چرا باید بیش از همه مواظب موتورسیکلت سوارها باشید؟

(1)  موتورسیکلتها وسایل کوچکی هستند و دیدن آنها مشکل است

(2) موتورسیکلت ها معمولا نسبت به اتومبیل ها سریعتر هستند

(3) موتورسیکلت ها حق تقدم دارند

(4) پلیس اغلب از موتور سیکلت استفاده می کند

474- موقعی که اتومبیل خود را پارک می کنید، نبایستی .....

(1) در جاده اصلی پارک کنید

(2) در دنده بگذارید

(3)  مانع سایر استفاده کنندگان از راه شوید

(4) ترمز دستی را بکشید

475- شما چه زمامی چراغ هشدار دهنده خطر را روشن می نمایید؟

(1) زمانی که شما در آب و هوای بد رانندگی می کنید

(2) زمانی که یک اتومبیل دارای نقص فنی را بکسل می کنید [www.cargeek.ir](http://www.cargeek.ir)

- (3) زمانی که شما در محل نامناسب پارک کرده اید  
(4) زمانی که شما نمی توانید از توقف اجباری اجتناب کنید ✓

476- در شرایط جوی با میدان دید محدود چگونه می توانید اطمینان کنید که سایر رانندگان قادر به رویت شما هستند؟

- (1) با فاصله کمی از اتومبیل جاویی حرکت کنید  
(2) چراغهای مه شکن عقب را روشن کنید  
(3) چراغهای نور پایین را روشن کنید ✓  
(4) کاملاً نزدیک به کنار جاده حرکت کنید

477- چه مواقعی می توانید به صورت دنده عقب از یک خیابان فرعی به خیابان اصلی وارد شوید؟

- (1) تنها اگر هر دو خیابان خلوت باشد  
(2) در همه مواقع  
(3) هیچ موقع ✓  
(4) تنها اگر خیابان اصلی دارای ترافیک نباشد

478- در کدام یک از موارد زیر نباید دنده عقب بروید؟

- (1) برای مسافتهای طولانی ✓  
(2) برای مسافت طولانی تر از اندازه یک اتومبیل  
(3) دنده عقب در مناطق مسکونی و شهری  
(4) دنده عقب به داخل یک خیابان فرعی

479- در چهارراهی با میدان دید کم در حال حرکت هستید، چکار باید انجام دهید؟

- (1) در حالی که طرف راست را نگاه می کنید، کاملاً آهسته حرکت کنید  
(2) آماده باشید که به سرعت حرکت کنید  
(3) در حالی که طرفین را کاملاً نگاه می کنید، به آهستگی حرکت کنید ✓  
(4) بدون توجه به طرفین به حرکت ادامه دهید

480- در محل تقاطعی قصد دارید به سمت چپ گردش کنید ولی تصور می کنید که راهنمای وسیله نقلیه شما به وضوح توسط دیگران دیده نمی شود، چکار می کنید؟

- 1 ✓ با وجود روشن کردن راهنما با دست علامت می دهید
- 2 پیاده شده و کنترل می کنید که حتما راهنما توسط سایرین دیده شود
- 3 در باند سمت چپ همچنان باقی می مانید
- 4 اتومبیل را کاملا به سمت راست هدایت می کنید

481- در آزادراهی اتومبیل دچار نقص فنی می شود و شما جهت دریافت کمک محل را ترک می کنید. در این شرایط مسافرین شما چه کار می کنند؟

- 1 مسافرین کنار وسیله نقلیه بر روی خطوط عبور منتظر می شوند
- 2 مسافرین به همراه شما تا تلفن اضطراری می آیند
- 3 ✓ از عبور و مرور در آزاد راه خودداری نموده و مسافرین به دور از خطوط عبوری آزاد راه منتظر می شوند
- 4 مسافرین در داخل وسیله نقلیه اضطراری می مانند

482- در محل تقاطع هم سطح راه آهن چراغ قرمز چشمک زن روشن است و علی رغم اینکه قطار عبور کرده چراغ مذکور همچنان چشمک زن باقیمانده است. چه کار باید کرد:

- 1 به مسئول علائم راه آهن اطلاع دهید
- 2 به رانندگان پشت سر مراتب را اعلام کنید
- 3 ✓ منتظر باشید و شروع به حرکت نکنید
- 4 با احتیاط عبور کنید

483- راننده اتومبیلی که به چهارراه می رسد (به محل تقاطع) چکار باید انجام دهد؟

- 1 ✓ باید آهسته راننده و جهت توقف آماده شود
- 2 با همان سرعت به مسیر ادامه دهد
- 3 به آرامی حرکت کرده و عبور کند
- 4 بوق بزند



- 1) به رفتن ادامه دهید زیرا حق تقدم با شماست
- 2) به ترافیک مقابل اشاره می کنید تا عبور کنند
- 3) شتاب بگیرید که زودتر از آنها عبور کنید
- 4) به ترافیک جهت مقابل اجازه عبور می دهید ✓

485- در تقاطعی قصد گردش به سمت چپ دارید ولی میدان دید شما به علت وجود اتومبیل های در حال پارک محدود است، چکار باید انجام دهید؟

- 1) به سرعت خارج شده ولی آمادگی توقف را داشته باشید
- 2) توقف کرده سپس به آرامی به جلو حرکت می کنید تا اینکه دید بهتری از موقعیت داشته باشید ✓
- 3) توقف کرده و سپس اقدام به گردش می کنید و جهت کنترل مسیر جاده اصلی را نگاه کنید
- 4) بوق زده و در صورتی که هیچگونه عکس العملی ندیدید اقدام به گردش کنید

486- در تقاطعی که با چراغ راهنمای کنترل می شود در حال عبور هستید و چراغ سبز روشن است. در چه مواقعی نباید از چراغ سبز عبور کرد؟

- 1) زمانی که عابرین منتظر عبور هستند
- 2) زمانی که در تقاطع راهنبدان است و عبور شما ممکن نخواهد بود ✓
- 3) زمانی که قصد گردش به راست را دارید
- 4) زمانی که فکر می کنید موقع تبدیل چراغ است

487- در چه مواقعی مجاز به حرکت با دنده عقب هستید؟

- 1) رانندگی با دنده عقب در همه موارد مجاز است
- 2) با احتیاط کامل و احتراز از هرگونه حادثه و انسداد راه می توان در مواقع ضروری با دنده عقب حرکت کرد ✓
- 3) چنانچه قصد ورود از گاراژ خصوصی یا خیابان فرعی به اصلی را دارید
- 4) در راههای یک طرفه می توان با دنده عقب حرکت کرد

488- در شکل مقابل راننده اتومبیل قرمز رنگ چه باید بکند؟

www.cargeek.ir (1) به راننده اتومبیل سفید رنگ علامت دهد که حرکت کند

(2) بوق زده تا دیگران بدانند کجا قرار دارد

(3) به حرکت خود ادامه داده وسط تقاطع پشت ترافیک توقف کند

(4) ✓ علیرغم داشتن حق تقدم و روشن بودن چراغ سبز باید منتظر شود تا راه باز شود

489- پس از سبقت چه زمانی می بایست به خط اولیه بازگشت؟

(1) وقتی به اتومبیل مقابل نزدیک می شوید

(2) هنگامی که از اتومبیلی که از آن سبقت گرفتید گذشته باشید

(3) پس از زدن راهنما و اطمینان از عبور اتومبیل کناری

(4) ✓ زمانی که چراغ های بزرگ اتومبیلی را که از آن سبقت گرفته اید در آینه داخل اتومبیل مشاهده کنید

490- کدامیک از موارد زیر در تصویر مقابل ایجاد خطر کرده است؟

(1) ✓ اتومبیل شماره 1 (اتومبیلی که پارک شده)

(2) شماره 2 (عابری که منتظر است از خیابان عبور کند)

(3) اتومبیل شماره 3 (اتومبیلی که در حال حرکت است)

(4) اتومبیل شماره 4



491- سبقت گرفتن در پیچ های تند و سربالایی ها .....

(1) بلامانع است

(2) با احتیاط کامل می توان سبقت گرفت

(3) ضروری است

(4) ✓ ممنوع است

492- در چه فاصله ای از پیچ ها دور زدن ممنوع می باشد؟

(1) ✓ 150 متری

(2) 100 متری

(3) 200 متری

493- چرا باید برای سبقت از یک وسیله طویل فاصله بیشتری با آن حفظ کرد؟

- 1)  گزینه های 2 و 3 صحیح است
- 2) راحت بتوانیم با سرعت حرکت کنیم
- 3) بتوانیم جلوی کامیون را ببینیم
- 4) برای اینکه در نقطه ی کور قرار نگرفته و راننده کامیون بتواند ما را ببیند

494- شما با سرعت 45 کیلومتر در ساعت در یک جاده خشک در حال رانندگی هستید، فاصله ی شما با اتومبیل جلویی چند طول اتومبیل باید باشد؟

- 1) 2 طول اتومبیل
- 2)  3 طول اتومبیل
- 3) 4 طول اتومبیل
- 4) 5 طول اتومبیل

495- فاصله ی شما با سرعت 45 کیلومتر در ساعت با اتومبیل جلویی در راههای خشک ..... طول اتومبیل است.

- 1) 4 برابر
- 2) 6 برابر
- 3)  3 برابر
- 4) 2 برابر

496- برای سبقت گرفتن از یک وسیله طویل مانند کامیون باید فاصله بیشتری را با آن حفظ کرد زیرا .....

- 1) بتوانیم جلوی کامیون را ببینیم
- 2) در نقطه کور راننده کامیون قرار نگیریم
- 3)  همه موارد بالا
- 4) این کار با ایمنی کامل همراه باشد

✓ (1) 2 ثانیه

(2) 3 ثانیه

(3) 5 ثانیه

(4) 4 ثانیه

498- سبقت گرفتن برای اتوبوسها و کامیونها در معابر شهری .....

(1) ضرورتی ندارد

✓ (2) ممنوع است

(3) بلامانع است

(4) با احتیاط کامل ضروری است

499- نداشتن برف پاک کن در مواقع بارندگی و زنجیر چرخ در یخبندان و دود کردن اتومبیل نقص فنی ..... و جریمه به آن .....

✓ (1) محسوب می گردد - تعلق می گیرد

(2) محسوب نمی گردد - تعلق نمی گیرد

(3) محسوب نمی گردد - تعلق می گیرد

(4) محسوب می گردد - تعلق نمی گیرد

500- کدام گزینه صحیح نمی باشد؟

✓ (1) سبقت گرفتن در تونل ها بلامانع است

(2) در تقاطع سبقت گرفتن ممنوع است

(3) سبقت از وسیله ای که خود در حال سبقت گرفتن است ممنوع است

(4) در سر پیچ های تند و سربالایی ها دور زدن ممنوع است

501- نداشتن برف پاک کن در موقع رانندگی .....

(1) خلاف مقررات می باشد

502- کدام مورد است که به هنگام سبقت گرفتن از آنها باید فضای بیشتری را برای وسیله نقلیه در نظر بگیرید؟

(1) موتورسیکلت و دوچرخه ✓

(2) تراکتور

(3) ماشین های مجاور

(4) جرثقیل

503- چه موقعی باید بیش از حد مراقب موتورسیکلت ها و دوچرخه سوارها باشید؟

(1) در محل تقاطع ها ✓

(2) در جاده های یک طرفه

(3) در جاده های دو طرفه

(4) در خط کشی عابرین پیاده

504- هنگامی که پلیس راهنمایی دست خود را به موازات شانه بالا و پایین می برد به چه معناست؟

(1) رانندگان وسایل نقلیه در حال حرکت از سرعت خود بکاهند ✓

(2) رانندگان با سرعت عبور کنند

(3) رانندگان با سرعت بایستند

(4) بعد از عبور پشت سر او بایستند

505- در چه فاصله ای از ورودی یا خروجی مراکز آتش نشانی، پلیس و بیمارستان ها توقف ممنوع است؟

(1) 5 متر

(2) 15 متر ✓

(3) 70 متر

(4) 20 متر

506- سبقت گرفتن برای اتوبوس ها و کامیون ها در سطح شهر .....

- ✓ (1) ممنوع است
- (2) بلامانع است
- (3) ضرورتی ندارد
- (4) با احتیاط کامل ضروری است

507- کدام گزینه در مورد حداقل فاصله طول ایمن با خودروی جلویی در شرایط برف صحیح نمی باشد؟

- (1) به ازای هر 15 کیلومتر 3 طول اتومبیل
- (2) به ازای هر 30 کیلومتر 6 طول اتومبیل
- ✓ (3) به ازای هر 60 کیلومتر 12 طول اتومبیل
- (4) به ازای هر 45 کیلومتر 9 طول اتومبیل

508- در کدام محل نباید پارک کرد؟

- (1) در 15 متر تقاطع ها
- (2) در ایستگاه اتوبوس
- ✓ (3) گزینه های 1 و 2 صحیح است
- (4) در خیابان های اصلی

509- روش 2 ثانیه زمان برای ..... مورد استفاده قرار می گیرد.

- (1) تعیین سرعت
- (2) تعیین مسافت
- (3) هیچکدام
- ✓ (4) تعیین فاصله با اتومبیل جلویی

510- عمده ترین خطری که راننده اتومبیل پشت سر با آن مواجه خواهد بود چیست؟



- 1) ✓ ممکن است دوچرخه سوار ناگهان به داخل خیابان منحرف شود
- 2) ممکن است دوچرخه سوار ناگهان به سمت راست رفته و پیاده شود
- 3) ممکن است دوچرخه سوار توقف کند
- 4) ممکن است محتویات سبد پشت دوچرخه روی جاده بریزد

## سوالات بخش 6 - عابرین پیاده

511- قصد وارد شدن به خیابان فرعی را دارید، افراد پیاده شروع به عبور از یک سوی خیابان به سوی دیگر کرده اند چکار باید انجام دهید ؟

- 1) به حرکت ادامه داده و با فاصله ی زیاد از مقابل آنها عبور کنید
- 2) بوق زده و عبور کنید
- 3) ✓ توقف کرده و به آنان اجازه ی عبور دهید
- 4) با دست اشاره کنید تا عبور کنند

512- در تقاطعی قصد گردش به سمت چپ را دارید ولی میدان دید شما به دلیل اتومبیل های در حال پارک محدود است چه کار باید انجام دهید ؟

- 1) به سرعت خارج شده ولی آمادگی توقف را داشته باشید
- 2) ✓ توقف کرده و سپس به آرامی به جلو حرکت می کنید تا اینکه دید بهتری از موقعیت داشته باشید
- 3) بوق زده و در صورتی که هیچ گونه عکس العملی ندیدید اقدام به گردش کنید
- 4) توقف کرده و سپس اقدام به گردش می کنید و جهت کنترل مسیر جاده اصلی را نگاه می کنید

513- در کدام محل توقف اتومبیل موجب ایجاد خطر و مانع برای سایرین خواهد شد ؟

- 1) خیابان یا کوچه فرعی منتهی به محل شما، در فضای پارکینگ علامت گذاری شده، مقابل درب ورودی ساختمان ها و منازل
- 2) حریم تقاطع ها و گذرگاههای عابر پیاده در پارکینگ، خیابان یا کوچه فرعی منتهی به محل شما
- 3) ایستگاه اتوبوس یا نزدیک آن، در فضای پارکینگ علامت گذاری شده، خیابان یا کوچه فرعی منتهی به محل شما
- 4) ✓ مقابل درب ورودی ساختمان ها و منازل، ایستگاه اتوبوس یا نزدیک آن، حریم تقاطع ها و گذرگاههای عابر پیاده

514- موقعی که اتومبیل خود را پارک می کنید، نبایستی ...

- 1) مانع سایر استفاده کنندگان از راه شوید ✓
- 2) ترمز دستی را بکشید
- 3) در دنده بگذارید
- 4) در جاده اصلی پارک کنید

515- از کنار اتومبیل های در حال پارک عبور می کنید، متوجه می شوید توپی از داخل پیاده رو به خیابان پرتاپ می شود چه عکس العملی از خود نشان می دهید؟

- 1) با همان سرعت عبور کنید و بوق بزنید
- 2) توقف کرده و به کودک اشاره می کنید که توپ خود را بردارد
- 3) از سرعت خود کاسته و آماده توقف برای کودکی که به دنبال توپ خواهد بود می شوید ✓
- 4) با همان سرعت به رانندگی خود ادامه داده و چراغها را روشن کنید

516- هنگامی که از نزدیکی مدرسه ای عبور می کنید احتمال عبور کودکان وجود دارد چه اقدامی انجام می دهید؟

- 1) با بوق زدن مداوم آنان را از عبور خود آگاه می سازید
- 2) قبل از ورود کودکان به سواره رو با سرعت از منطقه عبور می کنید
- 3) با روشن کردن چراغ به آنها هشدار می دهید
- 4) همیشه سرعتی مناسب داشته باشید و پیش بینی خطرات جانبی را بنمایید ✓

517- اگر عابری را ببینید که عصای سپیدی دارد به چه معناست؟

- 1) معلول است
- 2) مسن است
- 3) ناشنواست
- 4) نابیناست ✓

518- در پشت سر یک دوچرخه سوار در حال رانندگی هستید قصد دارید به سمت راست گردش کنید چه کار می کنید؟



- (1) از دوچرخه سوار سبقت گرفته و قبل از تقاطع از وی جلو بگریید
- (2) ✓ در پشت سر وی به حرکت ادامه می دهید تا اینکه دوچرخه سوار از محل تقاطع مورد نظر شما رد شود
- (3) همجوار و موازی با دوچرخه سوار برانید و بعد از اینکه از تقاطع گذشت از او سبقت بگیرید
- (4) در محل تقاطع از وی جلو بزنید

519- کدام مورد است که به هنگام سبقت گرفتن از آنها باید فضای بیشتری را برای وسیله ی نقلیه در نظر بگیرید ؟

- (1) ✓ موتور سیکلت و دوچرخه
- (2) ماشین های حامل مسافر، ماشینهای حامل بار
- (3) ماشین های مجاور وسیله ی نقلیه ی سنگین
- (4) وانت و تراکتور

520- چرا به هنگام وزش باد در حال سبقت گرفتن از موتور سوار باید فاصله ی بیشتری را رعایت نمود ؟

- (1) ممکن است موتورسوار در اثر وزش باد، موتور را خاموش کند
- (2) ممکن است موتورسوار بیش از حد معمول سرعت داشته باشد
- (3) ممکن است موتور سوار به طور ناگهانی متوقف شود
- (4) ✓ ممکن است موتور سوار در اثر وزش باد منحرف شود

521- در حال رانندگی در شهر هستید، اتوبوسی در ایستگاه ایستاده است چرا باید دقت نمایید ؟

- (1) ممکن است اتوبوس نقص فنی پیدا کرده باشد
- (2) ممکن است اتوبوس قصد حرکت با دنده عقب را داشته باشد
- (3) ✓ ممکن است عابری پس از پیاده شدن از اتوبوس یک دفعه جلوی اتومبیل شما ظاهر شوند
- (4) ممکن است اتوبوس ناگهان حرکت کند

522- چرا باید در هنگام رانندگی توجه به جلو و اطراف داشته باشیم ؟

- (1) ✓ خطرات علائم را پیش بینی کرده و زمان بیشتری را برای واکنش داشته باشیم
- (2) از مناظر طبیعی استفاده نماییم
- (3) در انتخاب مسیر دچار اشتباه نشویم

523- چه موقعی باید بیش از حد مواظب موتور سیکلت سوارها و دوچرخه سوارها باشیم؟

- (1) در جاده های دو طرفه
- (2) در محل تقاطع ها ✓
- (3) در خط کشی عابرین پیاده
- (4) در خیابان های یک طرفه

524- کدام مورد است که به هنگام عبور احتشام از جاده باید انجام دهید؟

- (1) به سرعت عبور کنید ولی آرام و بی صدا حرکت کنید
- (2) به آرامی به حرکت خود ادامه دهید
- (3) بوق بزنید، چراغ بزنید
- (4) از سرعت خود کاسته و آماده توقف شوید و باید فاصله مناسب را نسبت به آنها حفظ کنید ✓

525- هنگام رانندگی در جاده در مواجه شدن با حیوانات چه کار می کنید؟

- (1) آرام ترمز کرده و آماده توقف می شوید ✓
- (2) جهت هشدار به آنها بوق می زنید
- (3) سرعت مهم نیست تنها فضا و فاصله کافی را رعایت می کنید
- (4) به آنها نزدیک شده و هرچه سریعتر از آنها سبقت می گیرید

526- قانون اولیه و پایه در مورد رانندگی در آزادراهها چیست؟

- (1) همیشه از سمت راست برانید مگر آنکه قصد سبقت داشته باشید ✓
- (2) سعی کنید با سرعت بیشتر از 90 کیلومتر در ساعت رانندگی کنید
- (3) از سمتی سبقت بگیرید که خلوت باشد
- (4) از باندهی استفاده کنید که کمترین ترافیک را دارد



(1) پارک کردن برای مدت کوتاهی مجاز است

(2) بوق زدن ممنوع

(3) با سرعت 20 کیلومتر برانید

(4) ایستادن ممنوع ✓

528- هنگامی که از نزدیکی مدرسه ای عبور می کنید احتمال عبور کودکان وجود دارد چه اقدامی انجام می دهید؟

(1) همیشه سرعتی مناسب داشته باشید و پیش بینی خطرات جانبی را بنمایید ✓

(2) قبل از ورود کودکان به سواره رو با سرعت از منطقه عبور کنید

(3) با روشن کردن چراغ به آنها هشدار دهید

(4) با بوق زدن مداوم آنان را از عبور خود آگاه می سازید

529- تنها برای انجام موارد زیر می توانید به رانندگان و عابری با چراغ بزرگ علامت دهید.

(1) جهت اعلام حضور به آنها ✓

(2) جهت اعلام اینکه حق تقدم با شماست

(3) جهت اعلام این مسئله که دنده عقب می روید

(4) جهت اعلام اینکه به آنها راه داده اید

530- در حال نزدیک شدن به خط کشی عابر پیاده هستید. عابری منتظرند تا عبور کنند. چه مواردی را باید انجام دهید؟

(1) از چراغ بزرگ جهت علامت دادن به آنها برای عبور استفاده کنید

(2) سرعت را کم کرده و آماده توقف در پشت خط ایست شوید ✓

(3) با دست به آنها اشاره کنید که عبور کنند

(4) تنها به افراد مسن و ناتوان اجازه عبور دهید

531- در صورتی که شخصی با تابلویی که در شکل می بینید جلوی شما قرار بگیرد، چه عملی باید انجام دهید؟

(1) قبل از رسیدن به شخص توقف می کنید ✓



(2) حق تقدم با اتومبیل است

(3) سریعتر عبور می کنید

(4) سرعت را کم نموده و عبور می کنید

## سوالات بخش 7 - مقررات راه و آزادراه

532- در چه شرایطی می توانید از باند سمت چپ در آزادراه استفاده کنید؟

(1) برای سبقت از سایر وسایل نقلیه ✓

(2) برای رانندگی در سرعتهای بیش از 90 کیلومتر در ساعت

(3) هنگامی که با سرعت کم حرکت می کنیم

(4) برای کنار رفتن از سر راه کامیونهای بزرگ

533- در آزادراهها میخهای زرد رنگ چشم گربه ای در چه محلی دیده می شوند؟

(1) بین محل خالی وسط آزاد راه و باند اصلی ✓

(2) بین هر دو باند مجاز

(3) در باند کاهش و افزایش سرعت

(4) بین شانه ی خاکی و باند اصلی

534- در آزاد راه تنها در چه مواقعی می توانید در شانه جاده توقف کنید؟

(1) اگر به طور تصادفی از خروجی مورد نظر رد شده باشید و قصد برگشت داشته باشید

(2) اگر قصد سوارکردن افراد کنار جاده را دارید

(3) در شرایط اورژانس و اضطراری ✓

(4) اگر احساس کردید نیاز به استراحت دارید

535- در آزادراهی در حال رانندگی هستید اشتباهاً از محل خروجی خروجی خروجی را داشته اید رد می شوید چه کار باید کرد؟

- 1 ✓ (1) تاخروجی بعدی به راه خود ادامه دهید
- (2) در محل اولین بریدگی وسط آزادراه دور بزنید
- (3) با دقت دنده عقب رفته و از باند سمت چپ به عقب برگردید
- (4) با دقت از شانه آزاد راه به صورت دنده عقب حرکت کنید

536- در کدام محل است که نباید پارک کنید؟

- (1) در خیابان های فرعی
- 2 ✓ (2) در 15 متری تقاطع ها و در ایستگاه اتوبوس
- (3) در خیابان های یکطرفه
- (4) در خیابان های اصلی

537- در یک تقاطع هیچگونه علائم یا تابلویی وجود ندارد، دو اتومبیل نزدیک می شوند، کدامیک حق عبور دارند؟

- (1) اتومبیلی که در خیابان پهن تر قرار دارد
- (2) اتومبیلی که سریعتر حرکت می کند
- (3) اتومبیل هایی که از سمت راست وارد می شوند
- 4 ✓ (4) هیچکدام باید هر دو وسیله توقف کنند و سپس با احتیاط کامل و رعایت حق تقدم از تقاطع بگذرند

538- وقتی در باندهای که حرکت می کنید اتومبیل ها توقف کرده باشند و راه مسدود شده باشد چه کار باید کرد؟

- 1 ✓ (1) به ترافیک جهت مقابل اجازه عبور می دهید
- (2) به ترافیک مقابل اشاره می کنید تا عبور کنند
- (3) شتاب بگیرید که زودتر از آنها عبور کنید
- (4) به رفتن ادامه می دهید زیرا حق تقدم با شماست

539- وجود تابلوی «سرعت بیش از 30 کیلومتر بر ساعت ممنوع» در جاده به چه معناست؟

- 1 ✓ (1) نباید از سرعت نشان داده شده در تابلو تجاوز کنید
- (2) سرعت مذکور حداقل سرعتی است که توصیه می شود

(4) تنها باید با سرعت مشخص شده در تابلو رانندگی کنید

540- قصد دارید اتومبیل خود را در کنار خیابان پارک کنید در چه مواقعی می توانید موتور آن را روشن بگذارید؟

- (1)  هیچ وقت نمی توانید
- (2) اگر باطری در حال تمام شدن باشد
- (3) اگر مسافری در داخل اتومبیل باشد
- (4) در صورتیکه اتومبیل را در کمتر از 5 دقیقه پارک کنید

541- شما بعد از ورود به یک میدان قصد ادامه مسیر مستقیم دارید چه کار می کنید؟

- (1) زمانیکه به میدان نزدیک می شوید به سمت راست علامت می دهید
- (2)  با توجه به چراغ راهنما و حق تقدم عبور وسایل نقلیه به مسیر خود ادامه داده و از میدان خارج می شویم
- (3) زمانیکه به میدان نزدیک می شوید به سمت چپ علامت می دهید
- (4) به هیچ وجه علامت نمی دهید

542- در محل گذرگاه همسطح منتظر عبور قطاری هستید با توجه به اینکه قطار عبور کرده و چراغ همچنان روشن است چه کار باید کرد؟

- (1) به لبه خط نزدیک شده و قطار را جتجو می کنید
- (2)  همچنان منتظر می مانید
- (3) وسیله را پارک کرده و مسئله را تحقیق می کنید
- (4) به مسئول چراغ تلفن می کنید

543- در چه مواقعی مجاز به حرکت با دنده عقب هستید؟

- (1) در راههای یکطرفه می توان با دنده عقب حرکت کرد
- (2) چنانچه قصد ورود از گاراژ خصوصی یا خیابان فرعی به اصلی را دارید
- (3)  با احتیاط کامل و احتراز از هر گونه حادثه و انسداد راه می توان در مواقع ضروری با دنده عقب حرکت کرد
- (4) رانندگی با دنده عقب در همه موارد مجاز است

544- در یک خیابان شلوغ جهت دور زدن بی خطرترین شیوه کدام است؟

- 1) از فردی بخواهید ترافیک را متوقف نماید تا شما دور بزنید
- 2) به داخل خیابان فرعی رفته و به صورت دنده عقب وارد خیابان اصلی شوید
- 3) در همان خیابان شلوغ اقدام به دور زدن نمایید
- 4)  خیابان فرعی خلوتی را جهت دور زدن پیدا کنید

545- چه موقع می توان به صورت دنده عقب از یک خیابان فرعی به خیابان اصلی وارد شوید؟

- 1)  هیچ موقع
- 2) در همه مواقع
- 3) تنها اگر خیابان اصلی دارای ترافیک نباشد
- 4) تنها اگر هر دو خیابان خلوت باشد

546- در کدامیک از موارد زیر نباید دنده عقب بروید؟

- 1) دنده عقب به داخل یک خیابان فرعی
- 2) دنده عقب در مناطق مسکونی و شهری
- 3)  برای مسافتهای طولانی
- 4) برای مسافت طولانی تر از اندازه یک اتومبیل

547- در چه شرایطی می توانید از خط عبور سمت چپ در ازاد راه استفاده کنید؟

- 1) برای رانندگی در سرعت های بیش از 90 کیلومتر
- 2) برای کنار رفتن از سر راه کامیونهای بزرگ
- 3) هنگامی که با سرعت کم حرکت می کنیم
- 4)  برای سبقت از سایر وسایل نقلیه

548- در کدام محل نباید پارک کرد؟

- 1) خیابان های اصلی با تابلو پارک ممنوع

(2) در 15 متری تقاطع ها

(3) گزینه های 1 و 2 و 4 صحیح است ✓

(4) در ایستگاه اتوبوس

549- خطوط شکل مقابل به چه معناست ؟

(1) خطوط پارک افقی ✓

(2) موانع کنار جدول

(3) پارک عمودی

(4) تعویض راه از یک طرف

550- در صورت کشیدن یدک یا باری که از ماشین بیرون زده است با چه چیزی باید دیگر رانندگان را متوجه کرد ؟

(1) پرچم سفید به ابعاد 50 سانتی متر مربع ✓

(2) پرچم قرمز انتهای یدک

(3) پرچم زرد و چراغ خطر

(4) چراغ قرمز رنگ یدک

551- هنگام رانندگی از چه فاصله ای پلاک ماشین جلویی را باید بخوانید ؟

(1) 20 متری ✓

(2) 10 متری

(3) 25 متری

(4) 15 متری

552- در خیابان یکطرفه باید اتومبیل را در کدام سمت خیابان پارک کرد ؟

(1) هر دو طرف بلامانع است

(2) راست

(3) پارک در خیابان یکطرفه ممنوع است

(4) چپ ✓



553- متداولترین نوع پارک در شهرها کدام است؟

- 1) پارک دوبل ✓
- 2) پارک در محل مجاز
- 3) پارک در پارکینگ
- 4) پارک 30 سانتی متر

554- دسترسی در آزاد راهها چگونه است؟

- 1) از طریق پل های هوایی و زیرگذرها ✓
- 2) از طریق تقاطع
- 3) تا شهرک یا تقاطع جاده دیگر راهی ندارد
- 4) از طریق اولین خروجی

555- خطوط زیگزاگ شکل روبرو به چه معناست؟

- 1) عبور کردن آزاد، اما ایستادن روی این خطوط ممنوع است
- 2) توقف کامل روی این خطوط آزاد است
- 3) محل پارک اتومبیل ها می باشد
- 4) عبور کردن و ایستادن روی این خطوط ممنوع است ✓



556- علائم رانندگی به ترتیب اولویت عبارتند از .....

- 1) فرمان پلیس - چراغ راهنما - تابلوها - خط کشی ✓
- 2) فرمان پلیس - تابلوها - چراغ راهنما - خط کشی
- 3) تابلوها - چراغ راهنما - فرمان پلیس - خط کشی
- 4) فرمان پلیس - چراغ راهنما - خط کشی - تابلوها

557- کدام گزینه در مورد شکل روبرو صحیح می باشد؟

- (1) رانندگانی که در سمت خط ممتد هستند برای سبقت می توانند از روی آن عبور کنند
- (2)  رانندگانی که در سمت خط ممتد هستند نباید از روی آن عبور کنند رانندگانی که در سمت خط مقطع هستند می توانند از روی آن عبور کنند
- (3) هیچکدام
- (4) این خطوط در جریان ترافیک باعث جداسازی در یک راه می شوند

558- کدام گزینه صحیح نیست؟

- (1)  در جاده های فرعی حداکثر میزان سرعت مجاز 95 کیلومتر در روز
- (2) در آزاد راهها حداقل سرعت 70 کیلومتر در ساعت
- (3) در بزرگراهها حداکثر سرعت 100 کیلومتر در ساعت
- (4) در جاده های اصلی حداکثر میزان سرعت مجاز 95 کیلومتر در روز

559- خطوط هاشور شکل به معنای ..... می باشد

- (1) عبور اطفال
- (2)  وجود موانع در راهها
- (3) خط ایست
- (4) عبور عابر پیاده

560- رنگ تابلو در بزرگراه ها و آزاد راهها به ترتیب .....

- (1) قرمز - نارنجی
- (2)  سبز - آبی
- (3) سبز - قرمز
- (4) قرمز - آبی

561- در کدام محل نباید پارک کرد؟

- (1) محل های غیر مجاز (روی پل ها)

(3) همه موارد ✓

(4) در ایستگاه های اتوبوس

562- خطوط شکل روبرو به چه معناست ؟

(1) رانندگان فقط می توانند سبقت بگیرند

(2) رانندگان به هیچ وجه نبایست از روی آن عبور کنند

(3) ✓ رانندگان می توانند با رعایت احتیاط، عمل گردش، سبقت، تغییر خط حرکت و دور زدن را انجام دهند

(4) رانندگان فقط در ترافیک می توانند از روی آن عبور کنند

563- در کدام محل است که نباید پارک کرد ؟

(1) در خیابان های یک طرفه

(2) در خیابان اصلی

(3) ✓ در 15 متری تقاطع ها و در ایستگاه اتوبوس

(4) در خیابان فرعی

564- خطوط به رنگ زرد به صورت زیگزاگ در حاشیه راههای متصل به پیاده رو نشانگر چیست ؟

(1) پارک برای وسیله نقلیه

(2) ✓ عبور کردن و ایستادن روی آنها ممنوع می باشد

(3) هیچکدام

(4) ایستادن روی آنها آزاد است

565- خطوط شکل مقابل به چه معناست ؟

(1) تعویض راه از یک طرف

(2) موانع کنار جدول

(3) پارک عمودی

4) خطوط پارک افقی ✓

566- خط هاشور روبرو به چه معناست؟

- 1) توقف کامل
- 2) موانع در راهاست ✓
- 3) گردش به راست
- 4) سرعت

567- منظور از خط زرد رنگ زیگزاگ در حاشیه خیابان چیست؟

- 1) ایستادن روی آن ممنوع است ✓
- 2) مخصوص توقف اتومبیل
- 3) گزینه های 1 و 2 صحیح هستند
- 4) توقف کوتاه آزاد است

568- تابلوها در آزاد راهها به رنگ ..... هستند.

- 1) سفید
- 2) آبی ✓
- 3) سبز
- 4) قرمز

569- منظور از خطوط توقف در این تقاطع چیست؟

- 1) محدود بودن حرکت

- 2) توقف کامل نموده و با رعایت حق تقدم دیگران و احتیاط کامل عبور می کنیم ✓
- 3) با دادن علامت به حرکت خود ادامه می دهیم
- 4) خطوط هشدار در محور وسط تقاطع



570- خط ..... خط کشی عرضی است که در ورودی تقاطع و به منظور تعیین مرز توقف وسایل نقلیه پیش از گذرگاه پیاده در سطح راه ترسیم می شود.

- 1) زیگزاگ
- 2) ایست ✓
- 3) پارک
- 4) هاشور

571- منظور از خطوط تقاطع در این تقاطع چیست ؟

- 1) محدود بودن حرکت
- 2) توقف کامل نموده با رعایت حق تقدم دیگران و سرعت کم حرکت می کنیم ✓
- 3) با دادن علامت به حرکت خود ادامه می دهیم
- 4) خطوط هشدار در محور وسط تقاطع



572- در خیابان یک طرفه باید در کدام سمت اتومبیل را پارک کرد ؟

- 1) در خیابان یک طرفه نمی توان پارک کرد
- 2) چپ ✓
- 3) در هر دو طرف پارک شود مانعی ندارد
- 4) راست

573- دو خط ممتد در کنار هم به معنای .....

(3) فقط سبقت روی این خطوط انجام می گیرد

(4) تاکید بیشتر برای حرکت نکردن روی آنها ✓

574- حداکثر سرعت در جاده های اصلی خارج از شهر :

(1) در روزها 90 کیلومتر - در شب 85 کیلومتر

(2) ✓ در روزها 95 کیلومتر - در شب 85 کیلومتر

(3) در روزها 110 کیلومتر - در شب 95 کیلومتر

(4) در روزها 80 کیلومتر - در شب 90 کیلومتر

575- کدام گزینه صحیح است ؟

(1) در جاده های فرعی حداکثر میزان سرعت مجاز در شب 85 کیلومتر در ساعت می باشد

(2) در جاده های اصلی حداکثر میزان سرعت مجاز در روز 85 کیلومتر در ساعت می باشد

(3) ✓ در جاده های اصلی حداکثر میزان سرعت مجاز در شب 85 کیلومتر در ساعت می باشد

(4) در جاده های فرعی حداکثر میزان سرعت مجاز در روز 75 کیلومتر در ساعت می باشد

576- خطوط هاشور شکل به معنای .....

(1) عبور اطفال

(2) ✓ وجود موانع در راهها

(3) خط ایست

(4) عبور عابر پیاده

577- روشن بودن چراغ زرد در تقاطع به چه معناست ؟

(1) اگر راه باز باشد ادامه مسیر دهید

(2) ✓ در پشت خط ایست بایستد

(3) اگر افراد پیاده در حال عبور نباشند ادامه مسیر دهید

(4) آماده ادامه مسیر باشد

578- گواهینامه رانندگی را بنا به درخواست چه کسی باید ارائه نمود ؟

- 1) پس از وقوع حادثه به فرد دیگر تصادف
- 2) مامور ترافیک
- 3) بازرس اتومبیل
- 4) پلیس ترافیک ✓

579- برای رانندگی در راه حداقل پوشش بیمه قانونی مورد نیاز چیست ؟

- 1) بیمه بدنه اتومبیل
- 2) پوشش بیمه همه جانبه در همه موارد
- 3) بیمه شخص ثالث، آتش سوزی و سرقت
- 4) بیمه شخص ثالث ✓

580- برای رانندگی قانونی به کدام موارد طبق مقررات نیاز است ؟

- 1) کارت شناسایی، گواهینامه رانندگی، بیمه شخص ثالث و برگ معاینه فنی معتبر ✓
- 2) دفترچه مخصوص خودرو
- 3) دفترچه خودرو، گواهینامه رانندگی و مدرک شناسایی
- 4) برگ معاینه فنی، مدرک شناسایی و دفترچه خودرو

581- شما اولین نفری هستید که به محل تصادف می رسید کدام مورد را باید انجام دهید ؟

- 1) به محض اینکه اولین اتومبیل رسید از محل دور شود
- 2) موتور اتومبیل حادثه دیده را خاموش کنید، افراد زخمی را از اتومبیل خارج کنید و زخمی را با صحبت کردن آرام نماید ✓
- 3) اتومبیل ها را از محل حادثه کنار بکشید
- 4) محل را فوراً ترک کنید

582- برای کدام مورد زیر چراغهای هشدار دهنده خطر (فلاشر) باید روشن باشد؟

- (1) زمانی که لازم است در پیاده رو پارک کنید
- (2) زمانی که نیاز به جلب توجه سایر رانندگان دارید
- (3) زمانی که در بزرگراه سرعت خود را برای خطری که در جلوی راه قرار دارد کم می کنید ✓
- (4) زمانی که به صورت دابل پارک کرده اید

583- موتور سواران معمولاً نسبت به اتومبیل سواران آسیب پذیرترند، برای اینکه :

- (1) با سرعت بیشتری پیچ ها را طی می کنند
- (2) تغییرات سطح راه بر روی آنها تاثیرات بیشتری دارد ✓
- (3) نسبت به اتومبیل شتاب بیشتری می گیرند
- (4) سرعت آنها از اتومبیلها سریعتر است

584- برای کدام مورد زیر باید چراغهای خطر هشدار دهنده استفاده کرد؟

- (1) زمانی که اتومبیل شما دچار نقص فنی شده است و یا اینکه می خواهید به ترافیک پشت سر در مورد خطر اطلاع دهید و یا به صورت اضطرار در خطوط عبور مجبور به توقف هستید ✓
- (2) برای توقف
- (3) برای رویت و دقت بیشتر سایر رانندگان
- (4) زمانی که شما در یک منطقه ممنوعه پارک می کنید

585- در جاده اتومبیل شما دچار نقص فنی شده است. برای هشدار به وسایل نقلیه دیگر، تابلوی احتیاط را در چه فاصله ای از اتومبیل خود قرار می دهید؟

- (1) 70 متری ✓
- (2) 100 متری
- (3) 25 متری
- (4) 5 متری



- (1) دنده را تعویض کرده و سریعاً ترمز کنید
- (2) فرمان را شل بگیرید ولی محکم ترمز کنید
- (3) فرمان را به شدت و محکم بگیرید و اجازه دهید اتومبیل خودبخود توقف کند ✓
- (4) ترمز کرده و سریعاً توقف کنید

587- در راه دچار حادثه ای شده اید، در چه فاصله ای باید تابلوی احتیاط را قرار دهید؟

- (1) 5 متری
- (2) 100 متری
- (3) 25 متری
- (4) 70 متری ✓

588- شما چه زمانی چراغ هشدار دهنده خطر را روشن می نمائید؟

- (1) زمانی که شما در آب و هوای بد رانندگی می کنید
- (2) زمانی که شما در محل نا مناسب پارک کرده اید
- (3) زمانی که شما نمی توانید از توقف اجباری جلوگیری کنید ✓
- (4) زمانی که یک اتومبیل دارای نقص فنی را بکسل می کنید

589- اتومبیل شما در محل گذرگاه همسطح جاده و راه آهن خاموش شده و نمی توانید آن را روشن کنید، بوق هشدار قطار به صدا در می آید. چه کار می کنید؟

- (1) بر روی خط آهن جهت هشدار دادن به سوزن بان یا راه دار شروع به دویدن کنید
- (2) اتومبیل را حل داده و از محل تقاطع عبور کنید
- (3) از اتومبیل خارج شده و از تقاطع دور شوید ✓
- (4) سعی کنید موتور را روشن کنید

590- در حالیکه رانندگی می کنید لاستیک اتومبیل شما می ترکد. کدام مورد را باید انجام دهید؟

- (1) به آرامی کنار کشیده و در حاشیه توقف کنید. فرمان را با شدت و محکم بگیرید تا کنترل وسیله را حفظ کنید ✓

591- در آزادراهی لاستیک اتومبیل شما پنچر می شود چه کار می کنید؟

- (1) در همان محل متوقف می شوید
- (2) چراغ خطر را روشن کرده و در باند خودتان متوقف می شود
- (3) به آرامی در خط عبور توقف کرده و چرخ را هرچه سریعتر تعویض می کنید
- (4) در خط توقف اضطراری توقف می کنید ✓

592- مهمترین عامل تصادفات رانندگی چیست؟

- (1) اشتباهات رانندگان ✓
- (2) مسائل مکانیکی
- (3) شرایط جاده
- (4) شرایط آب و هوایی

593- به عنوان یک راننده جدید چگونه می توانید خطرات تصادف را کاهش دهید؟

- (1) با سبقت گرفتن از همه
- (2) با سرعت بیشتر از 50 کیلومتر در ساعت
- (3) با سرعت کمتر از 50 کیلومتر در ساعت
- (4) با کسب تجربه بیشتر ✓

594- چه کسانی قانونا مجاز به هدایت ترافیک هستند؟

- (1) هر کس که در ترافیک مردم را راهنمایی و کمک می کند
- (2) نیروهای کمکی
- (3) پلیس راهنمایی و رانندگی، پلیس مدرسه که مسئول کودکان در عبور از خیابان است، کارگران تعمیرات ✓
- (4) هر کسی که راننده وسیله نقلیه بزرگ را در دنده عقب گرفتن کمک و راهنمایی می کند

595- برای رانندگی قانونی به کدام موارد طبق مقررات نیاز است؟

- 1) کارت شناسی، گواهینامه رانندگی، بیمه شخص ثالث و برگ معاینه فنی معتبر ✓
- 2) دفترچه مخصوص خودرو
- 3) دفترچه خودرو، گواهینامه رانندگی، مدرک شناسایی
- 4) برگ معاینه فنی، مدرک شناسایی، دفترچه خودرو

596- در صحنه تصادفی جهت کمک توقف کرده اید، کدام مورد را انجام می دهید؟

- 1) افراد زخمی را با حرکت دادن و ادار به راه رفتن می کنید
- 2) محل را فوراً ترک می کنید
- 3) به افراد زخمی نوشیدنی گرم می دهید
- 4) افراد زخمی را گرم و در محل راحتی قرار می دهید، زخمیها را با صحبت کردن آرام می کنید ✓

597- کدام یک از موارد زیر عامل تصادف با اتومبیل جلویی است؟

- 1) تغییر نور چراغها
- 2) تراکم (ترافیک) وسایل نقلیه
- 3) عبور عابر پیاده در مناطق شهری و شلوغ
- 4) عدم توجه کافی به راه و نزدیک شدن بیش از حد به اتومبیل جلویی ✓

598- برای بهبود وضع ترافیک کدامیک از موارد زیر را باید انجام داد؟

- 1) اطاعت از فرامین پلیس
- 2) سه مورد فوق
- 3) رانندگی صحیح
- 4) رعایت قوانین مقررات عبور و مرور ✓

599- گواهینامه رانندگی یک سند رسمی است که تنها به ..... نشان داده می شود.

- 1) پلیس ترافیک ✓
- 2) همه موارد
- 3) مامور کنترل
- 4) بازرس اتومبیل

600- کدام مورد زیر علت تصادف با اتومبیل جلویی است؟

- 1) عبور عابر پیاده در مناطق شهری و شلوغ
- 2) عدم توجه کافی به راه و نزدیک شدن بیش از حد اتومبیل جلویی ✓
- 3) ترافیک وسایل نقلیه
- 4) تغییر نور چراغها

601- در راه دچار حادثه ای شده اید در چه فاصله ای باید تابلوی احتیاط را قرار دهید؟

- 1) 70 متری ✓
- 2) 30 متری
- 3) 80 متری
- 4) 50 متری

602- کدام بیمه برای خودرو الزامی است؟

- 1) بیمه شخص ثالث ✓
- 2) گزینه های 1 و 3 صحیح است
- 3) بیمه آتش سوزی
- 4) بیمه بدنه

603- کدامیک از موارد زیر عامل تصادف با اتومبیل جلویی است؟

- 1) تراکم وسایل نقلیه
- 2) تغییر نور چراغها
- 3) عبور عابر پیاده در مناطق سفری و شلوغ

## سوالات بخش 9 - بار و نحوه بارگیری

604- هر باری که بر روی باربند سقف اتومبیل حمل می شود باید:

✓ (1) محکم بسته شود

(2) زمانیکه کاملاً نیاز باشد حمل شود

(3) با یک پوشش پلاستیکی پوشیده شود

(4) تا حد امکان سبک باشد

605- قفل های خاص کودکان که در وسیله نقلیه نصب می شود برای چه منظوری است؟

(1) جهت قفل کردن سگک کمر بند ایمنی

(2) جهت ممانعت از حرکت صندلی های عقب و از حرکت آنها به جلو

✓ (3) برای اینکه کودکان به طور ناخواسته درب عقب اتومبیل را باز نکنند

(4) جهت قفل کردن پنجره های درب عقب

606- آیا اجازه دادن به کودکان برای نشستن در پشت صندلی های عقب اتومبیل های استیشن صحیح است؟

(1) بله، اگر بتوانید به راحتی آنها را در حال نشستن در آنجا ببینید

(2) بله، اگر زیر 11 سال باشند

(3) خیر، مگر آنکه سایر صندلی ها پر باشد

✓ (4) خیر، در هیچ شرایطی

607- چگونه می توانید از انحراف کاروان پشت اتومبیل به طرفین جلوگیری کنید؟

✓ (1) سرعت را به آرامی کم کنید

(2) فرمان اتومبیل را به آرامی به طرفین بپیچید

(3) تا حد امکان سریع توقف کنید

608- نحوه بارگیری تریلرها باید به نحوی باشد که :

- 1) بار عمدتا در نزدیکیهای چرخها بارگیری شود
- 2) بار عمدتا در بخش عقب قرار گیرد
- 3) بار در بخش جلوی تریلر قرار بگیرد
- 4) بارها به صورت متوازن توزیع و خوب بسته شوند ✓

609- اگر تریلر پشت اتومبیل به طرفین متمایل شود چه باید کرد ؟

- 1) فرمان را آزاد می گذارید تا اتومبیل خود پایدار شود
- 2) سرعت و شتاب اتومبیل را کم کنید ✓
- 3) سرعت را تا حد امکان بالا می برید
- 4) به شدت ترمز می کنید و پدال ترمز را پایین نگه می دارید

### سوالات بخش 10 - حق تقدم

610- در تقاطع روبرو حق تقدم وسایل نقلیه را تعیین کنید ؟

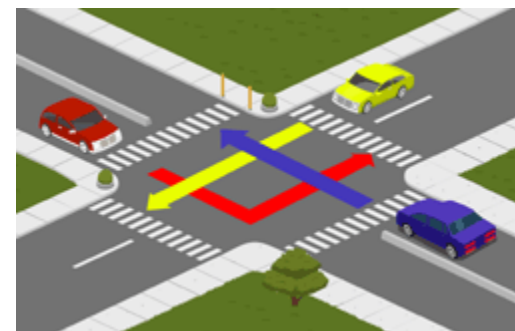
- 1) آبی - زرد - قرمز
- 2) قرمز - آبی - زرد
- 3) قرمز - زرد - آبی ✓
- 4) زرد - آبی - قرمز

دلیل پاسخ صحیح :

آبی - زرد - قرمز

611- در تقاطع روبرو حق تقدم وسایل نقلیه را تعیین کنید ؟

- 1) قرمز - آبی - زرد ✓



(2) زرد - آبی - قرمز

(3) قرمز - زرد - آبی

(4) آبی - قرمز - زرد

دلیل پاسخ صحیح :

حق تقدم با ماشین سمت راست می باشد

612- در تقاطع روبرو حق تقدم وسایل نقلیه را تعیین کنید ؟

(1) به ترتیب وسایل 3 - 2 - 1

(2) به ترتیب وسایل 1 - 2 - 3

(3) به ترتیب وسایل 3 - 1 - 2

(4) به ترتیب وسایل 1 - 3 - 2 ✓

613- در تقاطع روبرو حق تقدم وسایل نقلیه را تعیین کنید ؟

(1) دوچرخه - سواری سفید - سواری زرد ✓

(2) سواری زرد - دوچرخه - سواری سفید

(3) سواری سفید - سواری زرد - دوچرخه

(4) سواری زرد - سواری سفید - دوچرخه

614- در تقاطع روبرو حق تقدم وسایل نقلیه را تعیین کنید ؟

(1) سواری قرمز - دوچرخه - اتوبوس

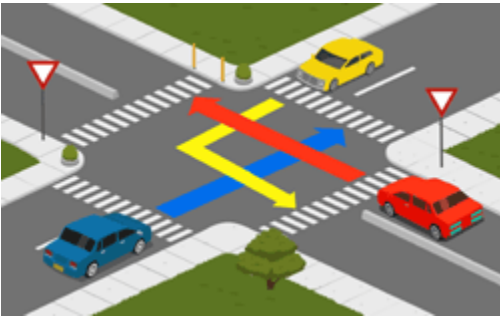
(2) اتوبوس - سواری قرمز - دوچرخه ✓

(3) سواری قرمز - اتوبوس - دوچرخه

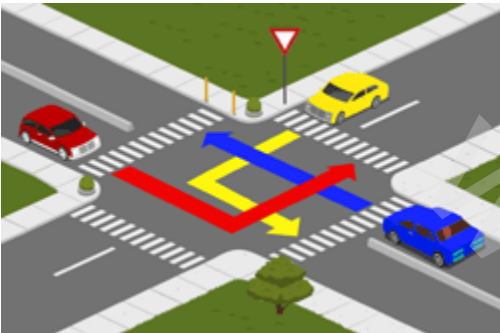
(4) هیچکدام نسبت به دیگری حق تقدم ندارند

615- در تقاطع روبرو حق تقدم وسایل نقلیه را تعیین کنید ؟

(1) قرمز - آبی - زرد

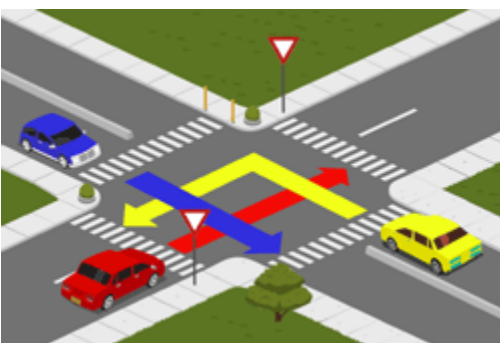


- (2) آبی - زرد - قرمز ✓
- (3) زرد - قرمز - آبی
- (4) آبی - قرمز - زرد



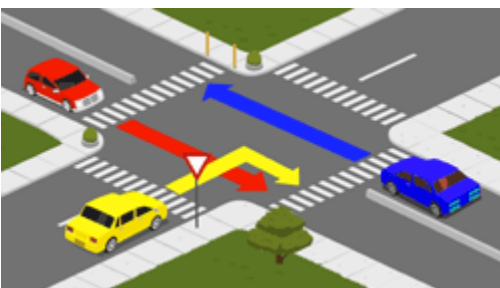
616- در تقاطع روبرو حق تقدم وسایل نقلیه را تعیین کنید؟

- (1) آبی - زرد - قرمز
- (2) قرمز - زرد - آبی
- (3) آبی - قرمز - زرد ✓
- (4) زرد - قرمز - آبی



617- در تقاطع روبرو حق تقدم وسایل نقلیه را تعیین کنید؟

- (1) آبی - قرمز - زرد
- (2) آبی - زرد - قرمز ✓
- (3) زرد - قرمز - آبی
- (4) زرد - آبی - قرمز



618- در تقاطع روبرو حق تقدم وسایل نقلیه را تعیین کنید؟

- (1) آبی - قرمز - زرد ✓
- (2) آبی - زرد - قرمز
- (3) قرمز - زرد - آبی
- (4) زرد - قرمز - آبی

619- در تقاطع روبرو حق تقدم وسایل نقلیه را تعیین کنید؟

- (1) کامیونت - دوچرخه - سواری ✓
- (2) سواری - کامیونت - دوچرخه



(3) سواری - دوچرخه - کامیونت

(4) دوچرخه - کامیونت - سواری

دلیل پاسخ صحیح :

حق تقدم در هر تقاطع اول با وسیله نقلیه سمت راست می باشد.

620- در تقاطع روبرو حق تقدم وسایل نقلیه را تعیین کنید ؟

(1) دوچرخه - سواری زرد - سواری قرمز

(2) سواری زرد - سواری قرمز - دوچرخه

(3) دوچرخه - سواری قرمز - سواری زرد ✓

(4) سواری قرمز - سواری زرد - دوچرخه

621- در تقاطع روبرو حق تقدم وسایل نقلیه را تعیین کنید ؟

(1) آبی - سبز - قرمز - زرد

(2) آبی - زرد - سبز - قرمز

(3) قرمز - سبز - آبی - زرد

(4) آبی - زرد - قرمز - سبز ✓

622- در تقاطع روبرو حق تقدم وسایل نقلیه را تعیین کنید ؟

(1) سواری - دوچرخه - کامیون ✓

(2) دوچرخه - سواری - کامیون

(3) کامیون - دوچرخه - سواری

(4) کامیون - سواری - دوچرخه

623- در تقاطع روبرو حق تقدم وسایل نقلیه را تعیین کنید ؟

(1) موتورسیکلت یا سواری (نسبت به هم تقدم ندارند)

(2) موتورسیکلت - سواری ✓

(3) هر دو

(4) سواری - موتورسیکلت

دلیل پاسخ صحیح :

در اینجا بحث بین موتورسیکلت و سواری است

624- در تقاطع روبرو حق تقدم وسایل نقلیه را تعیین کنید ؟

(1) سواری - اتوبوس - دوچرخه

(2) اتوبوس - سواری - دوچرخه

(3) هیچکدام نسبت به دیگری حق تقدم ندارند

(4) سواری - دوچرخه - اتوبوس ✓

دلیل پاسخ صحیح :

حق تقدم با وسیله سمت راست می باشد

625- در تقاطع روبرو حق تقدم وسایل نقلیه را تعیین کنید ؟

(1) سواری قرمز - دوچرخه - کامیون - سواری زرد

(2) دوچرخه - سواری زرد - کامیون - سواری قرمز

(3) دوچرخه - کامیون - سواری زرد - سواری قرمز ✓

(4) سواری زرد - سواری قرمز - دوچرخه - کامیون

626- در تقاطع روبرو حق تقدم وسایل نقلیه را تعیین کنید ؟

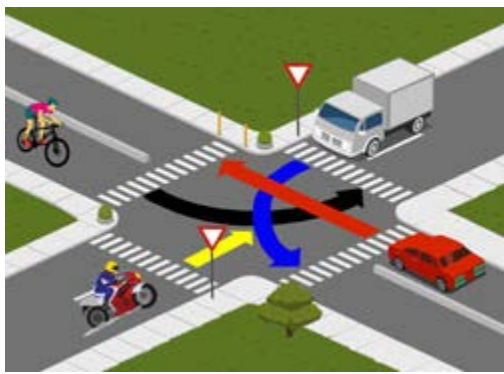
(1) دوچرخه - سواری آبی - سواری قرمز - کامیون

(2) دوچرخه - کامیون - سواری آبی - سواری قرمز ✓

(3) سواری قرمز - سواری آبی - کامیون - دوچرخه

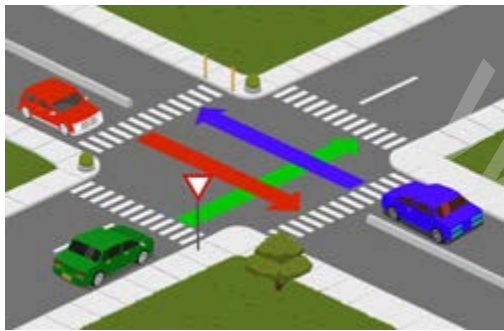
(4) سواری آبی - سواری قرمز - دوچرخه - کامیون

627- در تقاطع روبرو حق تقدم وسایل نقلیه را تعیین کنید ؟



- 1) سواری - دوچرخه - موتورسیکلت - کامیون ✓
- 2) دوچرخه - سواری - کامیون - موتورسیکلت
- 3) موتورسیکلت - کامیون - سواری - دوچرخه
- 4) سواری - موتورسیکلت - کامیون - دوچرخه

628- در تقاطع روبرو حق تقدم وسایل نقلیه را تعیین کنید ؟



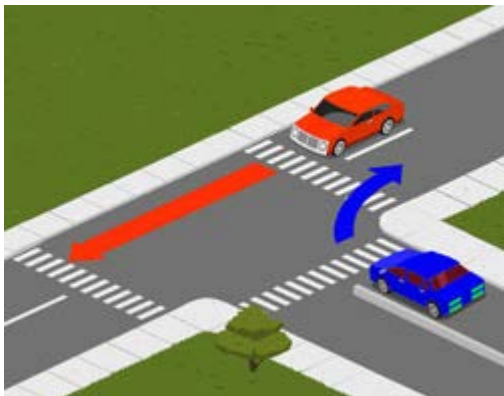
- 1) آبی - سبز - قرمز
- 2) قرمز - سبز - آبی
- 3) سبز - قرمز - آبی
- 4) آبی - قرمز - سبز ✓

629- در تقاطع روبرو حق تقدم وسایل نقلیه را تعیین کنید ؟



- 1) سواری - دوچرخه - آتش نشانی - اتوبوس
- 2) آتش نشانی - سواری - دوچرخه - اتوبوس
- 3) آتش نشانی - دوچرخه - اتوبوس - سواری
- 4) آتش نشانی - اتوبوس - دوچرخه - سواری ✓

630- در تقاطع روبرو حق تقدم وسایل نقلیه را تعیین کنید ؟



- 1) قرمز - آبی
- 2) قرمز یا آبی (نسبت به هم تقدم ندارند) ✓
- 3) آبی - قرمز
- 4) هر دو با هم

631- در تقاطع روبرو حق تقدم وسایل نقلیه را تعیین کنید ؟

1) دوچرخه - سواری - کامیون



(2) کامیون - سواری - دوچرخه

(3) سواری - دوچرخه - کامیون

(4) کامیون - دوچرخه - سواری ✓

632- در تقاطع روبرو حق تقدم وسایل نقلیه را تعیین کنید ؟

(1) آتش نشانی - سواری - کامیون - دوچرخه

(2) آتش نشانی - کامیون - سواری - دوچرخه

(3) آتش نشانی - کامیون - دوچرخه - سواری ✓

(4) کامیون - دوچرخه - آتش نشانی - سواری



633- در تقاطع روبرو حق تقدم وسایل نقلیه را تعیین کنید ؟

(1) آبی یا قرمز (نسبت به هم تقدم ندارند)

(2) آبی - قرمز ✓

(3) قرمز - آبی

(4) هر دو



634- در تقاطع روبرو حق تقدم وسایل نقلیه را تعیین کنید ؟

(1) به ترتیب وسیله 1 و بعد وسیله 2 ✓

(2) 1 یا 2 نسبت به هم حق تقدم ندارند

(3) به ترتیب وسیله 2 و بعد وسیله 1

(4) هیچکدام



635- در تقاطع روبرو حق تقدم وسایل نقلیه را تعیین کنید ؟

(1) هیچکدام نسبت به دیگری حق تقدم ندارند



- (2) آبی - قرمز - زرد
- (3) قرمز - زرد - آبی
- (4) زرد - قرمز - آبی ✓



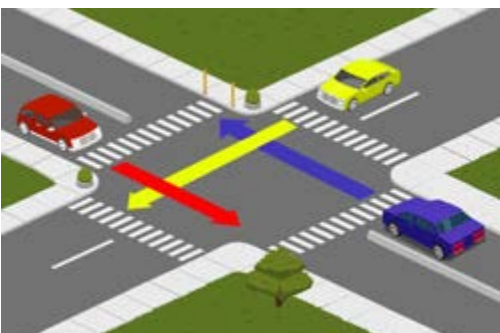
636- در تقاطع روبرو حق تقدم وسایل نقلیه را تعیین کنید ؟

- (1) آبی - زرد - قرمز
- (2) زرد - آبی - قرمز ✓
- (3) آبی - قرمز - زرد
- (4) زرد - قرمز - آبی



637- در تقاطع روبرو حق تقدم وسایل نقلیه را تعیین کنید ؟

- (1) به ترتیب وسایل 3 - 2 - 1
- (2) به ترتیب وسایل 2 - 3 - 1
- (3) به ترتیب وسایل 3 - 2 - 1 ✓
- (4) به ترتیب وسایل 1 - 3 - 2



638- در تقاطع روبرو حق تقدم وسایل نقلیه را تعیین کنید ؟

- (1) زرد - آبی - قرمز
- (2) قرمز - زرد - آبی ✓
- (3) آبی - زرد - قرمز
- (4) قرمز - آبی - زرد

639- در تقاطع روبرو حق تقدم وسایل نقلیه را تعیین کنید ؟

- (1) قرمز - آبی - زرد
- (2) آبی - قرمز - زرد



(3) زرد - آبی - قرمز

(4) زرد - قرمز - آبی ✓

640- در تقاطع روبرو حق تقدم وسایل نقلیه را تعیین کنید ؟



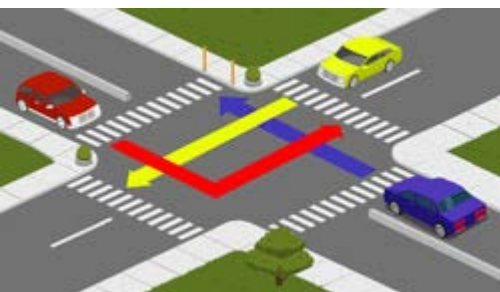
(1) موتورسیکلت - سواری

(2) سواری - موتورسیکلت ✓

(3) گزینه های 1 و 2 صحیح می باشند

(4) موتورسیکلت یا سواری (نسبت به هم تقدم ندارند)

641- در تقاطع روبرو حق تقدم وسایل نقلیه را تعیین کنید ؟



(1) آبی - زرد - قرمز

(2) زرد - آبی - قرمز ✓

(3) آبی - قرمز - زرد

(4) زرد - قرمز - آبی

دلیل پاسخ صحیح :

حق تقدم با ماشین سمت راست می باشد، این چهارراه تابلو حق تقدم ندارد در نتیجه اول زرد و سپس آبی و سپس قرمز زیرا می خواهد گردش به چپ کند

642- در تقاطع روبرو حق تقدم وسایل نقلیه را تعیین کنید ؟



(1) به ترتیب وسایل 1 یا 2 - 4 - 3

(2) به ترتیب وسایل 4 - 3 - 1 یا 2 ✓

(3) به ترتیب وسایل 2 - 3 - 4 - 1

(4) به ترتیب وسایل 1 - 2 - 4 - 3



- (1) به ترتیب وسایل 1 - 2 - 3 - 4
- (2) به ترتیب وسایل 2 - 3 - 4 - 1
- (3) به ترتیب وسایل 3 - 2 - 1 - 4 ✓
- (4) به ترتیب وسایل 4 - 3 - 1 - 2

644- در تقاطع روبرو حق تقدم وسایل نقلیه را تعیین کنید؟



- (1) قرمز - زرد - آبی
- (2) زرد - قرمز - آبی
- (3) زرد - آبی - قرمز
- (4) قرمز - آبی - زرد ✓

645- در تقاطع روبرو حق تقدم وسایل نقلیه را تعیین کنید؟



- (1) آبی - سفید - سبز یا قرمز ✓
- (2) آبی - سفید - سبز - قرمز
- (3) سبز - آبی - قرمز - سفید
- (4) سفید - سبز - آبی - قرمز

646- در تقاطع روبرو حق تقدم وسایل نقلیه را تعیین کنید؟



- (1) آبی - قرمز - زرد
- (2) زرد - آبی - قرمز
- (3) زرد - قرمز - آبی ✓
- (4) هیچکدام

647- در تقاطع روبرو حق تقدم وسایل نقلیه را تعیین کنید؟

- (1) قرمز - زرد - آبی
- (2) قرمز - آبی - زرد



- (3) آبی - قرمز - زرد ✓  
 (4) زرد - آبی - قرمز

648- در تقاطع روبرو حق تقدم وسایل نقلیه را تعیین کنید ؟



- (1) زرد - قرمز - آبی  
 (2) آبی - زرد - قرمز  
 (3) قرمز - آبی - زرد ✓  
 (4) قرمز - زرد - آبی

649- حق تقدم وسایل نقلیه در میدان هایی که هیچ گونه علامت و چراغ راهنمایی و رانندگی وجود نداشته باشد چگونه است ؟

- (1) هرگاه دو یا چند وسیله نقلیه از دو یا چند راه مختلف به میدان برسند حق تقدم با وسیله ایست که در طرف راست وسیله نقلیه دیگر باشد  
 (2) هنگام ورود به میدان ها حق تقدم با وسایل نقلیه ایست که سمت راست آن باشد  
 (3) هنگام ورود به میدان ها حق تقدم با وسایل نقلیه ایست که درون میدان در حال حرکت است ✓  
 (4) هنگام ورود به میدان ها حق تقدم با وسایل نقلیه ایست که مستقیم می رود

650- در شکل زیر حق تقدم عبور با کدام وسیله نقلیه است ؟



- (1) قرمز - مشکی  
 (2) سفید - مشکی  
 (3) مشکی - سفید ✓  
 (4) همه با هم

651- در شکل رو به رو حق تقدم با کدام وسیله است ؟

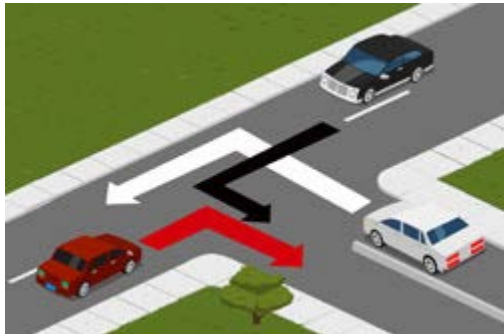
- (1) قرمز ✓



(2) سفید

(3) مشکی

(4) همه با هم



652- حق تقدم عبور در تصویر مقابل با کدام است ؟

(1) اتومبیل سیاه رنگ ✓

(2) اتومبیل سفید شماره 2

(3) اتومبیل سفید شماره 1

(4) حق تقدم برای همه یکسان است



653- در شکل مقابل تقاطع هم عرض می باشد، حق تقدم با کدام وسیله نقلیه است ؟

(1) مشکی ✓

(2) سفید

(3) قرمز

(4) همه با هم



654- کدام یک از وسائل زیر نسبت به اتومبیل در حال حرکت حق تقدم دارد ؟

(1) وسیله ی نقلیه ای که قصد عقب و جلو کردن دارد

(2) وسیله نقلیه متوقفی که در حال شروع حرکت برای دور زدن است

(3) وسیله نقلیه متوقفی که شروع به حرکت می کند

(4) هیچکدام ✓

655- برای پارک کردن در کنار خیابان حق تقدم با وسیله ای است که :

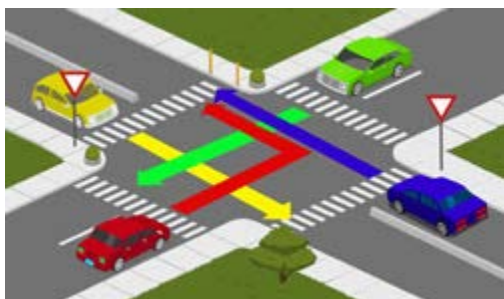
(1) چراغ خطر دنده عقب اتومبیلش روشن باشد

(2) با حرکت به جلو مشغول پارک کردن است

656- حق تقدم عبور عبارتست از:

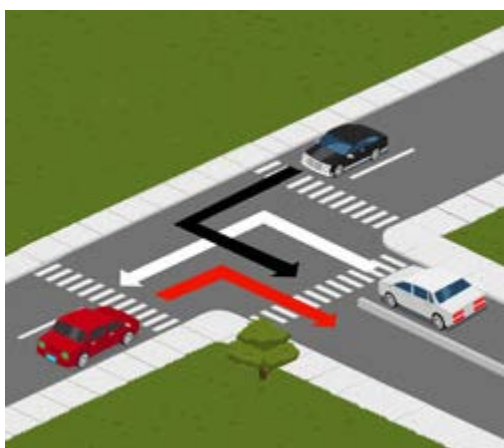
- 1) ترتیب عبور و مرور در چهار راهها
- 2) اولویت در عبور از چراغ های راهنمایی
- 3) رعایت حقوق رانندگان دیگر
- 4) اولویت حق عبور وسیله نقلیه ای که زودتر از وسایل نقلیه دیگر یا از پیاده ها و بالعکس ✓

657- در تقاطع روبرو حق تقدم وسایل نقلیه را با ذکر رنگ معین نمایید.



- 1) آبی - زرد - سبز - قرمز
- 2) قرمز - زرد - سبز - آبی
- 3) سبز - قرمز - آبی یا زرد با هم ✓
- 4) سبز - آبی - قرمز - زرد

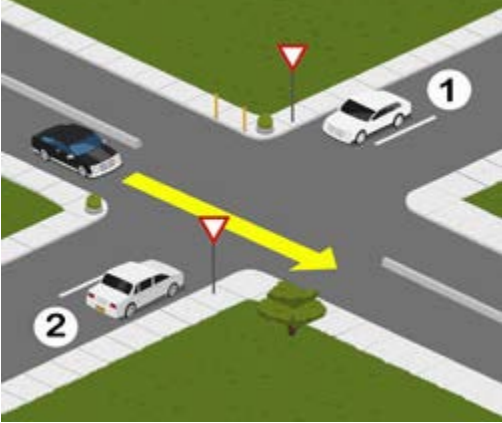
658- در شکل مقابل حق تقدم با کدام وسیله است ؟



- 1) سفید
- 2) قرمز ✓
- 3) مشکی
- 4) همه با هم

659- حق تقدم عبور در شکل مقابل با کدام وسیله است ؟

- 1) اتومبیل سفید شماره 2
- 2) اتومبیل سفید شماره 1
- 3) اتومبیل مشکی رنگ ✓
- 4) حق تقدم همه یکسان است



660- وسیله نقلیه ای که در مسیر مجاز در حال حرکت است حق تقدم عبور دارد بر .....

- (1) وسیله نقلیه در حال جلو رفتن (عقب، جلو کردن)
- (2) وسیله نقلیه در حال دور زدن
- (3) وسیله نقلیه در حال توقف یا در حال شروع حرکت
- (4) هر سه موارد صحیح است ✓

661- برای پارک کردن در کنار خیابان حق تقدم با وسیله ای است که :

- (1) چراغ خطر دنده عقب اتومبیلش روشن باشد
- (2) با حرکت به جلو مشغول پارک کردن است
- (3) ضمن حرکت به عقب مشغول پارک کردن است ✓
- (4) هیچکدام

662- در تصویر روبرو حق تقدم عبور به ترتیب عبارت است از :

- (1) مشکی - سفید - قرمز
- (2) سفید - قرمز - مشکی
- (3) مشکی - قرمز - سفید
- (4) سفید - مشکی - قرمز ✓

دلیل پاسخ صحیح :

زیرا در مسیر ماشین قرمز تابلو وجود دارد



(1) خودروی مشکی

(2) عابر پیاده ✓

(3) خودروی سفید



www.CarGeek.ir