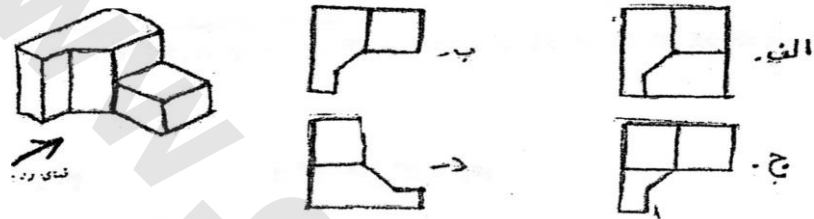


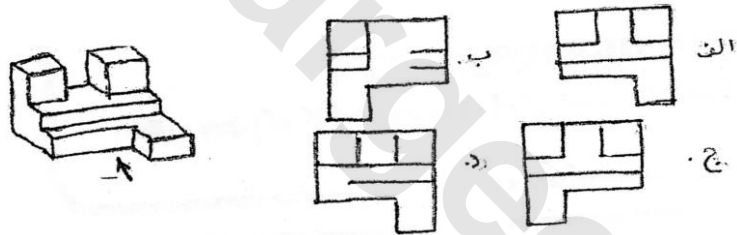
فصل هشتم

مجموعه سؤالات نقشه کشی صنعتی

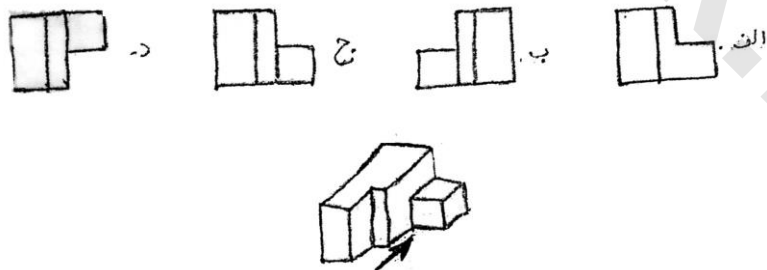
۱- کدام نمای بالا صحیح است؟



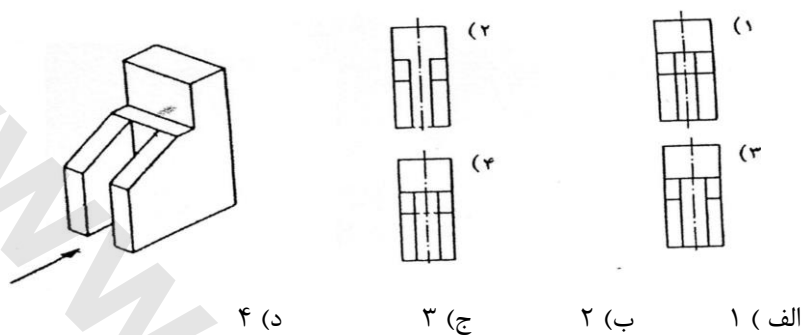
۲- با توجه به شکل های داده شده کدام نمای بالا صحیح است؟



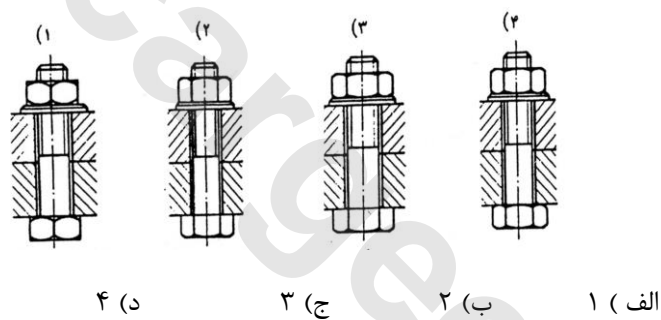
۳- با توجه به شکل های داده شده و جهت فلش کدام نمای روبرو صحیح است؟



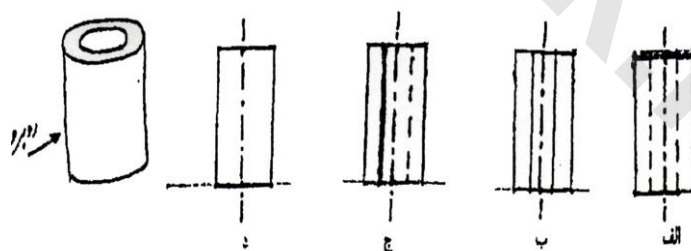
۴- نمایش صحیح از جهت دید فلش کدام است؟



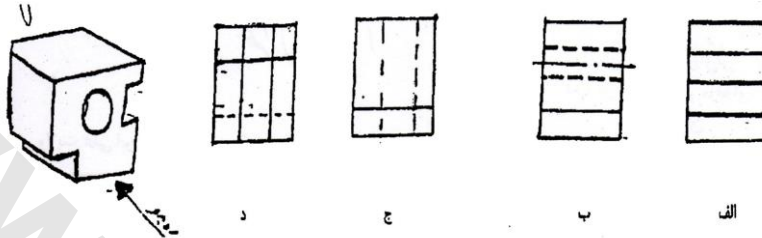
۵- در کدام شکل اتصال پیچ مطابق استاندارد رسم شده است؟



۶- با توجه به جهت دید کدام تصویر صحیح است؟



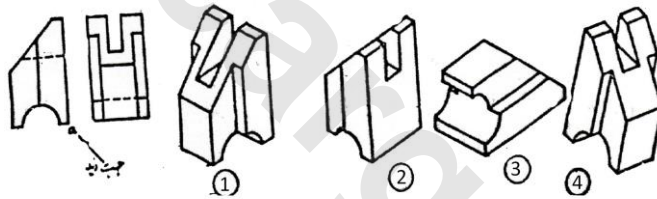
۷- با توجه به جهت دید نمای جانبی شکل داده شده را مشخص کنید؟



۸- کاغذ A5 چه اندازه می باشد؟

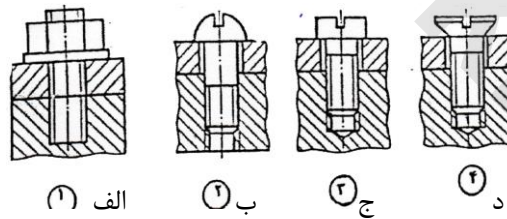
- الف)  $210 \times 297$  (ب)  $210 \times 148$  (ج)  $200 \times 297$  (د)  $210 \times 270$

۹- کدامیک از تصاویر پرسپکتیو جسم داده شده از جهت a می باشد؟

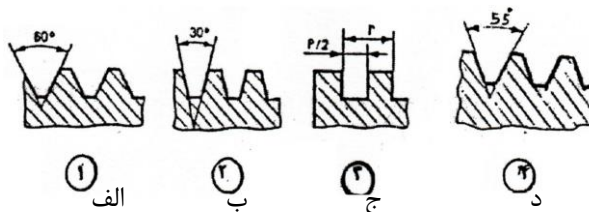


- الف) ۱ (ب) ۲ (ج) ۳ (د) ۴

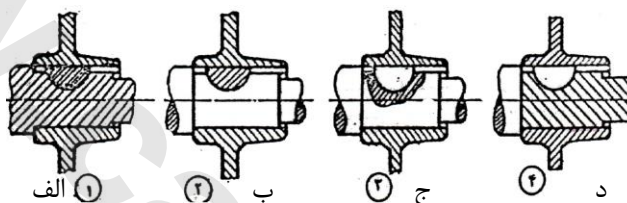
۱۰- کدامیک از شکل های زیر صحیح می باشد؟



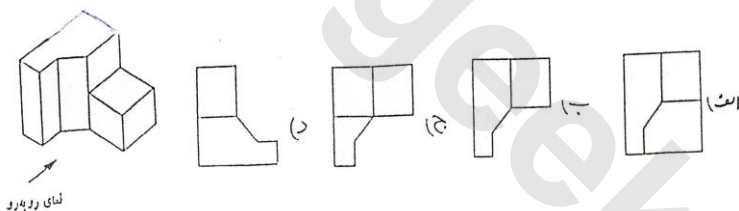
۱۱- در شکل‌های زیر کدام گزیننه دندان‌ه متریک را نشان می‌دهد؟



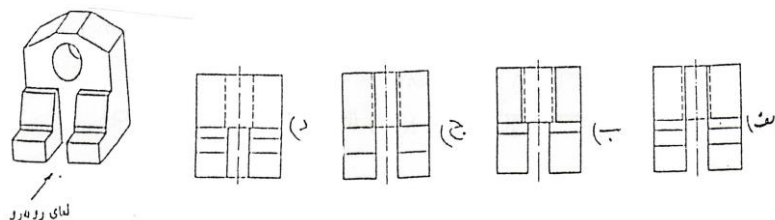
۱۲- کدام یک از برش‌های اتصال محور صحیح است؟



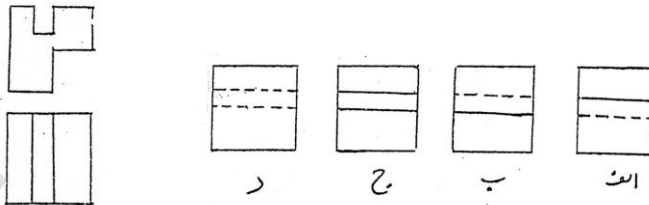
۱۳- پرسپکتیو روبه‌رو رادر جهت پیکان می بینیم. کدام شکل نمای افقی صحیح را در این جهت نشان می‌دهد؟



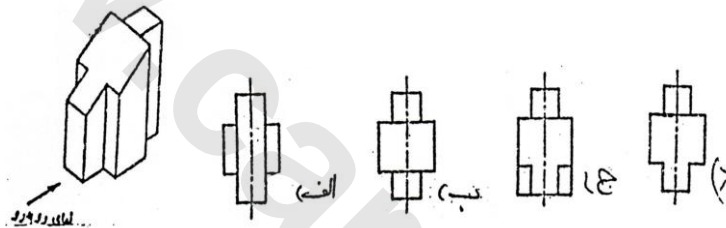
۱۴- پرسپکتیو روبه‌رو رادر جهت پیکان می بینیم. کدام شکل نمای افقی صحیح را در این جهت نشان می‌دهد؟



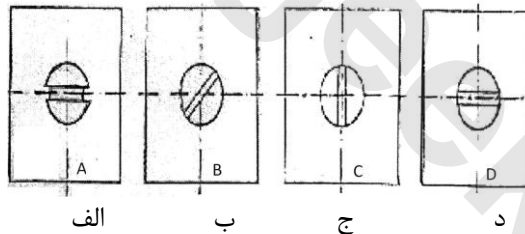
۱۵- نمای جانبی صحیح کدام است؟



۱۶- کدام یک از تصاویر زیر نمای از بالای پرسپکتیو را نشان می دهد؟



۱۷- کدام یک از ترسیمات زیر شیار پیچ را مطابق استاندارد نشان داده است؟



۱۸- سایز ورق A4 چقدر است؟

الف)  $210 \times 297$       ب)  $210 \times 148$       ج)  $200 \times 297$       د)  $210 \times 270$

۱۹- نام نقشه‌ای که برای ساخت قطعات ابتدا با دست آزاد رسم می کنند، چیست؟

الف) اسکچ      ب) شماتیک      ج) اختصاری      د) هندسی

۲۰- تصویر پاره خطی که بر صفحه تصویر عمود باشد ..... .

- (الف) از اندازه‌ی خط کوچک‌تر است  
(ب) از اندازه‌ی پاره خط بزرگ‌تر است.  
(ج) یک نقطه می‌باشد  
(د) با اندازه‌ی پاره خط مساوی است.

۲۱- تصویر سطحی که با صفحه تصویر موازی باشد ..... .

- (الف) از اندازه صفحه کوچک‌تر است  
(ب) از اندازه واقعی صفحه بزرگ‌تر است.  
(ج) با اندازه واقعی صفحه برابر است  
(د) با اندازه واقعی صفحه برابر نیست

پاسخ تستی سؤالات فصل هشتم  
مجموعه سؤالات نقشه کشی صنعتی

ردیف	الف	ب	ج	د
1				
2				
3				
4				
5				
6				
7				
8				
9				
10				
11				
12				
13				
14				
15				
16				
17				
18				
19				
20				
۲۱				

پاسخ تشریحی فصل هشتم (برای سؤالات نامفهوم)  
مجموعه سؤالات نقشه‌کشی صنعتی

۱۹- شکلی که با دست و فقط برای نشان دادن نمای کلی و اندازه‌ها رسم می‌شود نقشه دستی اولیه یا اسکچ نام دارد.

۲۰- یک پاره‌خط که به صورت عمود بر صفحه قرار دارد از نمای بالا فقط به صورت یک نقطه دیده می‌شود.